



Geografia

Discursiva > 3º dia





U
F
R
N

2
0
0
3

Instruções

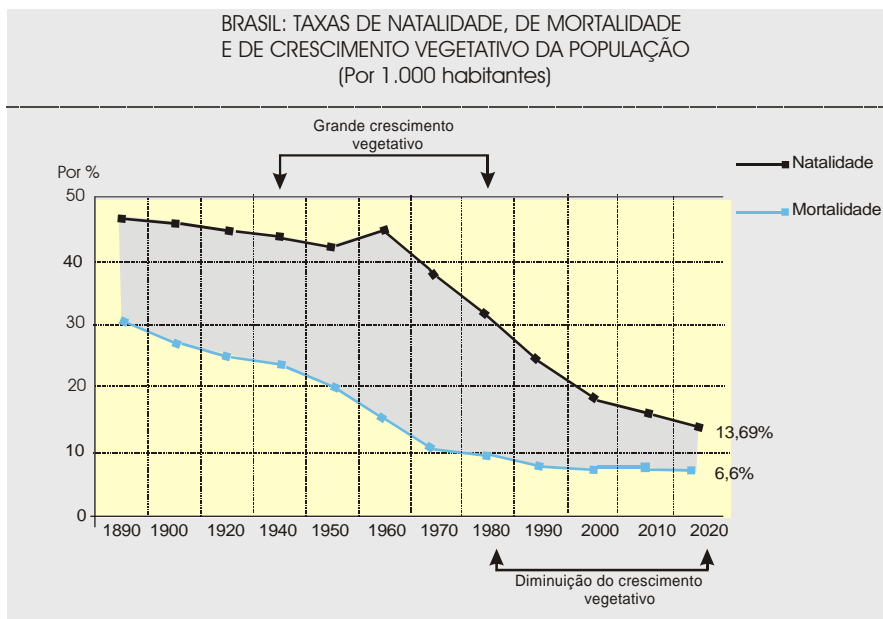
1.	Só se identifique na parte inferior desta capa. Sua prova será anulada se contiver qualquer marca identificadora fora desse local.
2.	Este caderno contém 05 questões. Se estiver incompleto ou com defeito que prejudique a leitura, peça imediatamente ao fiscal que o substitua.
3.	Escreva as respostas e os rascunhos com a caneta entregue pelo fiscal.
4.	Para fazer os rascunhos, use o verso da capa e qualquer página em branco desta prova.
5.	Você será avaliado exclusivamente por aquilo que escrever dentro do espaço destinado a cada resposta, não podendo, portanto, ultrapassar o espaço delimitado.
6.	Escreva de modo legível. Dúvida gerada por grafia, sinal ou rasura implicará redução de pontos durante a correção.

Identificação do Candidato

Nome (em letra de forma)		Nº da Inscrição	
			
Nº da sala	Assinatura		
			

Questão 1

A dinâmica do crescimento demográfico brasileiro tem apresentado, ao longo da história, períodos de elevado e de baixo crescimento vegetativo, como mostra a figura abaixo.



Adaptado de: ADAS, Melhem; ADAS, Sérgio (colaborador). **Panorama geográfico do Brasil: contradições, impasses e desafios socioespaciais**. São Paulo: Moderna, 1998, p. 473.

Considerando essa dinâmica e os dados acima, atenda às solicitações que seguem.

- A) Justifique por que o progresso da medicina contribuiu para o crescimento vegetativo no período indicado na figura.
- B) Explique como se dá a influência da urbanização no processo de diminuição do crescimento vegetativo.

RESPOSTA

Mais espaço para resposta na folha seguinte.

Continuação da resposta à questão 01.

Questão 2

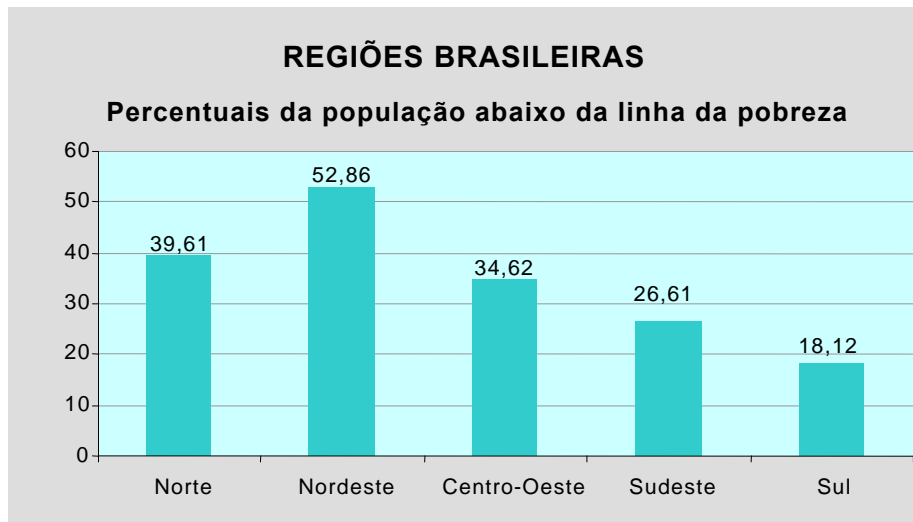
O sistema atmosférico apresenta uma dinâmica bastante complexa, envolvendo trocas de energia, em escala global, com os oceanos e os continentes. Para explicar o funcionamento desse sistema, os meteorologistas e os climatologistas vêm utilizando modelos numéricos, processados em supercomputadores, cujos resultados orientam as ações para o planejamento e a expansão de atividades econômicas, como a agricultura e o turismo.

Com base nessas informações, explique como o conhecimento da dinâmica atmosférica pode orientar o planejamento das ações direcionadas para a agricultura e para o turismo.

RESPOSTA

Questão 3

A figura a seguir apresenta dados percentuais, por região, da população brasileira que se encontra abaixo da linha de pobreza.



Adaptado de: Sônia Rocha. **Pobreza e desigualdade no Brasil**: o esgotamento dos efeitos distributivos do Plano Real. Rio de Janeiro, IPEA, 2000.

Dentre os fatores que contribuem para a acentuada diferença entre os percentuais da população que se encontra abaixo da linha de pobreza nas regiões Nordeste e Sul, estão a forma de ocupação do território e o modelo de desenvolvimento industrial.

Baseando-se em um desses fatores explique a diferença entre os níveis de pobreza nessas duas regiões.

RESPOSTA

Questão 4

Desde a década de 1950 que a atividade ceramista de produção de telhas e de tijolos vem sendo desenvolvida no Nordeste brasileiro. No Rio Grande do Norte, essa produção se localiza principalmente em três áreas: Grande Natal, Vale do Açu e Seridó.

No Seridó norte-rio-grandense, uma das áreas de menor índice pluviométrico do Estado, a atividade ceramista utiliza a lenha como principal fonte energética. Tendo por base esse dado, responda às questões propostas.

- A) Cite cinco impactos ambientais provocados pela atividade ceramista no domínio morfoclimático da caatinga nessa região.
- B) Explique por que a atividade ceramista é importante para a economia da região do Seridó.

RESPOSTA

Questão 5

O texto a seguir enfatiza mudanças socioespaciais decorrentes do processo de modernização da agricultura.

O mundo agrário passa por transformações significativas, que dizem respeito ao modo como suas atividades são conectadas ao movimento global de acumulação do capital. Está em curso uma nova forma de organização social e técnica das relações de produção capitalistas. A atividade agrícola é transformada a partir do alinhamento de algumas de suas atividades às redes mundiais. A intensidade e o ritmo dessas transformações fazem parte da aventura da conquista de tempo e do espaço pela modernidade. Nessa aventura, regiões e locais são atingidos, não só por patamares tecnológicos diferenciados, como também por um tipo de racionalidade que atravessa modos de ser, agir e pensar na sociedade.

(VITULE, Maria Luiza de Lima. **A agricultura moderna. São Paulo em Perspectiva**, vol.11, nº 2 – abr-jun – 1997, p.43)

Considerando as idéias expostas no texto, comente as mudanças que ocorreram nas relações de trabalho nos vales dos rios Açu e São Francisco, em decorrência da modernização da agricultura.

RESPOSTA