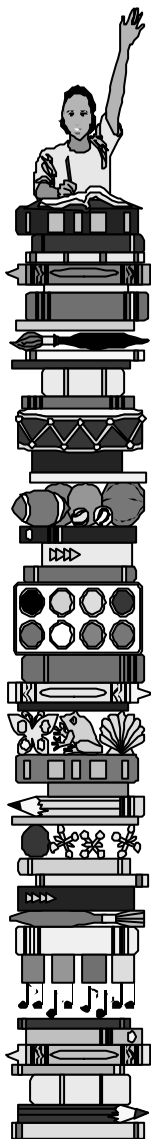


UFRN 2022

Geografia



Discursiva

3º dia

Instruções

1)	Só se identifique na parte inferior desta capa. Sua prova será anulada se contiver qualquer marca identificadora fora desse local.
2)	Este caderno contém 05 questões. Se estiver incompleto ou com defeito que prejudique a leitura, peça imediatamente ao fiscal que o substitua.
3)	Escreva as respostas e os rascunhos com a caneta entregue pelo fiscal.
4)	Para fazer os rascunhos, use o verso da capa e qualquer página em branco.
5)	Você será avaliado exclusivamente por aquilo que escrever dentro do espaço destinado a cada resposta, não podendo, portanto, ultrapassar o espaço delimitado.
6)	Escreva de modo legível. Dúvida gerada por grafia, sinal ou rasura implicará redução de pontos durante a correção.

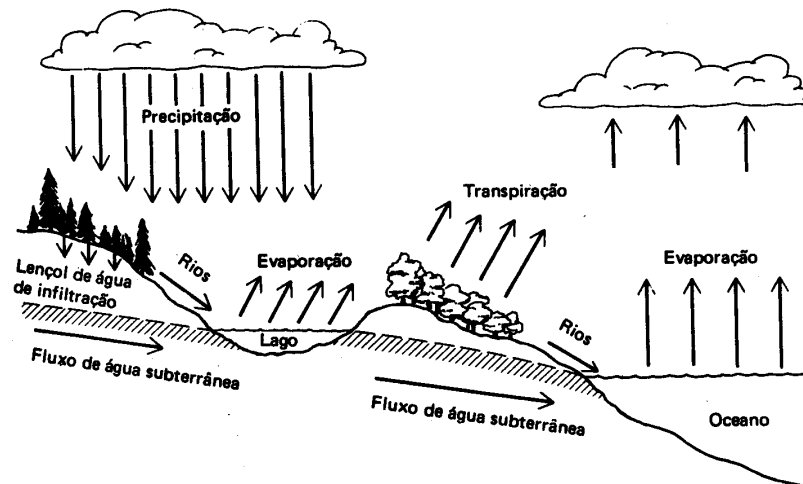
Identificação do Candidato

Nome (em letra de forma)		Nº da Inscrição	
.		.	
Nº da turma	Assinatura		
.	.		

Questão 1

A área da bacia Amazônica é uma das porções territoriais mais ricas em água superficial na Terra. Como toda bacia, depende do equilíbrio dos mecanismos de circulação da água. Na figura abaixo, estão representados esses mecanismos.

CICLO DA ÁGUA



Fonte: SEWELL, G. H. Administração e Controle da qualidade Ambiental. São Paulo: EPU/CEI/ESB, 1978. p. 37.

Considerando o ciclo da água, apresente duas consequências, para a bacia Amazônica, da retirada da cobertura vegetal nativa. Justifique sua resposta.

RESPOSTA

Questão 2

Nas últimas décadas do século XX, intensificou-se a utilização da mão-de-obra temporária no campo brasileiro.

Descreva o assalariamento temporário, destacando três de suas características.

RESPOSTA

Questão 3

No Brasil, a habitação é um dos problemas cruciais enfrentados por populações urbanas. Isso é mais evidente nas metrópoles.

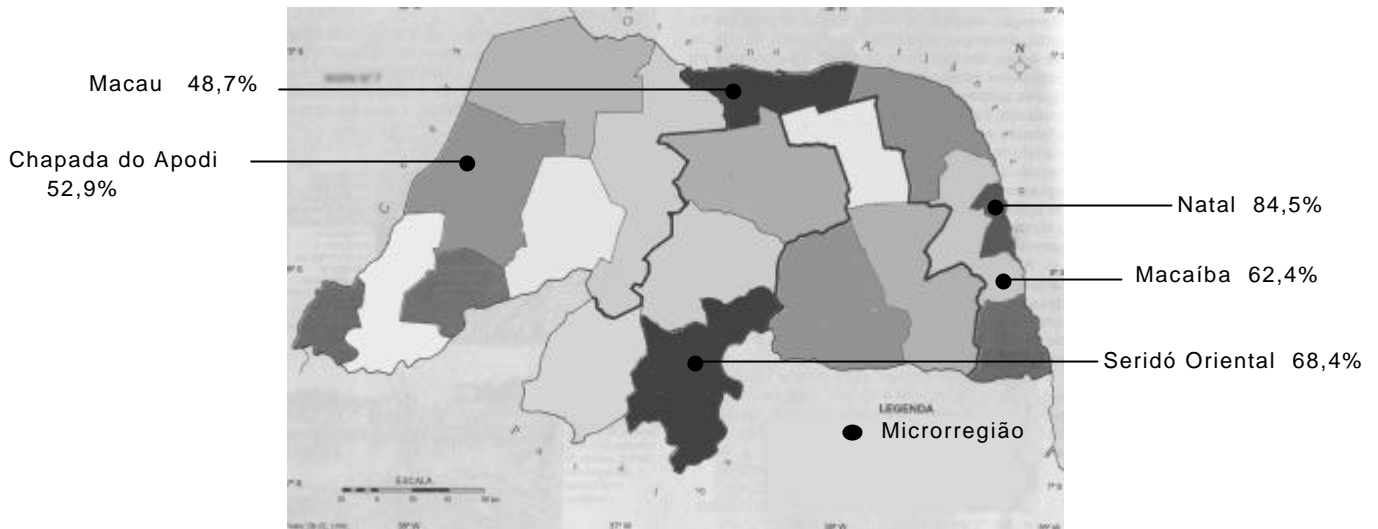
Cite dois aspectos do problema da moradia nas metrópoles brasileiras. Explique-os.

RESPOSTA

Questão 4

O mapa a seguir apresenta percentuais que indicam condições de vida das populações de microrregiões do Rio Grande do Norte.

Índice de Desenvolvimento Socioeconômico por microrregiões do Rio Grande do Norte*



*Os percentuais foram organizados a partir do Índice de Desenvolvimento Socioeconômico atribuído pelo Instituto de Desenvolvimento Econômico e Meio Ambiente do Rio Grande do Norte (IDEMA), em 1996, levando em consideração a disponibilidade de educação, saúde, renda, energia, por exemplo.

Compare as microrregiões de Macau e do Seridó Oriental, levando em consideração os percentuais apresentados e o desenvolvimento das atividades econômicas dessas microrregiões.

RESPOSTA

Questão 5

Os diversos setores da economia vêm apresentando mudanças significativas a partir das últimas décadas do século XX. Nos Estados Unidos e Canadá, por exemplo, essas mudanças podem ser observadas nos dados do quadro abaixo.

POPULAÇÃO OCUPADA POR SETORES DE ATIVIDADES - DE 1970 A 1997 (%)						
PAÍSES	Canadá			Estados Unidos		
Anos Setores	1970	1980	1997	1970	1980	1997
Primário	7,6	5,4	3,9	4,5	3,6	2,7
Secundário	30,9	28,5	23,2	34,4	30,5	23,9
Terciário	61,4	66,0	73,0	61,1	65,9	73,4

Fonte: Adaptado de L' État du Monde. 1995 e 1999.

A partir da análise dos dados fornecidos, cite dois fatores que influenciaram a mobilidade da população ocupada e explique por que tais fatores contribuíram para a ocorrência das mudanças.

RESPOSTA