

# CONCURSO VESTIBULAR UFBA - 1997

SERVIÇO DE SELEÇÃO, ORIENTAÇÃO E AVALIAÇÃO

anglo

**ARQUIVO**  
SECRETARIA COORDENAÇÃO

\* \* 1997

HISTÓRIA - GEOGRAFIA

GRUPO C  
2ª ETAPA - CADERNO 7

Nº DE INSCRIÇÃO

--	--	--	--	--	--

## INSTRUÇÕES

Para a realização destas provas, você recebeu este Caderno de Questões, uma Folha de Respostas destinada às questões objetivas e duas Folhas de Resposta destinadas às questões discursivas.  
**NÃO AMASSE, NÃO DOBRE, NÃO SUJE, NÃO RASURE ESTE MATERIAL .**

### 1. CADERNO DE QUESTÕES

- Verifique se este Caderno de Questões contém as seguintes provas:  
HISTÓRIA – 10 questões objetivas e 1 questão discursiva  
GEOGRAFIA – 10 questões objetivas e 1 questão discursiva.
- Registre seu número de inscrição no espaço reservado para esse fim, na capa deste Caderno.
- Qualquer irregularidade constatada neste Caderno deve ser imediatamente comunicada ao fiscal de sala.
- Neste Caderno, você encontra dois tipos de questão:

**Objetiva de proposições múltiplas** – questão contendo 5, 6 ou 7 proposições, indicadas pelos números 01, 02, 04, 08, 16, 32, 64.

Para responder a esse tipo de questão, você deve:

- identificar as proposições verdadeiras;
- somar os números a elas correspondentes;
- marcar, na Folha de Respostas, os dois algarismos que representam o número resultante da soma das proposições verdadeiras.

**UMA PROPOSIÇÃO FALSA, SE CONSIDERADA VERDADEIRA, ANULA TODA A QUESTÃO.**

**Discursiva** – questão que permite ao candidato buscar a solução para um problema proposto, demonstrando sua capacidade de produzir, integrar e expressar idéias.

### 2. FOLHA DE RESPOSTA DESTINADA À QUESTÃO DISCURSIVA

- Essa Folha de Resposta é pré-identificada; confira os dados registrados no cabeçalho e assine com caneta esferográfica de TINTA AZUL-ESCURO, no espaço indicado.
- Nessa Folha de Resposta, você só deve utilizar o espaço reservado à resposta, o suficiente para resolver o problema (no máximo 30 linhas).
- O rascunho não deve nela ser feito; neste Caderno, você encontra espaço a ele destinado.

### 3. FOLHA DE RESPOSTAS DESTINADA ÀS QUESTÕES OBJETIVAS

- Essa Folha de Respostas é pré-identificada; confira os dados registrados no cabeçalho e assine com caneta esferográfica de TINTA AZUL-ESCURO. Não ultrapasse o espaço reservado para esse fim.
- Nessa Folha de Respostas, cada questão está representada por um número, abaixo do qual se encontram colunas paralelas com números de 0 a 9, que possibilitam a marcação de qualquer resposta numérica inteira de 00 a 99.
- Faça a marcação preenchendo os espaços correspondentes aos algarismos da resposta encontrada, com caneta esferográfica de TINTA AZUL-ESCURO, de ponta grossa. Não ultrapasse os limites dos espaços.
- Para registrar a resposta a cada questão; marque, na coluna da direita, o algarismo correspondente à unidade e, na coluna da esquerda, o correspondente à dezena. Quando a resposta for um número menor que dez, marque zero na coluna da esquerda (Ex.: 03). Se a resposta for zero, marque zero nas duas colunas (Ex.: 00).
- A Folha de Respostas com marcações indevidas ou feitas a lápis não será processada.
- Marque o horário de término da prova no espaço indicado.

Exemplo da Marcação na Folha de Respostas:

01		02	
<input type="checkbox"/>	0000	<input type="checkbox"/>	<input type="checkbox"/>
<input type="checkbox"/>	0100	<input type="checkbox"/>	<input type="checkbox"/>
<input type="checkbox"/>	0200	<input type="checkbox"/>	<input type="checkbox"/>
<input type="checkbox"/>	0300	<input type="checkbox"/>	<input type="checkbox"/>
<input type="checkbox"/>	0400	<input type="checkbox"/>	<input type="checkbox"/>
<input type="checkbox"/>	0500	<input type="checkbox"/>	<input type="checkbox"/>
<input type="checkbox"/>	0600	<input type="checkbox"/>	<input type="checkbox"/>
<input type="checkbox"/>	0700	<input type="checkbox"/>	<input type="checkbox"/>
<input type="checkbox"/>	0800	<input type="checkbox"/>	<input type="checkbox"/>
<input type="checkbox"/>	0900	<input type="checkbox"/>	<input type="checkbox"/>

ESTAS PROVAS DEVEM SER RESPONDIDAS PELOS CANDIDATOS AOS  
CURSOS DO GRUPO **C**.

**GRUPO C**

Administração	Filosofia
Biblioteconomia e Documentação	Geografia
Ciências Contábeis	História
Ciências Econômicas	Museologia
Ciências Sociais	Pedagogia
Comunicação	Psicologia
Direito	Secretariado
Educação Física	

---

## HISTÓRIA

### QUESTÕES DE 01 A 10

**INSTRUÇÃO:** Assinale as proposições verdadeiras, some os números a elas associados e marque o resultado na Folha de Respostas.

#### Questão 01

Com referência ao desenvolvimento dos conhecimentos científicos na história da humanidade, é possível afirmar:

- (01) Na Grécia antiga, não havia clara distinção entre ciência e filosofia, dedicando-se os pensadores, ao mesmo tempo, às indagações filosóficas e às observações científicas.
- (02) Na Roma antiga, os estudos de medicina foram apoiados pelos imperadores, os quais incentivaram a construção de hospitais públicos e a criação de uma escola de medicina.
- (04) A capacidade de assimilação e sistematização de conhecimentos demonstrada pelos árabes levou-os a absorver a produção intelectual de outros povos, atrofiando seus próprios estudos e experiências científicas.
- (08) Na Idade Média, a ruralização da economia e a concentração da vida intelectual nos mosteiros resultou na subordinação da ciência à teologia, privilegiando o princípio da autoridade em detrimento da experimentação.
- (16) O crescimento demográfico registrado na Europa, na segunda metade do século XIX, resultou, entre outros fatores, dos avanços no campo da medicina, responsáveis pela identificação dos agentes transmissores de doenças como a tuberculose, a cólera e a lepra.
- (32) A divulgação de conhecimentos relativos ao controle de doenças transmissíveis, no Brasil do início do século XX, resultou na campanha da vacinação antivariólica obrigatória, que contou com o amplo apoio dos diversos segmentos da sociedade.



---

## Questão 02

Não é a primeira vez que se decreta o fim do capitalismo. Quando as bolsas de valores quebraram nos Estados Unidos, no crack de 1929, as economias da Europa se afundaram em crises por vários anos. A palavra globalização foi utilizada amplamente na época. Nos anos 70, em plena crise do petróleo, mais uma vez se vislumbrou o apocalipse. Nas crises da bolsa americana de 1987 e na recessão de 1990, enxergaram-se sinais de trincamento do sistema capitalista – mesmo sem ter mais o comunismo para se contrapor a ele.

(ALCÂNTARA, p. 101)

A análise do texto e os conhecimentos sobre a evolução do capitalismo permitem afirmar:

- (01) A primeira crise do capitalismo, registrada na década de 70 do século XIX, teve sua superação possibilitada pela expansão da dominação imperialista européia sobre regiões afro-asiáticas.
- (02) "...as economias da Europa se afundaram..." em consequência da insignificante produção industrial nos setores químicos, mecânicos e elétricos, existentes na Inglaterra, na França e na Alemanha.
- (04) A crise capitalista dos anos 70 deste século relacionou-se com a derrota norte-americana na Guerra do Vietnã e com a conseqüente elevação dos preços de armamentos, alimentos e fretes no mercado internacional.
- (08) A crise da bolsa norte-americana, em 1987, ameaçou o equilíbrio do sistema capitalista mundial, visto que a liderança dos Estados Unidos permanecia sem concorrentes, nas relações político-econômicas internacionais.
- (16) A crise que provocou a recessão dos anos 90 deste século influiu diretamente na economia brasileira, levando o Estado a adotar sucessivos planos econômicos, destinados a equilibrar o sistema financeiro nacional.
- (32) Os blocos econômicos transnacionais, que caracterizam as relações internacionais neste fim do século XX, constituem-se alternativas viáveis para a solução de problemas e crises macrorregionais, dificultando a permanência de projetos isolados.



---

### Questão 03

(...) a *Igreja-hierarquia* tem que entrar no campo político-ideológico, mas não se deixar de forma alguma envolver pela problemática partidária. A Igreja, para falar a todos, tem de estar acima dos partidos. Ela não deve ser uma agenciadora de política, mas, sim, assumir uma missão crítica, um papel de denúncia à *violência política*. É dever dos pastores denunciar os que contrariam os projetos divinos atinentes à comunidade humana. Sua tarefa, "sem questionar a própria identidade religiosa", é condenar a "tortura física e psicológica, os seqüestros, a perseguição de dissidentes políticos ou de suspeitos e a exclusão da vida pública por causa das idéias... a violência terrorista e guerrilha...".

(ANDRADE FILHO, p. 234-5))

A análise do texto e os conhecimentos sobre o papel da Igreja Católica na história permitem afirmar:

- (01) O movimento da Contra-Reforma, que caracterizou a ação da Igreja nos séculos XVI e XVII, opunha-se aos objetivos estabelecidos no texto, por ter adotado mecanismos de repressão material, ideológica, espiritual e política contra setores ligados ao protestantismo, ao judaísmo e ao islamismo.
- (02) A Constituição Civil do Clero, aprovada no início da Revolução Francesa, constituiu-se como modelo de separação entre a Igreja e o Estado, permitindo o desenvolvimento da "missão crítica" referida no texto.
- (04) O movimento ecumênico tem dificultado o diálogo entre a Igreja Católica e outros grupos religiosos, a exemplo de protestantes, judeus e ortodoxos, pois preconiza a manutenção do seu monopólio religioso sobre a sociedade.
- (08) O texto defende a existência de uma Igreja dissociada da questão política, concordando, nesse caso, com a prática do padroado, que, no Brasil-Império, separou a religião do poder do Estado.
- (16) Durante a vigência dos governos militares no Brasil, a omissão da "Igreja-hierarquia" frente às questões sociais e políticas contribuiu para a eficácia da repressão e do autoritarismo do Estado sobre a sociedade civil.
- (32) As idéias contidas no texto vão ao encontro de princípios básicos da Teologia da Libertação, movimento de renovação da Igreja Católica, voltado para a opção pelos pobres, para a análise crítica da sociedade e para a defesa dos oprimidos.



---

#### Questão 04

Sobre a formação e o papel dos partidos e grupos políticos, em diferentes momentos da história, é possível afirmar:

- (01) Os *tories* e os *wighs*, facções políticas que se constituíram na Inglaterra do século XVII e desempenharam papel relevante na formação e na crise do absolutismo inglês, deram origem aos atuais partidos Conservador e Liberal, respectivamente.
- (02) Na Revolução Francesa, os **girondinos**, representantes da burguesia, assumiram posições moderadas, temerosos da projeção política das classes populares, enquanto os **jacobinos**, representantes da pequena burguesia, operários e desvalidos, assumiram posições radicais, exigindo mudanças a favor dos oprimidos.
- (04) As expressões **direita** e **esquerda**, hoje utilizadas para caracterizar respectivamente posições reacionárias e revolucionárias, originam-se de conflitos entre facções políticas rivais, que disputavam o poder durante a Revolução Russa de 1917.
- (08) No Império brasileiro, os **liberais**, originários dos exaltados e restauradores, defendiam os interesses dos trabalhadores urbanos, camponeses e estrangeiros, enquanto os **conservadores**, representantes dos grandes proprietários, defendiam a manutenção da grande propriedade e do trabalho assalariado no campo.
- (16) A proclamação da República, no Brasil de 1889, resultou da ação efetiva e da propaganda do Partido Republicano, organizado no Rio de Janeiro e em São Paulo e difundido em todas as províncias do Império.
- (32) Durante a República Velha, os partidos políticos apresentavam um caráter nacional e democrático, expressando as reivindicações dos diferentes segmentos da sociedade.
- (64) Em regimes políticos totalitários, a presença do unipartidarismo garante a permanência no poder do grupo dominante, a imposição de sua ideologia, o controle da vida pública e a identificação e aniquilação das oposições.



---

### Questão 05

Este foi um país de escravos. O maior país de escravos dos tempos modernos, talvez. Ou, pelo menos, o país moderno mais dependente de escravos. Ou, pelo menos, o maior e mais dependente de escravos do continente americano.

(TOLEDO, p. 52)

A análise do texto e os conhecimentos sobre a escravidão, no Brasil, permitem afirmar:

- (01) Ao afirmar que "Este foi um país de escravos.", o texto sugere que a escravidão, já amplamente conhecida e utilizada em países europeus, na Idade Moderna, foi estendida naturalmente ao Brasil, em razão da inexistência de outras formas de relação de trabalho voltadas para a produção agrícola de exportação.
- (02) A dependência do trabalho escravo tem suas origens na escravidão do indígena, desenvolvida através de práticas diversas, entre elas a captura, o apresamento e a "guerra justa".
- (04) A partir do século XVIII, registra-se a ampliação do trabalho escravo em atividades urbanas, sobretudo nas áreas do artesanato, comércio ambulante e serviços, em razão do preconceito dos brancos contra o trabalho manual.
- (08) A solidariedade que aproximava escravos africanos e crioulos dificultava a utilização do trabalho escravo por negros libertos e facilitava a união da massa escrava em movimentos de rebeldia contra a dominação dos senhores.
- (16) A longa permanência da escravidão, no Brasil, decorreu, entre outros fatores, do caráter lucrativo do tráfico de escravos africanos, que beneficiava o Estado, os traficantes, os revendedores e os grandes proprietários.
- (32) Após a abolição da escravidão, as atividades econômicas, no Brasil, fundamentaram-se no trabalho livre e assalariado, o qual ainda carecia de regulamentação relativa aos benefícios e direitos reivindicados pelos trabalhadores.
- (64) No Brasil atual, após um século da extinção do trabalho escravo, verifica-se o desaparecimento de práticas semi-escravistas e semi-servi, no campo e na cidade, tendo em vista a rigorosa vigilância pelo cumprimento da legislação trabalhista ora em vigor.



---

### Questão 06

O que está provocando todo esse misto de ansiedade e ressentimento se chama globalização. É um processo de aceleração capitalista, num ritmo jamais visto, em que o produtor vai comprar matéria-prima em qualquer lugar do mundo onde ela seja melhor e mais barata. Instala a fábrica nos países onde a mão-de-obra fique mais em conta, não importa se no Vietnã ou na Guatemala. Vende a mercadoria para o mundo inteiro. Em resumo: o entrelaçamento econômico das paróquias é um processo que começou na Pré-História, mas sempre progrediu em marcha lenta. Neste momento, está na velocidade da luz...

(NASCIMENTO NETO, p. 81-2)

A análise do texto e os conhecimentos sobre relações internacionais no mundo atual permitem afirmar:

- (01) O texto caracteriza a globalização como um fenômeno internacional, próprio do capitalismo atual, que interliga, em maior ou menor grau, diferentes interesses econômicos mundiais.
- (02) O fenômeno da globalização, nos dias atuais, beneficia-se da aceleração propiciada pela difusão dos recursos da informática, permitindo a rapidez nos investimentos, nas transações financeiras e comerciais e nas informações culturais.
- (04) A crença, hoje generalizada, de que o fenômeno da globalização será responsável pela futura derrubada das fronteiras nacionais entra em contradição com o fortalecimento de sentimentos nacionalistas e particularistas, verificados atualmente em conflitos políticos, a exemplo dos da Bósnia e da Chechênia.
- (08) O "ritmo jamais visto" nas comunicações, que entrelaçam as diversas regiões do globo, é responsável pela diminuição acelerada das desigualdades entre países ricos e pobres, já perceptível na avaliação do nível de vida, realizada por organismos internacionais.
- (16) O nível de desemprego verificado no Brasil atual é uma consequência direta dos efeitos da globalização no mercado de trabalho de todas as regiões do país.



---

**Questão 07**

- I. "Acredita! Obedece! Luta! "
- II. "Quem tem aço tem pão! "
- III. "Mais canhão, menos manteiga! "
- IV. "Nada jamais foi ganho na história sem derramamento de sangue! "
- V. "É melhor um dia de leão do que cem anos de carneiro! "
- VI. "A guerra é para o homem o que a maternidade é para a mulher!"
- VII. "Um minuto no campo de batalha vale por uma vida inteira de paz!"
- VIII. "A liberdade é um cadáver em putrefação! "

(VICENTINO, p. 270)

A análise do texto e os conhecimentos sobre o militarismo em diferentes momentos da história permitem afirmar:

- (01) I exemplifica, na Antiguidade, os fundamentos da sociedade macedônica, voltada para a militarização de todos os homens, independentemente de sua classe social.
- (02) III, IV e VI aplicam-se à política de expansão industrial dos Estados Unidos no século XIX, que resultou na conquista de mercados consumidores de seus manufaturados, na América Latina.
- (04) II e IV podem ser relacionados à política desenvolvida por Bismarck, no processo de unificação da Alemanha, que exigiu a conquista de territórios pertencentes à Áustria, à França e à Dinamarca.
- (08) V, VI e VII representam as idéias militaristas dos regimes nazifascistas, nos quais o culto à força do Estado assume o valor mais elevado, minimizando a importância dos interesses individuais.
- (16) VIII aplica-se à prática corporativista que, organizando a sociedade em sindicatos, constituía-se em peculiaridade do nazismo alemão.
- (32) III e VII constituíram-se como ideologia fundamental da política externa dos governos militares que dominaram o Brasil de 1964 a 1985.
- (64) Todas as afirmativas contribuíram para a criação do comportamento político responsável, entre outros fatores, pelo clima de tensões que resultaram na eclosão da Segunda Guerra Mundial.



---

### Questão 08

A manutenção do caráter primário-exportador fortaleceu a subordinação da economia brasileira aos centros capitalistas hegemônicos, isto é, aqueles onde o processo de industrialização estava em desenvolvimento, como a Europa Ocidental e os Estados Unidos.

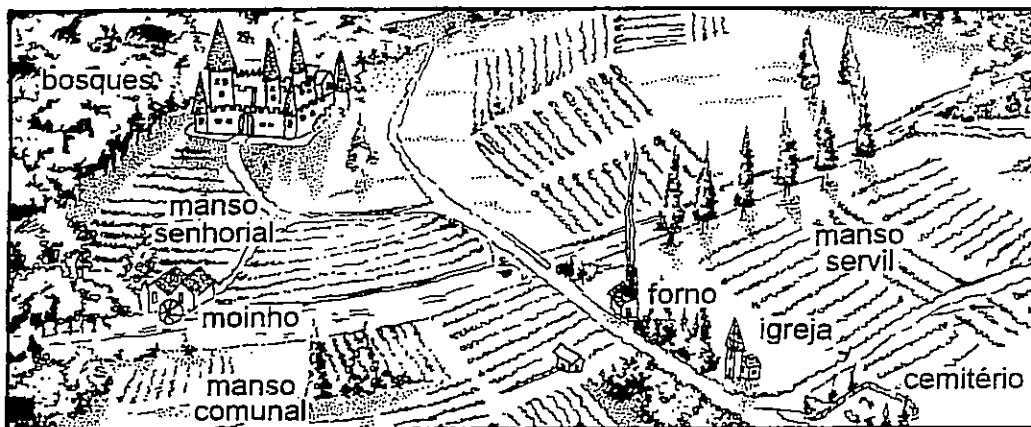
(ALBUQUERQUE, p. 268)

A análise do texto e os conhecimentos sobre a relação da economia brasileira com o capitalismo internacional permitem afirmar:

- (01) A subordinação referida no texto resulta também da especialização monocultora, da fragilidade da produção industrial e da dependência às oscilações do mercado externo que, entre a segunda metade do século XIX e início do século XX, caracterizaram a economia brasileira.
- (02) Os capitais estrangeiros, no Brasil da Primeira República, concentraram-se em investimentos na área da indústria de base e da siderurgia, permitindo a quebra do caráter dependente da economia nacional.
- (04) Os acordos financeiros firmados pelo Brasil com o Banco Rotschild, da Inglaterra, e com o Fundo Monetário Internacional contribuíram, tanto na Primeira República quanto nos governos militares, para o alcance da autonomia brasileira no setor da produção industrial.
- (08) Em meados do século XX, a subordinação referida no texto evidenciou-se na participação do Brasil no programa da Aliança para o Progresso, estabelecida pelos Estados Unidos com o objetivo de garantir suas exportações e impedir a expansão do comunismo no continente.
- (16) No Brasil dos anos 90 deste século, verifica-se a manutenção da política protecionista de reserva do mercado interno à produção nacional, dificultando-se as importações através da imposição de altas taxas alfandegárias.



Questão 09



A análise da gravura e os conhecimentos sobre a posse da terra no processo histórico permitem afirmar:

- (01) A gravura expressa uma modalidade de propriedade da terra denominada *beneficium*, cujas origens localizam-se na Baixa Idade Média.
- (02) No período histórico em que preponderou o tipo de propriedade expresso na gravura, a posse da terra era alcançada através de doações, herança, contratos de casamento e conquista militar.
- (04) O fortalecimento da pequena propriedade e a redistribuição dos feudos improdutivos aos pequenos proprietários enfraqueceram a aristocracia agrária, retardando a instalação da Revolução Industrial na Inglaterra.
- (08) O livre acesso do camponês à propriedade da terra constituiu-se um projeto presente na Revolução Francesa; já na Revolução Russa, esse acesso foi garantido através da organização de propriedades agrícolas coletivas.
- (16) As concepções e as práticas de reforma agrária, revolução agrária e cooperativas rurais, adotadas nas revoluções socialistas da China e de Cuba, contribuíram para a modificação, nesses países, dos princípios responsáveis pela concentração da propriedade da terra.
- (32) A estrutura de propriedade expressa na gravura transferiu-se integralmente para o Brasil colonial, consolidando-se pela distribuição de terras através dos sistemas de capitanias hereditárias, sesmarias, paróquias e aldeamentos.
- (64) A concentração que caracteriza a propriedade da terra, no Brasil atual, tem sido responsável pelos sucessivos conflitos com os trabalhadores sem terra e pelos prejuízos contra a preservação das reservas indígenas.



---

### Questão 10

No que se refere à história da Bahia, é possível afirmar:

- (01) O território do atual Estado da Bahia originou-se da incorporação das terras das antigas capitanias da Bahia de Todos os Santos, São Jorge dos Ilhéus, Porto Seguro, Itaparica e Paraguaçu.
- (02) O federalismo que se instalou na Bahia, com a Constituição Estadual de 2 de julho de 1891, representou a concretização de idéias federalistas já defendidas no Estado, desde os movimentos dos Malês e dos Alfaiates.
- (04) A repressão que culminou com a destruição do arraial de Canudos em 1897 atendeu, entre outros, aos interesses dos latifundiários do Nordeste baiano, temerosos com a possibilidade de perda de suas propriedades.
- (08) O rio São Francisco, importante via de comunicação do território baiano desde a época colonial, acha-se atualmente integrado ao projeto de preservação e renovação ambiental, responsável pela recuperação da navegação ao longo do seu curso.
- (16) A diversificação da economia agroindustrial da região cacaueteira baiana tem sido responsável pela redução dos efeitos negativos causados pela atual crise do cacau na vida de proprietários e trabalhadores.
- (32) O retardo no processo de industrialização da Bahia relaciona-se, entre outros fatores, com a longa permanência da economia agroexportadora e com a predominância do capital comercial na estrutura de produção do Estado.
- (64) As primeiras reformas urbanas responsáveis pela modificação do aspecto tradicional da cidade do Salvador ocorreram durante a década de 60 deste século, com a destruição de número expressivo de exemplares da arquitetura colonial.



---

## QUESTÃO DISCURSIVA

### INSTRUÇÕES:

- Responda com caneta de tinta azul, de forma clara e legível.
- Caso utilize letra de imprensa, destaque as iniciais maiúsculas.
- Utilize apenas o espaço destinado à resposta; o rascunho deve ser feito no local apropriado do Caderno de Questões.
- Será anulada a questão que não se atenha ao problema proposto, esteja assinada fora do local apropriado, possibilite a identificação do candidato, ou esteja escrita a lápis, ainda que parcialmente.

Após a queda da ditadura, o país retornava à *legalidade constitucional*, com a realização de eleições e a elaboração da nova Constituição. Mas – pode-se perguntar – *até que ponto as promessas unânimes de democratização iriam se concretizar?*

(ALENCAR, p. 286)

O texto acima refere-se ao período que se segue à queda do Estado Novo. Responda, analiticamente, à pergunta feita no final, destacando:

- a) dois aspectos teóricos e oficiais da redemocratização;
- b) três obstáculos ao cumprimento efetivo dos objetivos da redemocratização.

---

### RASCUNHO

---

## REFERÊNCIAS BIBLIOGRÁFICAS

- ALBUQUERQUE, Manuel Maurício de. *Pequena história da formação social brasileira*. Rio de Janeiro: Graal, 1981.
- ALCÂNTARA, Eurípedes. O capital que derrubou as fronteiras. *Veja*, São Paulo, n.13, 29 mar. 1995.
- ALENCAR, Francisco, CARPI, Lúcia, RIBEIRO, Marcus Venício. *História da sociedade brasileira*. Rio de Janeiro: Ao Livro Técnico, 1979.
- ANDRADE FILHO, Francisco Antônio de. *Igreja e ideologia na América Latina, segundo Puebla*. São Paulo: Paulinas, 1982.
- NASCIMENTO NETO, Antenor. A roda global. *Veja*, São Paulo, n.14, 3 abr. 1996.
- TOLEDO, Roberto Pompeu de. À sombra da escravidão. *Veja*, São Paulo, n. 20, 15 maio 1996.
- VICENTINO, Cláudio. *História geral*. 5 ed. São Paulo: Scipione, 1994.

## FONTE DA ILUSTRAÇÃO

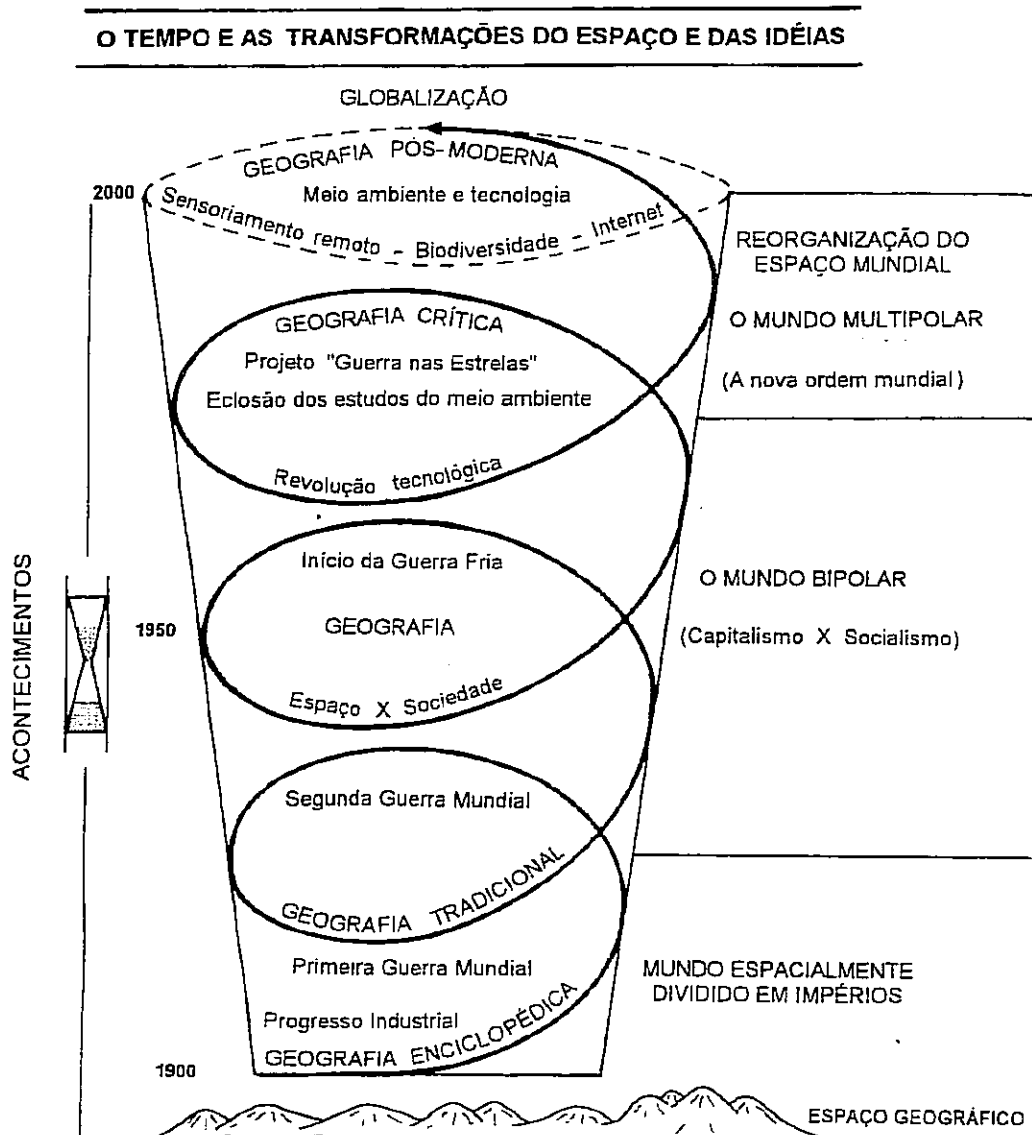
- VICENTINO, Cláudio. *História geral*. 5 ed. São Paulo: Scipione, 1994, p. 52. (Questão 09)

# GEOGRAFIA

## QUESTÕES DE 11 A 20

**INSTRUÇÃO:** Assinale as proposições verdadeiras, some os números a elas associados e marque o resultado na Folha de Respostas.

## QUESTÕES DE 11 A 13



---

### Questão 11

Com base em conhecimentos sobre a ciência geográfica, a regionalização do espaço mundial e as técnicas de conhecimento do território, é possível afirmar:

- (01) Os diversos modelos de regionalização do espaço mundial, na sua temporalidade e diversas tendências, permitiram à ciência geográfica introduzir novos métodos e técnicas de investigação do meio ambiente.
- (02) Os diferentes ambientes terrestres absorvem e emitem, diferenciadamente, energia, que é captada por satélites que realizam o trabalho de monitoramento através de imagens.
- (04) As possibilidades de utilização das técnicas de sensoriamento remoto têm proporcionado uma aplicação cada vez maior da Geografia em outras áreas do conhecimento humano.
- (08) A expressão "a Terra e o Homem", utilizada pela Geografia Tradicional, baseava-se na descrição do papel do homem em seu quadro natural, enfocando a realidade de uma forma descritiva.
- (16) A Geografia Crítica contrapõe-se à Geografia Tradicional, pois esta considera o espaço geográfico como produto do trabalho do homem, que transforma em segunda natureza a natureza original.
- (32) A regionalização do espaço mundial, baseada em critérios naturais, apóia-se nos postulados da Nova Geografia e apresenta grande complexidade, devido à dinâmica das transformações ambientais.
- (64) A regionalização do espaço mundial, com base em critérios socioeconômicos, está relacionada à ordem internacional prevalente num determinado momento histórico, ao equilíbrio instável entre os países e à disputa entre as grandes potências.



---

### Questão 12

Os conhecimentos sobre a Geopolítica e sobre as transformações do espaço geográfico mundial permitem concluir:

- (01) A espiral do tempo apresenta uma evolução crescente, onde cada acontecimento tem um referencial geográfico e um registro histórico, evidenciando as relações entre as variáveis tempo e espaço.
- (02) As transformações do espaço geográfico, ao longo do tempo, exigem constantes redefinições cartográficas, uma vez que elas representam a realidade de cada espaço em momentos históricos específicos.
- (04) Do ponto de vista geográfico, os dois grandes conflitos mundiais representaram momentos de desequilíbrio na ordem internacional, originando novas fronteiras e novos centros hegemônicos do poder.
- (08) A multipolaridade contemporânea contrapõe-se àquela do início do século, uma vez que hoje existe um fortalecimento do Estado-Nação e um enfraquecimento dos organismos internacionais de decisão política.
- (16) A rivalidade geopolítica entre as duas maiores potências, no período do pós-guerra, provocou a bipartição do espaço geográfico mundial em dois blocos antagônicos, prevalecendo, durante o período da Guerra Fria, de um lado, um setor de economia estatizada e planejada e, do outro, uma economia que catalisou a construção do capitalismo mundial.
- (32) A nova Divisão Internacional do Trabalho (DIT) foi resultado da implosão do socialismo, que teve origem na União Soviética e se expandiu por diversas áreas do globo, beneficiando, sobretudo, os países de economia periférica.



---

### Questão 13

Com base nos conhecimentos sobre a economia mundial, o processo de globalização e o progresso técnico-científico, pode-se afirmar:

- (01) As atividades econômicas de maior crescimento, nos dias atuais, são aquelas que transformam as matérias-primas em produtos manufaturados, em detrimento daquelas que produzem serviços, idéias e técnicas.
- (02) O taylorismo e o fordismo – aspectos importantes da Segunda Revolução Industrial do século XX – se baseiam, respectivamente, na organização do trabalho voltada para a maior produtividade, em menos tempo e na produção e consumo em massa.
- (04) Os Estados Unidos, apesar de serem atualmente a única superpotência militar do globo, não detêm a liderança econômica mundial, devido aos grandes déficits comerciais e orçamentários e ao agravamento das desigualdades sociais internas.
- (08) O processo de globalização que se verifica nos dias contemporâneos, associado à difusão internacional da notícia através de redes tipo Internet, exige um mundo cada vez mais unitário, fragmentando as fronteiras geopolíticas na conquista de uma unicidade tecnológica.
- (16) A expressão "aldeia global" sugere que, ao final do milênio, formou-se a comunidade mundial, concretizada com as realizações e as possibilidades de informação e comunicação abertas pela informática, ao tempo em que os entretenimentos e as idéias são produzidos, comercializados e consumidos como mercadorias, simultaneamente em todas as partes do mundo.
- (32) As questões ambientais, durante a organização bipolar do espaço mundial, ocuparam uma posição de vanguarda nas discussões políticas das grandes potências, despertando, assim, a consciência ecológica para a preservação dos recursos naturais.
- (64) A diversidade biológica, no contexto da questão ambiental, é uma condição fundamental para o desenvolvimento da biotecnologia, que corresponde a uma das indústrias mais promissoras da Terceira Revolução Industrial, que ocorre atualmente.



---

### Questão 14

Os conhecimentos sobre população, sua dinâmica e suas relações com o crescimento econômico permitem afirmar:

- (01) A taxa de crescimento real de uma população é o balanço resultante entre o número de nascimentos, a entrada de imigrantes e as perdas ocorridas em razão de morte e emigração.
- (02) Os movimentos migratórios, tanto nacionais como internacionais, resultam de circunstâncias sociais, econômicas e políticas, estando relacionados a grandes disparidades entre o local de origem e o de destino.
- (04) Do ponto de vista ocupacional, a população economicamente ativa (PEA) de um país corresponde àquele grupo que está efetivamente trabalhando, isto é, exercendo atividade remunerada.
- (08) Nos países subdesenvolvidos, a população economicamente ativa (PEA) tende a ser proporcionalmente maior, devido à maior percentagem de jovens em relação à população total.
- (16) As migrações pendulares correspondem ao deslocamento diário de trabalhadores de suas residências para os locais de trabalho e são típicas das grandes cidades industriais e metrópoles mundiais.
- (32) Embora o salário mínimo seja um importante indicador de renda para a população, seu valor efetivo, no Brasil, tem decrescido desde que se acelerou o processo urbano-industrial.
- (64) O crescimento da economia brasileira bem como a acumulação e a produção de riquezas têm contribuído para uma melhor distribuição de renda e menor concentração do capital nas mãos de uma minoria da população.



---

### Questão 15

Com base em conhecimentos sobre a geografia da circulação, pode-se afirmar:

- (01) As desigualdades regionais e intra-regionais geram fluxos constantes de mercadorias, capitais e população, responsáveis pela concretização da atividade produtiva, tornando os espaços interdependentes e integrados.
- (02) As vias de circulação e os sistemas de transporte são manifestações físicas necessárias que possibilitam a visualização do fluxo de bens, na paisagem.
- (04) Nos países subdesenvolvidos, as redes de transporte são sempre periféricas e convergentes para os portos exportadores, refletindo maior interdependência regional desses países e promovendo maior integração territorial.
- (08) O transporte rodoviário permite grande capacidade de carga, menor consumo proporcional de combustível e menor dependência do petróleo, tendo, portanto, custo operacional inferior ao do transporte ferroviário e hidroviário.
- (16) No Brasil, a substituição do modelo agroexportador por um modelo urbano-industrial, entre outros fatores, provocou a decadência da rede ferroviária e deu prioridade ao transporte rodoviário, impulsionado pela criação da Petrobrás e pelo desenvolvimento da indústria automobilística.
- (32) A maior densidade da rede de transportes, na faixa litorânea brasileira, especialmente nos estados do Sudeste e do Sul, reflete a intensidade dos fluxos que ocorrem nessa região.



### Questão 16

Com base em conhecimentos sobre o espaço industrial, no Brasil e no mundo, pode-se afirmar:

- (01) A indústria de bens de consumo precedeu a indústria pesada nos países industriais antigos, o que explica a distribuição preferencial daquele primeiro tipo de indústria junto às fontes de matérias-primas.
- (02) A industrialização tardia, típica dos países periféricos, tem como características principais: maior desenvolvimento das indústrias de base, predominância de capitais estrangeiros e tecnologia própria.
- (04) Um dos fatores marcantes relacionados à industrialização brasileira, ao final do século XIX, foi a presença de imigrantes estrangeiros, que foram os primeiros trabalhadores assalariados do país e os responsáveis pelo aumento inicial do mercado consumidor brasileiro.
- (08) A concentração industrial no Brasil Sudeste gerou uma nítida polarização do desenvolvimento nessa região, ao tempo em que acarretou desequilíbrios nas demais regiões do país, numa reprodução das mesmas relações internacionais existentes entre centro (países desenvolvidos) e periferia (países subdesenvolvidos).

- 
- (16) A economia brasileira, especialmente no setor industrial, vem sofrendo, nesta última década, algumas transformações típicas do capitalismo monopolista: maior concentração e centralização do capital, construção de conglomerados e crescente participação do Estado nas atividades econômicas.
- (32) As indústrias de ponta – eletrônica, informática, biotecnologia, entre outras – são geralmente localizadas longe dos núcleos metropolitanos, em subúrbios afastados ou pequenas cidades, contrapondo-se aos fatores tradicionais de localização industrial.
- (64) O "País do Sol Nascente", devido à vastidão do seu espaço geográfico, à forte concentração e densidade populacional, à ampla disponibilidade de tecnologia avançada e de recursos naturais abundantes, apresenta um crescimento econômico elevado, despontando como uma grande potência neste final de século.



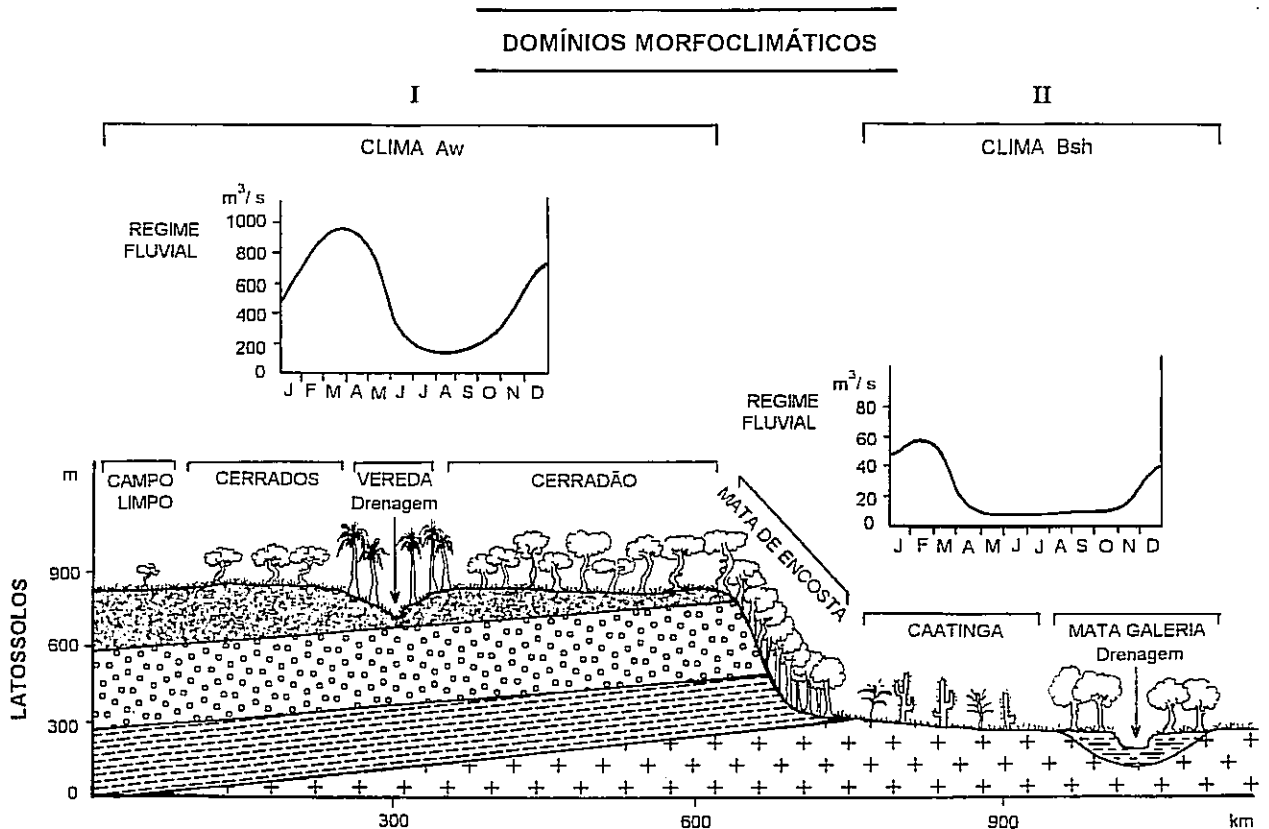
### Questão 17

Com base em conhecimentos sobre os movimentos da Terra e suas conseqüências geográficas, pode-se afirmar:

- (01) O movimento cíclico e sazonal do mecanismo das marés advém da influência exercida pela Lua sobre as massas oceânicas, principalmente durante o período das marés de quadratura, quando a posição do afélio da Lua, em relação à Terra, provoca as mais fortes ressacas.
- (02) Duas localidades antípodas possuem latitudes e longitudes contrárias, doze fusos horários de diferença e estações do ano opostas, mas situam-se em um mesmo tipo de zona climática.
- (04) Um turista, ao cruzar a Linha Internacional da Data precisamente à zero hora, no sentido oeste-leste, deve encontrar, no seu destino, uma data anterior àquela de sua partida.
- (08) Nas regiões de alta latitude, o Sol forma, ao meio-dia, um ângulo reto em relação à superfície terrestre, durante o equinócio de verão, período em que o dia tem a duração de seis meses consecutivos.
- (16) Se a inclinação da eclíptica terrestre fosse ampliada de  $23^{\circ} 27'$  para  $40^{\circ} 27'$ , haveria uma redução das áreas intertropicais, que continuariam com baixas pressões atmosféricas anuais, enquanto, nas latitudes extratropicais, as áreas de clima temperado se expandiriam.
- (32) Uma aeronave, deslocando-se no interior das latitudes intertropicais, em sentido contrário ao movimento de rotação da Terra, deve encontrar à sua frente uma forte resistência dos ventos alísios e, conseqüentemente, sua velocidade tende a ser reduzida.
- (64) As estações do ano alternam-se, nos hemisférios, em conseqüência da maior ou menor proximidade da Terra em relação ao Sol, como resultado do movimento de translação efetuado ao longo do ano.



QUESTÕES 18 E 19



**Questão 18**

Associando-se a ilustração aos conhecimentos sobre os domínios morfoclimáticos, pode-se afirmar:

- (01) A denominação domínio morfoclimático identifica uma paisagem natural que quase sempre transcende o limite espacial de uma região geográfica.
- (02) O regime fluvial do tipo tropical austral está relacionado ao clima tropical (Aw); já o domínio das formações xerófilas, que recobre as superfícies de aplainamento, é característico dos climas marcados pela inexistência de um período seco pronunciado.
- (04) A vegetação de transição entre os dois domínios fitogeográficos evidencia a influência de fatores climáticos que proporcionam a ocorrência de solos mais espessos e mais lixiviados por causa do aumento da umidade.
- (08) As veredas são vales úmidos que ocorrem no ambiente dos cerrados, representando um tipo de fitoambiente comumente denominado *oueds*, uma vez que seus rios são de fluxo perene.

- 
- (16) A mata galeria corresponde a um tipo de formação arbórea que margeia os canais de drenagem submetidos aos climas afetados pela semi-aridez, recobrando os solos ricos em aluviões.
- (32) O domínio dos cerrados pode ser individualizado em vários subconjuntos naturais, vinculados diretamente às características do solo.
- (64) O relevo pouco influencia a natureza e espessura dos solos, e a estrutura geológica possui pequena atuação no processo de elaboração dos modelados estruturais.



### Questão 19

Em relação aos domínios morfoclimáticos apresentados, pode-se afirmar:

- (01) O domínio I representa superfícies planálticas, de solos lateríticos recobertos por cerrados, submetidas a clima superúmido com elevadas temperaturas médias anuais.
- (02) O domínio II representa um setor susceptível a um processo de degradação ambiental, causada pelas ações antrópicas sobre o meio natural e por longas estiagens.
- (04) O domínio II apresenta maior amplitude térmica diária e maior índice de evapotranspiração que o domínio I, em virtude da cobertura vegetal e do clima.
- (08) Os rios que fluem do domínio I para o II apresentam, nas suas cabeceiras, maior volume de água e maior dinâmica fluvial.
- (16) Os regimes fluviais que ocorrem em I e II, apesar de estarem submetidos a regimes pluviais heterogêneos, podem ocorrer em zonas climáticas semelhantes.
- (32) Os domínios I e II caracterizam-se por chuvas irregulares, ao longo do ano, sendo que, em II, a duração e a intensidade do período seco são menores, o que favorece a ocorrência de solos mais rasos.
- (64) O desnível topográfico de quase 300 metros marca a transição do domínio I para o II, apresentando, na borda do planalto, significativas modificações ambientais, como redução da intensidade das chuvas locais, cobertura vegetal mais compacta e temperaturas mais elevadas.



---

### Questão 20

Com base nos conhecimentos sobre o ambiente costeiro e seus problemas ecológicos, pode-se afirmar:

- (01) As dunas são formações arenosas resultantes da acumulação eólica, que, em virtude da remoção da vegetação e da utilização inadequada por parte do homem, passam a se locomover gradativamente, chegando a ameaçar edificações e agrupamentos urbanos.
- (02) Os manguezais são formações vegetais que se desenvolvem nos ambientes fluviomarinhos e geralmente recobrem as costas baixas, a exemplo dos estuários.
- (04) Os recifes de arenito existentes no litoral da Bahia elevam-se do fundo do mar, são recobertos por colônias de corais e ficam totalmente emersos durante a preamar.
- (08) As restingas são formações arenosas construídas pela ação das ondas nas zonas de arrebatamento, de solos pobres em argila e matéria orgânica, que apresentam baixa capacidade para reter água e nutrientes e que, a longo prazo, retificam a linha do litoral de baías e enseadas.
- (16) As praias são ambientes costeiros formados por areias e, em alguns casos, por cascalhos, o que evidencia intenso processo de acumulação marinha.
- (32) A especulação imobiliária e a expansão do turismo estão ameaçando de destruição os ecossistemas costeiros do litoral ocidental do Nordeste brasileiro.
- (64) Entre os impactos ambientais que afetam o litoral brasileiro, destaca-se a maré negra, resultante da poluição derivada do lixo e de efluentes urbanos.



---

## QUESTÃO DISCURSIVA

### INSTRUÇÕES:

- Responda com caneta de tinta azul, de forma clara e legível.
- Caso utilize letra de imprensa, destaque as iniciais maiúsculas.
- Utilize apenas o espaço destinado à resposta; o rascunho deve ser feito no local apropriado do Caderno de Questões.
- Será anulada a questão que não se atenha ao problema proposto, esteja assinada fora do local apropriado, possibilite a identificação do candidato, ou esteja escrita a lápis, ainda que parcialmente.

Por sua posição entre duas massas continentais da América e por sua função de encruzilhada cosmopolita, o mar das Caraíbas é verdadeiramente um Mediterrâneo americano.

Entre esse mar da América Central e o Mediterrâneo do Velho Mundo existem muitas analogias: os contatos de civilizações diversas, a compartimentação das terras, a interpenetração do mar e da montanha, a instabilidade da crosta terrestre se exprimindo por um vulcanismo às vezes devastador, os traços de uma prosperidade passada seguida de decadência, enfim os sinais de um rejuvenescimento da vida econômica devido, em parte, ao crescimento do consumo em relação aos mercados do Norte e, também, à abertura de um canal interoceânico.

(GOTTMANN, Jean. *L'Amérique*. 3 ed. Paris: Hachette, 1960. p. 269-70 – traduzido).

Justifique a analogia feita pelo autor, no texto acima, quando ele considera o mar das Caraíbas (Caribe) um "Mediterrâneo americano" e explique particularmente o significado das seguintes expressões:

- a) "encruzilhada cosmopolita";
- b) "interpenetração do mar e da montanha";
- c) "abertura de um canal interoceânico";
- d) "crescimento do consumo".