

ESTAS PROVAS DEVEM SER RESPONDIDAS PELOS CANDIDATOS AOS CURSOS DO GRUPO **C**.

GRUPO C

Administração

Educação Física

Arquivologia

Filosofia

Biblioteconomia

Geografia

Ciências Contábeis

História

Ciências Econômicas

Museologia

Ciências Sociais

Pedagogia

Comunicação

Psicologia

Direito

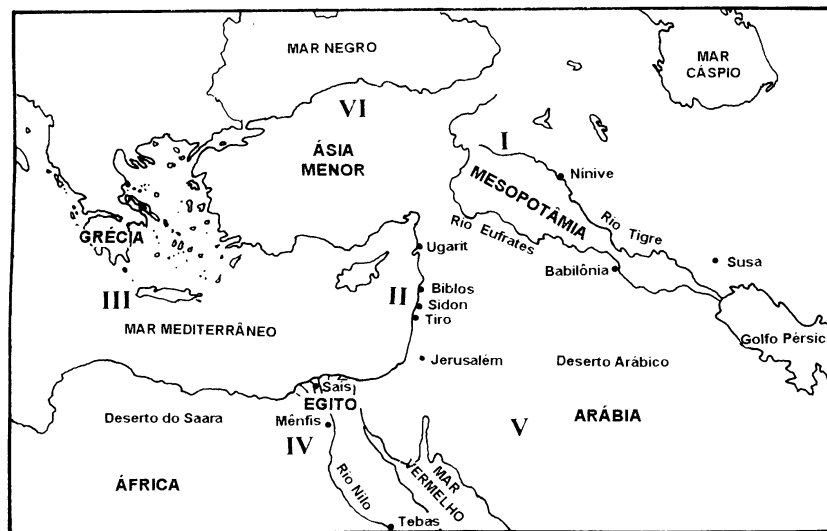
Secretariado

HISTÓRIA

QUESTÕES DE 01 A 10

INSTRUÇÃO: Assinale as proposições verdadeiras, some os números a elas associados e marque o resultado na Folha de Respostas.

Questão 01



A análise do mapa acima e os conhecimentos sobre História Geral permitem afirmar:

- (01) O militarismo esteve presente na história antiga de I, através das conquistas assírias e, na história recente, através da política armamentista nuclear e biológica de Saddam Houssein, no Iraque.
- (02) Em II, desenvolveu-se a monarquia judaica, cuja aliança firmada com os gregos valeu-lhe o controle efetivo de toda a Palestina na Antiguidade.
- (04) Em II, foi organizado, logo após a Segunda Guerra Mundial, o Estado de Israel, em prejuízo da população muçulmana lá existente, dando origem ao problema palestino no Oriente Médio.
- (08) As áreas II e III apresentam como traço comum o desenvolvimento das mais importantes atividades marítimo-comerciais da Antiguidade antes dos romanos.
- (16) Em IV, desenvolveu-se na Antiguidade um sistema de escrita com utilização ritual, administrativa e comercial, cuja decifração só foi possível com a descoberta da Pedra da Roseta, no século XIX.
- (32) Em V, foi fundado, na Idade Média, um sistema religioso que representa, juntamente com o judaísmo e o cristianismo, uma das três grandes religiões do mundo.
- (64) Os habitantes das regiões V e VI, aliados pela religião, promoveram, entre os séculos XV e XVI, a conquista da Grécia e do Leste europeu, lá permanecendo até os dias atuais.

Questão 02

A constituição efêmera de federação de países, de mercados regionais e de uma organização continental, a OUA (Organização da Unidade Africana), de pouco valeu para desvencilhar a África dos poderosos tentáculos neocolonialistas que a sufocam (...) A necessidade crescente dos centros retores do sistema de assegurar um incessante fluxo de matérias-primas do mundo periférico para as suas indústrias, a sua tendência irreversível para incorporar amplos contingentes populacionais ao mercado consumidor de seus produtos (...) tudo isso faz da África alvo da cobiça de um sistema que se reproduz perpetuando a existência de seus dois protagonistas: o sujeito e o assujeitado.

(RIOS, apud AQUINO et al., p. 384-5)

Com base na análise do texto acima e nos conhecimentos sobre a história do continente africano, pode-se afirmar:

- (01) A situação descrita no texto foi antecedida pelo avanço dos interesses comerciais mercantis europeus nas áreas litorâneas e concretizada através da pressão comercial e da fundação de feitorias e fortalezas.
- (02) As culturas regionais africanas superaram completamente a sangria da sua população ativa, que aconteceu durante três séculos de intenso tráfico de escravos.
- (04) Os “tentáculos do neocolonialismo”, lançados sobre a África após a Segunda Guerra Mundial, tiveram seu caminho facilitado pelo processo de partilha do continente, ocorrido na segunda metade do século XIX.
- (08) A presença de exércitos alemães na África do Norte, durante a Segunda Guerra Mundial, levou-a a participar do conflito mundial ao lado do Japão.
- (16) A ação da “cobiça de um sistema que se reproduz” explica a exploração do continente pelo neocolonialismo e seu desinteresse em erradicar as epidemias, a fome e as lutas intertribais que o assolam.
- (32) A partilha da África, a descolonização e a constituição artificial de novos países, nas décadas de 1960 e 1970, explicam as dificuldades de coexistência entre etnias irreconciliáveis tais como os *hutus* e os *tootsies*.



Questão 03

As relações mantidas entre o Extremo Oriente e o Mundo Ocidental, ao longo da história, têm registrado momentos de confronto, dentre os quais é possível destacar:

- (01) A exploração do viajante português Marco Polo, na área do litoral africano banhada pelo Oceano Índico.
- (02) A conquista militar dos portugueses no sul da China e no Japão, transformando essas regiões em colônias de exploração.
- (04) A conquista da cidade de Hong Kong pelos ingleses, através da Guerra do Ópio, assegurando à Inglaterra a manutenção de seus interesses econômicos no litoral chinês, até o ano de 1997.
- (08) O conflito de interesses entre o Japão e os Estados Unidos pela hegemonia no Oceano Pacífico, levando esses dois países ao confronto, na Segunda Guerra Mundial.
- (16) A aliança entre a China e os Estados Unidos, durante a Segunda Guerra Mundial, contra o Japão e as forças da Alemanha, levando à hegemonia chinesa na Ásia.
- (32) O apoio ocidental ao governo capitalista chinês, refugiado em Formosa (atual Taiwan), expressando a reação capitalista contra a vitória da revolução comunista na China Continental, no fim da década de 1940.
- (64) A sobrevivência do regime comunista na Austrália, constituindo-se fator de alteração no equilíbrio de forças entre capitalismo e comunismo, durante a Guerra Fria.



Questão 04

NORTE	SUL
A – economia basicamente industrial;	A – economia basicamente agrícola;
B – classe dominante: burguesia;	B – classe dominante: latifundiários;
C – predomínio da vida urbana;	C – predomínio da vida rural;
D – a favor da abolição da escravidão;	D – a favor da manutenção da escravidão;
E – a favor de tarifas protecionistas;	E – contra as tarifas protecionistas;
F – interesse maior no mercado interno.	F – interesse maior no mercado externo.

(FARIA et al., p. 197.)

A análise das informações apresentadas acima em relação ao Norte e ao Sul dos Estados Unidos e os conhecimentos sobre a história norte-americana permitem afirmar:

- (01) As diferenças entre o Norte e o Sul resultam das diversas formas como foi construída a colonização nas treze colônias inglesas da América do Norte.
- (02) As contradições evidenciadas entre as duas regiões se aprofundaram após a independência das treze colônias, com a instalação do federalismo e o fortalecimento dos particularismos locais.

-
- (04) A oposição que se verifica entre as duas regiões, no que diz respeito aos itens **A**, **B**, **C** e **D**, levou à Guerra de Secessão.
- (08) A expansão desenfreada de **A**, **B** e **C**, no Norte, após a Primeira Guerra Mundial, resultou, entre outros fatores, na crise de 1929.
- (16) O descontrole de **B** e **C**, no Sul, tem levado à resistente sobrevivência da intolerância e do racismo nos Estados Unidos.
- (32) A expansão territorial dos Estados Unidos, na primeira metade do século XIX, decorreu da harmonização entre **D**, **E** e **F** das duas regiões.

Questão 05

Anfitriã da última Copa do Mundo, a França atraiu a atenção dos desportistas nos meses de junho e julho de 1998. País de antigas tradições esportivas, apresenta também uma história rica em contribuições para as idéias, a cultura e a política mundiais, entre as quais é possível destacar:

- (01) Um modelo de feudalismo clássico instalado na alta Idade Média, sistematizado a partir do reino dos francos e fundamentado na relação complexa dos laços de suserania e vassalagem.
- (02) A elaboração do mercantilismo colbertista, fundamentado na relação importação/exportação, expressa no princípio da balança do comércio favorável.
- (04) O estabelecimento de um modelo eficiente de colonização, experimentado com sucesso na baía de Guanabara e no Maranhão, áreas ocupadas pelos franceses durante o período do Brasil colonial.
- (08) A construção de um modelo de absolutismo monárquico flexível, capaz de sobreviver à revolução de 1789 e se manter como estrutura política dominante até o fim do século XIX.
- (16) A elaboração da ideologia liberal, fundamentada no projeto político, social e econômico da burguesia, que se constitui paradigma ideológico do capitalismo a partir do século XIX.
- (32) Um exemplo, em 1968, de contestação dos jovens aos valores morais, estéticos, sociais, políticos, culturais e econômicos construídos pelas gerações posteriores à Primeira e à Segunda Guerra Mundial.
- (64) Um modelo, no mundo atual, de sociedade de governo socialista, que destina pesados investimentos para a indústria bélica e assume a liderança das nações emergentes da crise do Leste europeu.

Questão 06

A própria organização familiar do branco supunha a não-organização de uma família escrava. Dada a socialização da mulher branca para o desempenho dos papéis de dona-de-casa e mãe de família legalmente constituída, necessária se fazia a existência de uma classe de mulheres com as quais os jovens brancos pudessem praticar as artes do amor anteriormente ao casamento. Assim, a escravidão satisfazia não apenas às exigências do sistema produtivo, mas ainda àquelas impostas pela forma de colonização adotada e às de uma família branca na qual a mulher cabia, precipuamente, o papel de mãe da prole legítima.

As mulheres brancas da época escravocrata apresentavam os requisitos fundamentais para submeter-se, sem contestação, ao poder do patriarca. Casavam-se, via de regra, tão jovens que aos vinte anos eram praticamente consideradas solteironas. (...) Educadas em ambiente rigorosamente patriarcal, essas meninas-mães escapavam ao domínio do pai para, com o casamento, caírem na esfera do domínio do marido.

(NADAI et al., p. 57)

A análise do texto e os conhecimentos sobre a sociedade colonial permitem afirmar:

- (01) O patriarcalismo, entendido como a prática da autoridade incontestável do pai sobre toda a família, destaca-se como uma das características da sociedade descrita no texto.
- (02) As diferenças de cor e de condição social marcavam profundamente as relações sociais, interferindo inclusive na vida íntima das pessoas.
- (04) A situação privilegiada das mulheres brancas e livres permitia-lhes contestar a ordem social da família patriarcal.
- (08) A condição da mulher negra e escrava obrigava-a a desempenhar os papéis de produtor direto e de complemento sexual.
- (16) A estrutura tradicional da organização social indígena do litoral brasileiro foi reelaborada e reformulada tendo por base o modelo de sociedade descrito no texto.
- (32) A estrutura da sociedade descrita no texto, o caráter autoritário das relações sociais e de poder eram legitimados pela Igreja, colocada a serviço dos interesses dominantes.



Questão 07

Para a maior parte do continente americano, o século XIX foi um século de abolições. Da independência do Haiti ainda em finais do século XVIII à Lei Áurea no Brasil, as abolições constituíram talvez a mais ampla e profunda transformação social nas Américas. Privacidade e direitos civis são noções que o mundo ocidental viu se consolidarem no mesmo contexto histórico e cultural que engendrou no continente americano essa “era de emancipações”.

(ALENCASTRO, p. 338.)

As abolições referidas no texto ocorreram em contextos históricos distintos, assumindo também diferentes significados, que podem ser reconhecidos a seguir:

- (01) No Haiti, revestiu-se de caráter violento, sendo conquistada através da força e resultando na proclamação da primeira república negra independente no mundo.

-
- (02) No Brasil de 1850, a extinção do tráfico de escravos africanos resultou da valorização do escravo indígena, que substituiu o negro nas grandes plantações.
- (04) No Sul dos Estados Unidos, a consolidação da abolição do trabalho escravo dependeu de uma luta armada, na qual a resistência escravocrata foi derrotada.
- (08) A abolição da escravidão indígena foi alcançada no contexto do movimento de independência do Brasil, acompanhando a política geral antiescravista que se desenvolvia em toda a América Latina, no início do século XIX.
- (16) A Lei Áurea, de 13 de maio de 1888, representou a articulação do governo imperial com o processo abolicionista planejado nos quilombos e executado pela revolta dos malês na cidade do Salvador.
- (32) O clima de abolições registrado no texto não foi suficiente para impedir distorções escravistas em relações de trabalho do Brasil atual, especialmente no que se refere ao trabalho em garimpos, carvoarias e plantações diversas.

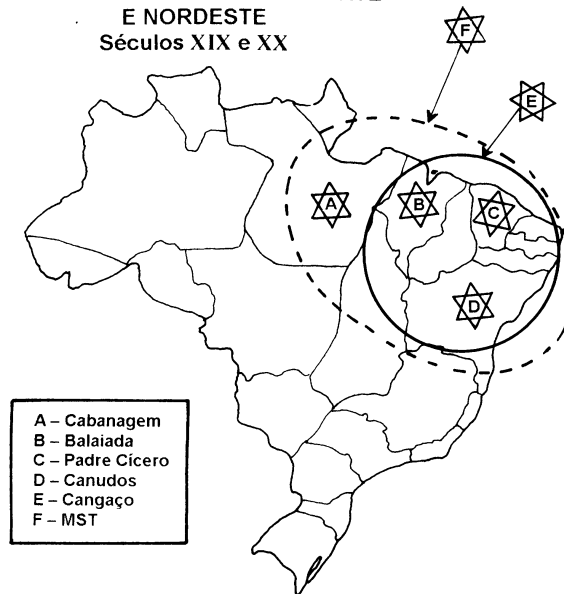
Questão 08

Na história do Brasil dos séculos XIX e XX, questões de caráter econômico, social e político têm se relacionado com correntes de idéias que expressam interesses específicos, dentre as quais é possível destacar:

- (01) O liberalismo, que expressava, contraditoriamente, o pensamento político da classe senhorial proprietária de terras e de escravos.
- (02) O federalismo, que representou as aspirações de autonomia regional defendidas pelos liberais e as reivindicações do Partido Republicano organizado em 1870.
- (04) O anarcossindicalismo, que foi introduzido no Brasil por operários imigrantes e expressou a ideologia da burguesia industrial brasileira a partir da organização do governo republicano.
- (08) O socialismo, que constituiu o movimento responsável pela derrubada da República Velha através da eclosão da Revolução de 1930.
- (16) O fascismo, que foi a ideologia que inspirou a estruturação e a preservação do Estado Novo mediante dispositivos utilizados por estados totalitários.
- (32) O autoritarismo, que representou a forma de dominação vigente no Brasil na década de 1950 e foi derrubado pelo movimento militar de 1964.
- (64) O neoliberalismo, que constitui o modelo teórico do capitalismo atual, encampado pelos governos brasileiros da década de 1990, fundamentado no “Estado mínimo” e nas privatizações.

Questão 09

MOVIMENTOS SOCIAIS NO NORTE
E NORDESTE
Séculos XIX e XX




A análise do mapa e os conhecimentos sobre os movimentos sociais no Norte e Nordeste do Brasil, nos séculos XIX e XX, permitem afirmar:

- (01) **A** e **B** indicam as regiões onde eclodiram movimentos populares reunindo escravos, libertos, índios e mestiços contra a injustiça social da qual eram vítimas.
- (02) **C** constituiu-se instrumento de opressão dos grandes coronéis sobre o sertanejo enfraquecido pelas dificuldades e privações a que era submetido.
- (04) Em **D** organizou-se uma comunidade messiânica, orientada por um líder a quem se atribuíam poderes miraculosos e que oferecia proteção às populações esquecidas pelas autoridades constituídas.
- (08) Diferentemente de **D**, **E** caracterizou-se por sua ação desorganizada, utilização de métodos violentos e ausência de objetivos políticos e religiosos específicos.
- (16) **F** resulta de um processo secular de concentração e má distribuição da propriedade da terra, levando a atitudes reivindicatórias de difícil controle em diversas regiões do Brasil.
- (32) Todos os movimentos referidos foram resolvidos através da negociação e de ações pacíficas entre os oprimidos e os poderes constituídos.



Questão 10



I



II

A comparação das situações expressas nas *charges* I e II acima e os conhecimentos sobre a história do operariado brasileiro permitem concluir:

- (01) I se insere num contexto de dependência econômica do Brasil frente ao capitalismo internacional, enquanto, em II, essa dependência já foi superada.
- (02) I aconteceu a partir da absorção da massa de escravos libertos, contribuindo para que, em II, os negros sejam a maioria esmagadora do mercado de trabalho industrial.
- (04) As condições de previdência e assistência à saúde eram inexistentes em I, sendo que, em II, existem leis específicas que definem os direitos de assistência e amparo ao trabalhador.
- (08) As reivindicações salariais e trabalhistas expressas através de movimentos grevistas eram combatidas como “casos de polícia” em I, sendo que, em II, são entendidas, não sem alguma resistência, como uma questão de direitos sociais.
- (16) I ocorreu num contexto de restrição do mercado de trabalho pelo caráter incipiente da industrialização, enquanto II registra a retração desse mercado, em consequência da recessão econômica e do processo de informatização/globalização da economia.
- (32) No contexto das duas *charges*, o trabalho feminino sempre foi desestimulado pela reconhecida dificuldade da mulher em compatibilizar a vida doméstica com as atividades profissionais.

QUESTÃO DISCURSIVA

INSTRUÇÕES:

-
- Responda com caneta de tinta azul, de forma clara e legível.
 - Caso utilize letra de imprensa, destaque as iniciais maiúsculas.
 - Utilize apenas o espaço destinado à resposta; o rascunho deve ser feito no local apropriado do Caderno de Questões.
 - Será anulada a questão que não se atenha à situação ou ao problema proposto, esteja assinada fora do local apropriado, possibilite a identificação do candidato, ou esteja escrita a lápis, ainda que parcialmente.

Animaivos Povo Bahiense que está para chegar o tempo feliz da nossa liberdade...

Ó vos Homens cidadãos; ó vos Povos curvados, e abandonados pelo Rei, pelos seus despotismos, pelos seus Ministros.

Ó vos Povo que nascesteis para sereis livre e para gozares dos bons efeitos da Liberdade; ó vos Povo que viveis flagelados com o pleno poder do indigno coroado êsse mesmo rei que vós criaestes; êsse mesmo rei tirano he que se firma no trono para vos veixar, para vos roubar e para vos maltratar.

Homens, o tempo he xegado para vossa ressureição; sim, para ressucitareis do abismo da escravidão, para levantareis a sagrada Bandeira da Liberdade.

(Apud TAVARES, p. 7-8)

O manifesto acima faz parte de uma série de pasquins sediciosos surgidos na cidade do Salvador no ano de 1798, dando início à Conjuração Baiana, movimento conhecido como “Revolução dos Alfaiates”, completando, portanto, duzentos anos em 1998. Considerando-se sua importância histórica, indique e analise:

1 – a composição social dos conjurados;

2 – suas reivindicações:

- a) econômicas;
- b) sociais;
- c) políticas.

RASCUNHO

RASCUNHO

REFERÊNCIAS BIBLIOGRÁFICAS

ALENCASTRO, Luiz Felipe (Org.). *História da vida privada no Brasil: Império*. São Paulo: Companhia das Letras, 1977. v. 2.

AQUINO, Rubim Santos Leão de, REZENDE, Clymene Vieira de, FRANCO, Denize de Azevedo et al. *História das sociedades: das sociedades modernas às sociedades atuais*. 2 ed. Rio de Janeiro: Ao Livro Técnico, 1993.

FARIA, Ricardo de Moura, MARQUES, Adhemar Martins, BERUTTI, Flávio Costa. *História*. Belo Horizonte: Ed. Lê, 1993. v. 3.

NADAI, Elza, NEVES, Joana. *História do Brasil: da Colônia à República*. São Paulo: Saraiva, 1980.

TAVARES, Luís Henrique Dias. *Introdução ao estudo das idéias do movimento revolucionário de 1798*. Salvador: Aguiar & Souza/Progresso Ed., 1959.

FONTES DAS ILUSTRAÇÕES

COTRIM, Gilberto. *História e consciência do mundo*. São Paulo: Saraiva, 1994. p. 24 – adaptada. (Questão 01)

SECRETARIA DE EDUCAÇÃO E CULTURA (Bahia). IRDEB . *Onde começou o Brasil*: livro de apoio ao 1º grau de história. Salvador, 1988. p. 136. (Questão 10)

SECRETARIA DE EDUCAÇÃO E CULTURA (Bahia). IRDEB – Suplência de educação básica. *História: 1º grau*. Salvador, 1993. v. 1, p. 142. (Questão 10)

GEOGRAFIA

QUESTÕES DE 11 A 20

INSTRUÇÃO: Assinale as proposições verdadeiras, some os números a elas associados e marque o resultado na Folha de Respostas.

Questão 11

Na era da globalização e dos avanços da revolução técnico-científica, tornou-se mais evidente o que muitos já sabiam: que as questões ambientais têm dimensão mundial. Problemas como o efeito estufa, a redução da camada de ozônio, a desertificação, o desmatamento, o lixo radiativo, a emissão de poluentes no ar, na água e no solo afetam, embora de maneira diferenciada, países desenvolvidos e subdesenvolvidos. Afinal, esses problemas resultam de uma relação com a natureza baseada na exploração e devolução de dejetos, típica da chamada “racionalidade ocidental”, característica de quase todos os países do globo.

(MOREIRA, p. 226)

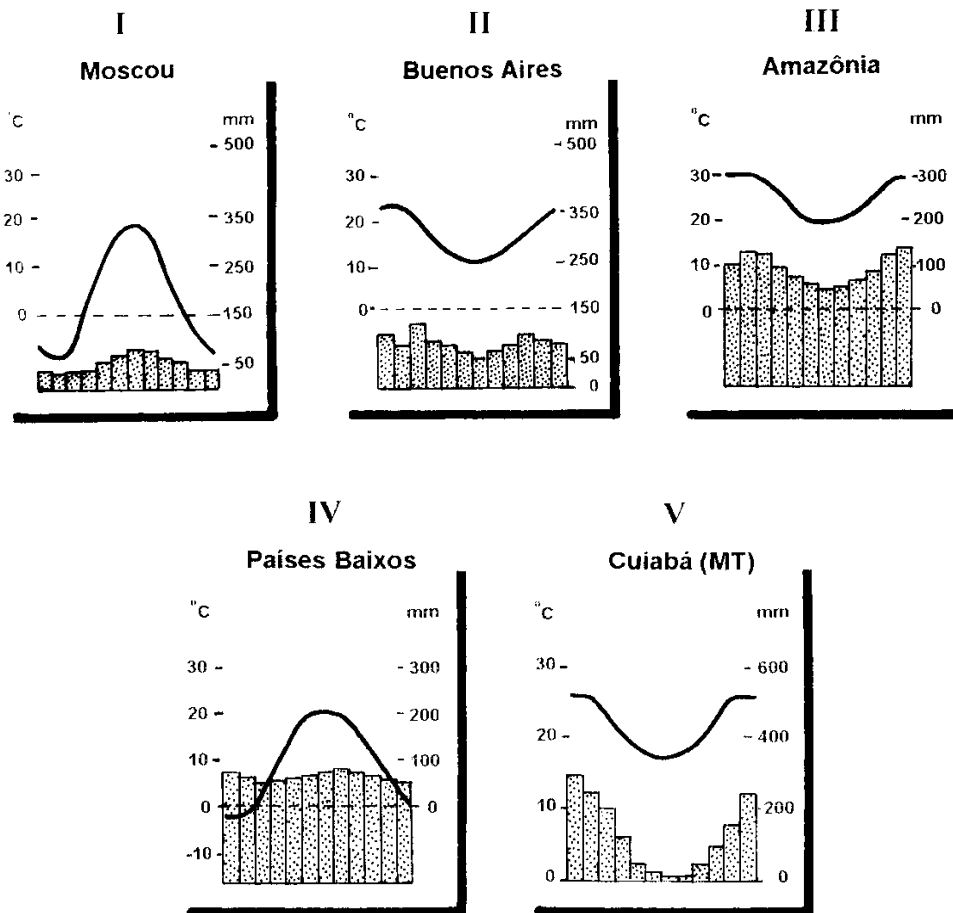
A reflexão sobre o texto acima e os conhecimentos sobre os problemas ambientais permitem afirmar:

- (01) O uso intensivo de agrotóxicos na agricultura e na pecuária age eficazmente no combate às pragas, aumenta a produtividade das colheitas e do gado, mas destrói microorganismos benéficos às plantas e multiplica as pragas a longo prazo.
- (02) O “buraco” na camada de ozônio, concentrado sobre a Antártida, diminuiu na última década, graças à ausência de CFC (clorofluorcarbono) nas indústrias de eletrodo-mésticos e de aerossóis nos países emergentes.
- (04) Os projetos governamentais na Amazônia e a intensificação do plantio seletivo de madeiras, na Ásia Oriental e no Sudoeste africano, constituem vitórias na luta pela preservação ambiental.
- (08) A redução da camada de ozônio é provocada não só pela emissão de gases resultantes das atividades humanas, mas, também, por causas naturais como a variação da atividade solar e as erupções vulcânicas.
- (16) O gás metano produzido na natureza, em mangues e pântanos, por bactérias aquáticas contribui também para o aumento do efeito estufa, complementando a ação importante do gás carbônico (CO₂).
- (32) As fábricas de compostagem, apesar de serem uma solução ecológica para o problema da disposição final do lixo nas cidades grandes, são antieconômicas e inacessíveis à maioria das administrações.



Questão 12

As diferenças climáticas do planeta estão diretamente vinculadas à localização geográfica de cada região nas diversas latitudes, decorrentes de fatores cósmicos associados à dinâmica atmosférica e à influência dos fatores geográficos.



Com base nessa afirmativa e na observação e análise dos climogramas acima, é correto afirmar:

- (01) I representa um clima temperado, caracterizado por estações bem definidas, com grande amplitude térmica anual e influência marcante da continentalidade.

-
- (02) II representa um clima tropical do tipo mediterrâneo, característico das médias latitudes, com invernos amenos, chuvas mal distribuídas durante o ano e temperaturas muito elevadas no verão.
- (04) III é típico dos climas equatoriais, situados nas baixas latitudes, caracterizados por temperaturas elevadas, chuvas abundantes o ano inteiro e pequena amplitude térmica anual.
- (08) O clima temperado representado em IV evidencia estações bem marcadas durante o ano e, por influência marítima, apresenta amplitude térmica anual menor, quando comparado com o clima representado em I.
- (16) V representa um clima tropical típico, com duas estações bem definidas durante o ano – inverno ameno e seco e verão quente e chuvoso – com amplitudes térmicas variando em função da continentalidade.
- (32) As localidades representadas pelos climogramas I e II situam-se no mesmo hemisfério, e os respectivos tipos climáticos são controlados por massas de ar polares continentais e marítimas.
- (64) A Zona de Convergência Intertropical (ZCIT) é de importância fundamental na dinâmica atmosférica do tipo climático representado no climograma III.



Questão 13

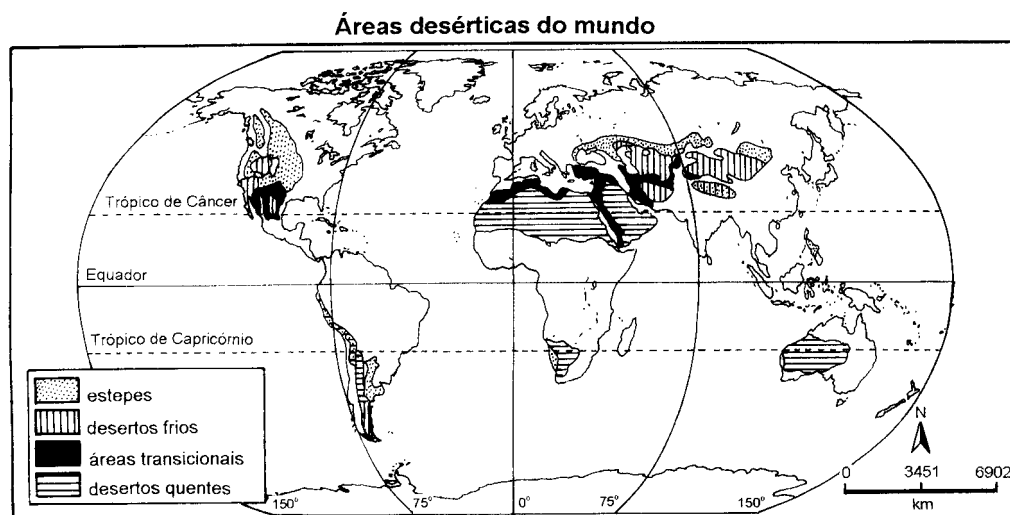
Sobre a morfologia do relevo terrestre e suas características, pode-se afirmar:

- (01) O modelado terrestre resulta da atuação de agentes internos, responsáveis pela esculturação do relevo e de agentes externos, geradores das grandes estruturas.
- (02) O relevo cárstico, típico das áreas com predominância de rochas calcárias, apresenta como característica, entre outras, a presença de vales estreitos, dolinas e grutas.
- (04) A ação erosiva dos rios resulta na formação das planícies aluviais, enquanto a sua ação de transporte e sedimentação provoca a construção de vales.
- (08) As macrounidades do relevo brasileiro foram individualizadas mais recentemente, com base em suas histórias geológicas e na ação do processo erosivo, através da interpretação de imagens de radar.

-
- (16) As serras existentes no Sudeste do Brasil resultam de ações tectônicas ocorridas no passado, causadoras de numerosas falhas na estrutura rochosa regional, aliadas à posterior erosão diferencial sob clima quente e úmido.
- (32) O Pantanal mato-grossense corresponde a uma área de planície drenada pelo rio Paraguai e resultante da deposição de sedimentos aluviais recentes.
- (64) No Brasil, os dobramentos modernos datados do Terciário correspondem às áreas mais elevadas da extremidade norte, nas fronteiras da Venezuela e das Guianas.



QUESTÕES 14 E 15



Questão 14

Com base no mapa e nos conhecimentos sobre desertos e processo de desertificação, pode-se afirmar:

- (01) Os cinturões de altas pressões subtropicais, em ambos os hemisférios, são responsáveis pela formação de desertos, devido aos movimentos verticais descendentes do ar atmosférico.

-
- (02) As regiões desérticas do globo estão associadas às fachadas orientais das latitudes tropicais banhadas por correntes marítimas quentes e às posições de barlavento das regiões montanhosas.
- (04) A periferia dos desertos constituem as zonas de maior risco de desertificação, devido à fragilidade dos seus ecossistemas e ao efeito combinado das atividades humanas e das alterações climáticas.
- (08) O desmatamento, responsável, entre outros fatores, pelo desequilíbrio do balanço térmico na superfície, é a principal atividade humana geradora de ambientes degradados, propensos à desertificação.
- (16) Nos desertos quentes, ao contrário dos desertos frios, a torrencialidade das chuvas domina os processos erosivos, que têm no intemperismo químico as respostas para as formas de relevo existentes, como as *hamadas*, os *inselbergs* e as depressões.
- (32) A ravina, também chamada voçoroca no seu estágio inicial, é um tipo de erosão fluvial característica das zonas desérticas ou em vias de desertificação, causada pelo pisoteio do gado em áreas cobertas por pastagens menos densas.



Questão 15

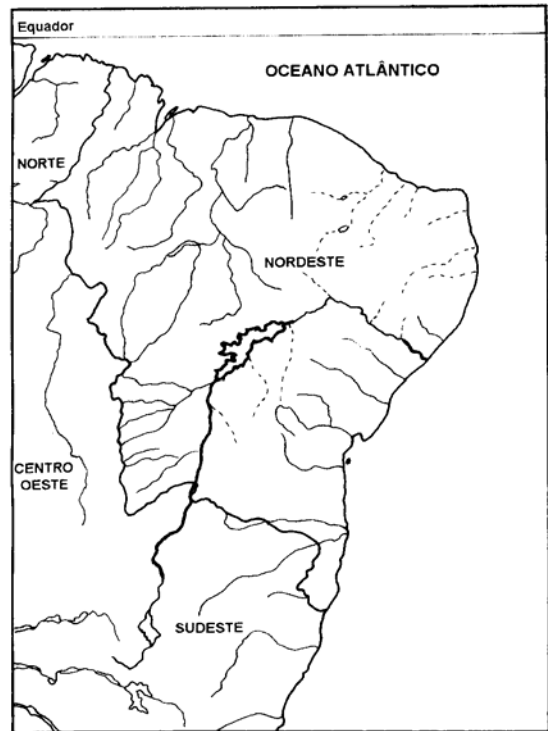
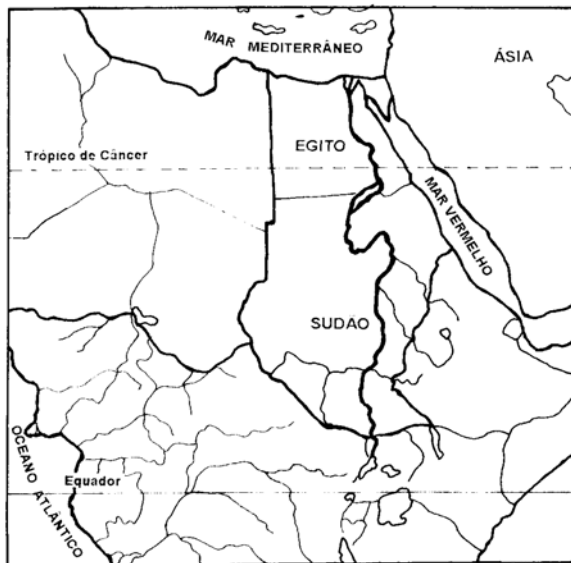
A análise do mapa, associada aos conhecimentos sobre desertos e processo de desertificação, permite afirmar:

- (01) A África e a Ásia são os continentes mais castigados pela presença de imensas áreas cobertas pelos desertos, incluindo, também, as áreas de risco de desertificação que, na segunda metade deste século, atingiram mais rigorosamente o Mali, o Sudão e a Etiópia.

-
- (02) O deserto de Atacama, ao norte do Chile, faz parte do conjunto das áreas hiperáridas do planeta, com uma precipitação média anual inferior a 1mm e anos consecutivos sem chuva.
- (04) No deserto de Neguev, em Israel, grandes áreas vêm sendo intensamente ocupadas, graças à construção de poços artesianos e canais de irrigação que as transformam em áreas agrícolas.
- (08) No Brasil, o processo de desertificação que ocorre em quase toda a Região Nordeste é irreversível e decorre da reduzida capacidade de retenção hídrica do solo, agravada pelo efeito orográfico.
- (16) Em diversas áreas do território brasileiro, pode ser encontrada a desertificação ecológica, ou seja, aquela que ocorre em clima úmido devido a condições especiais de suporte geológico, relevo e hidrografia ou à ação antrópica.
- (32) Apesar do impacto negativo que a ação antrópica geralmente exerce sobre os diversos ecossistemas do planeta, a prática das queimadas tem efeitos positivos, na medida em que libera gases que facilitam a irradiação da energia solar para o espaço.



Questão 16



Com base nos mapas e nos conhecimentos sobre as bacias hidrográficas representadas, sua importância e aproveitamento, conclui-se que apresentam:

- (01) rios principais com nascentes localizadas na faixa equatorial e grandes densidades demográficas às margens dos seus baixos cursos.
- (02) rios com grandes deltas intensivamente cultivados, situados em costas oceânicas abertas, no Hemisfério Norte.
- (04) longos cursos de água perenes, que cortam zonas de climas quentes e variados, contendo grandes barragens com instalações hidrelétricas.
- (08) rios extensos, com partes encachoeiradas, que alimentam importantes projetos de irrigação e possuem grandes trechos navegáveis.
- (16) rios de grande importância econômica na atualidade, apesar da inexpressiva importância histórica, que percorrem regiões de altas temperaturas e elevadas cotas pluviométricas.
- (32) rios com similares características morfológicas e estruturais, que percorrem, em sua totalidade, extensas planícies favoráveis à navegação.
- (64) cursos com conotações político-territoriais distintas: um é totalmente brasileiro; o outro é transnacional e atravessa a parte oriental do Saara.



Questão 17

Antes mundo era pequeno
Porque terra era grande
Hoje mundo é muito grande
Porque terra é pequena
Do tamanho da antena parabólicamará...
(Gilberto Gil, apud PILETTI et al., p.186)

Os versos do poeta, associados aos conhecimentos sobre globalização e meios de comunicação e transporte no Brasil, permitem concluir:

- (01) A era da informação se caracteriza pelo uso cada vez mais intenso do computador, facilitando a globalização da economia e gerando o grande efeito negativo do desemprego estrutural.
- (02) A globalização da economia acelerou, nas três últimas décadas, as correntes migratórias, concorrendo para que milhões de pessoas mudassem dos países do Sul para os países do Norte.
- (04) A rápida evolução e popularização das tecnologias da informação e da comunicação, características deste final de século, propiciam um melhor conhecimento do planeta, promovem a aceleração do tempo, reduzem as distâncias e integram os espaços.
- (08) A Internet transforma o mundo numa “aldeia global”, por isso sua expansão não é seletiva, e todos os povos estão conectados à rede.
- (16) A hidrovia Madeira–Amazonas é um marco positivo nas exportações da soja produzida no Estado do Mato Grosso, substituindo o escoamento realizado através do porto de Santos, na Região Sul do país.
- (32) O estado precário das rodovias, no Brasil, resulta, em parte, da ausência de planejamento e tecnologia adequados, embora seja a via de transporte prioritária no país.

-
- (64) A ferrovia do Amapá, a de Carajás e a Vitória–Minas são especializadas no transporte de minério de ferro, enquanto o manganês da Serra do Navio é exportado pelo porto de Itaqui, no Maranhão.



Questão 18

De cidade a cidade, de um bairro a outro, as paisagens urbanas mudam, assim como as suas atividades. Essa afirmativa e os conhecimentos sobre a questão urbana e a dinâmica demográfica, no Brasil, permitem afirmar:

- (01) A expansão da lavoura comercial de grãos, implantada com o uso da mecanização, gerou intenso processo de êxodo rural na Região Centro-Oeste, levando-a a um acentuado crescimento da população urbana nas últimas décadas.
- (02) O processo de urbanização do país revela uma melhoria na qualidade de vida das populações, nas cidades médias do Sul e Sudeste, em razão da maior oferta de serviços.
- (04) A distribuição espacial da população, nas cidades, acompanha a condição social dos habitantes, reforçando as desigualdades existentes.
- (08) As periferias urbanas se caracterizam pela mescla de habitações e atividades típicas do meio rural e do meio urbano, criando um espaço “rururbano”.
- (16) A política demográfica brasileira é oficialmente a favor do controle da natalidade, estimulando as populações pobres ao planejamento familiar através de métodos anticoncepcionais.

-
- (32) O processo de urbanização, no Brasil, teve início na época colonial, quando a população rural não crescia tanto quanto a população urbana, e a economia nacional baseava-se nas atividades primárias voltadas para a exportação.
- (64) A cidade de Brasília tem fraca atividade industrial e **não** se constitui área metropo-litana nem metrópole regional, apesar de exercer a função de capital político-admi-nistrativa do país.



Questão 19

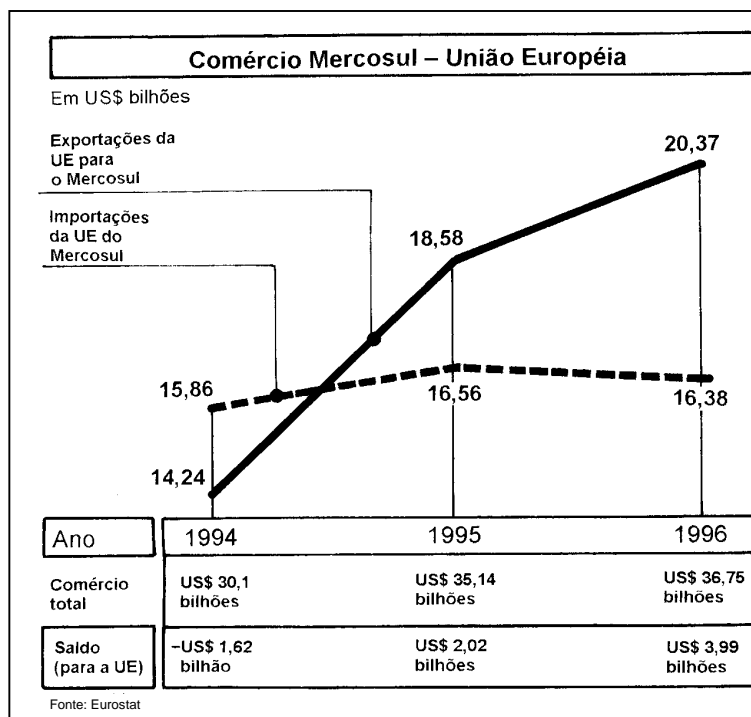
Com base nos conhecimentos sobre a industrialização no Brasil e no mundo, pode-se afirmar:

- (01) São Paulo constituiu-se o pólo inicial da industrialização brasileira, então subordina-da ao capital cafeeiro e voltada predominantemente para a indústria de bens de consumo.
- (02) Uma das características da industrialização brasileira, nos anos 50 deste século, foi o fato de as indústrias de bens de consumo duráveis pertencerem ao capital estran-geiro.
- (04) Nas últimas décadas, tem-se observado uma tendência à desconcentração industrial no Brasil e ao conseqüente crescimento do número de indústrias em outras áreas ou regiões, mas São Paulo ainda lidera a atividade industrial no país.
- (08) Os capitais oriundos da produção de açúcar, na Zona da Mata nordestina, são responsáveis pela concentração de indústrias nos centros regionais, minimizando, assim, o desemprego e o êxodo rural.

- (16) A concentração industrial do Sudeste brasileiro assemelha-se à que ocorre na região dos Grandes Lagos e Rio São Lourenço, na América Anglo-Saxônica, pela existência de boa rede de transportes e pela proximidade de mercados consumidores.
- (32) Após a Segunda Guerra Mundial, a antiga Alemanha Ocidental ficou com as instalações industriais da Renânia e passou a investir na indústria bélica, tornando-se exportadora de armamentos.
- (64) A Terceira Revolução Industrial, iniciada com a industrialização da União Européia, Estados Unidos e Japão, tem como base a criação das linhas de montagem e a produção em série.



Questão 20



Com base no gráfico e nos conhecimentos sobre comércio externo e relações internacionais, pode-se afirmar:

-
- (01) O Mercosul foi criado, oficialmente, pela Argentina, Brasil, Paraguai e Uruguai, com a assinatura do Tratado de Assunção, sendo a Argentina o maior parceiro comercial do Brasil.
- (02) O Mercosul é uma área de livre comércio na América do Sul, mas cada país tem produtos em regime de adequação tarifária, ou seja, itens protegidos da concorrência dos países-membros.
- (04) As importações provenientes do Mercosul feitas pela União Européia cresceram vertiginosamente no período de 1994 a 1996, pela grande aceitação internacional de produtos agropecuários latino-americanos.
- (08) O Mercosul firmou acordos de livre comércio com o Chile e a Bolívia, demonstrando que esses países estão integrados ao bloco nas mesmas condições dos demais componentes.
- (16) O significativo aumento no volume de exportações do Mercosul para a União Européia, no período considerado, é devido à criação de uma zona de livre comércio entre os dois blocos.
- (32) O objetivo do Mercosul é se tornar um mercado comum, o que pressupõe o esta-belecimento de metas macroeconômicas e sociais para todos os países-membros.



QUESTÃO DISCURSIVA

INSTRUÇÕES:

- Responda com caneta de tinta azul, de forma clara e legível.
- Caso utilize letra de imprensa, destaque as iniciais maiúsculas.
- Utilize apenas o espaço destinado à resposta; o rascunho deve ser feito no local apropriado do Caderno de Questões.
- Será anulada a questão que não se atenha à situação ou ao problema proposto, esteja assinada fora do local apropriado, possibilite a identificação do candidato, ou esteja escrita a lápis, ainda que parcialmente.

No meio do Rio Negro, o arquipélago das Anavilhanas é como um resumo do mundo amazônico: uma luta e uma aliança constantes entre terras e águas. Neste universo contraditório, as manifestações de vida ganham uma exuberância que a ciência mal explica. A Amazônia é um verdadeiro Jardim do Éden – talvez o último do planeta.

(PAIVA, p. 7)

Considerando-se o texto acima e os conhecimentos sobre a Amazônia:

-
1. Indique sua localização geográfica no continente americano.
 2. Descreva as características morfoclimáticas da Amazônia brasileira.
 3. Justifique as analogias feitas pelo autor:
 - a) "...mundo amazônico: uma luta e uma aliança constantes entre terras e águas."
 - ;
 - b) "A Amazônia é um verdadeiro Jardim do Éden – talvez o último do planeta."
-

RASCUNHO

RASCUNHO

REFERÊNCIAS BIBLIOGRÁFICAS

MOREIRA, Igor. *O espaço geográfico: geografia geral e do Brasil*. 38 ed. São Paulo: Ática, 1998.

PAIVA, Antonio Callado de. Amazônia, paraíso das águas. *Geografia universal*. Rio de Janeiro, n. 236, set. 1994.

PILETTI, Nelson, PILETTI, Claudino. *História e vida: Brasil, do Império aos dias de hoje*. 12 ed. São Paulo: Ática, 1997. v. 2.

FONTES DAS ILUSTRAÇÕES

ANTUNES, Celso. *Geografia e participação: Europa, Ásia, África e Oceania*. São Paulo: Scipione, 1993. v. 4, p. 119. (Questão 16)

ANTUNES, Celso. *Geografia e participação: regiões do Brasil*. São Paulo: Scipione, 1997. v. 2, p. 58. (Questão 16)

CONTI, José Bueno. *Clima e meio ambiente*. São Paulo: Atual, 1998. (Série meio ambiente). p. 65. (Questões 14 e 15)

SENE, Eustáquio de, MOREIRA, João Carlos. *Geografia geral e do Brasil: espaço geográfico e globalização*. São Paulo: Scipione, 1998. p. 470-1. (Questão 12)

VERSIANI, Isabel. UE vota dividida criação de zona de livre comércio com Mercosul. *Folha de S. Paulo*, 19 jul. 1998. Caderno 2, p. 9. (Questão 20)