

Geografia – QUESTÕES de 01 a 06

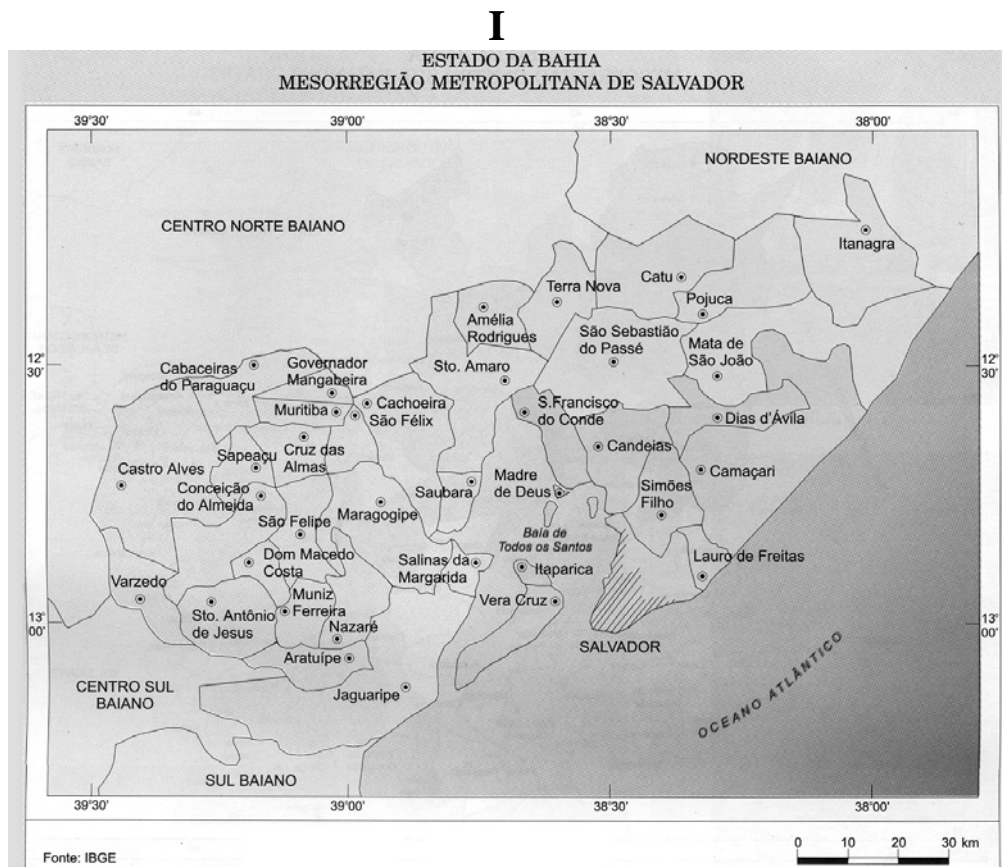
LEIA CUIDADOSAMENTE O ENUNCIADO DE CADA QUESTÃO, FORMULE SUAS RESPOSTAS COM OBJETIVIDADE E CORREÇÃO DE LINGUAGEM E, EM SEGUIDA, TRANSCREVA COMPLETAMENTE CADA UMA NA FOLHA DE RESPOSTAS.

INSTRUÇÕES:

- Responda às questões, com caneta de tinta AZUL ou PRETA, de forma clara e legível.
- Caso utilize letra de imprensa, destaque as iniciais maiúsculas.
- O rascunho deve ser feito no espaço reservado junto das questões.
- Na Folha de Respostas, observe a numeração das questões e utilize APENAS o espaço correspondente a cada uma.
- Será atribuída pontuação ZERO à questão cuja resposta
 - não se atenha à situação ou ao tema proposto;
 - esteja escrita a lápis, ainda que parcialmente;
 - apresente texto incompreensível ou letra ilegível.
- Será ANULADA a prova que
 - não seja respondida na respectiva Folha de Respostas;
 - esteja assinada fora do local apropriado;
 - possibilite a identificação do candidato.

Questão 01 (Valor: 20 pontos)

A escala do mapa é de fundamental importância, pois expressa diferentes níveis de abstração do raciocínio geográfico sobre uma realidade concreta.



II



Identifique, nos mapas I e II, as características das escalas (tipo e tamanho) e, em seguida, associe cada um dos temas abaixo ao mapa apropriado, justificando sua resposta.

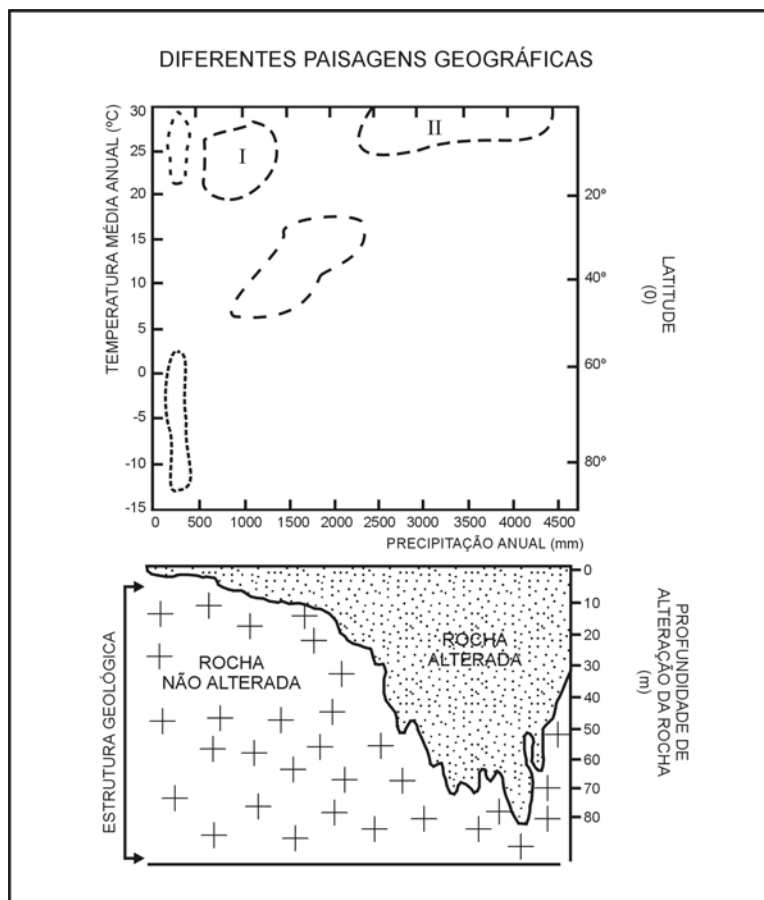
- Mapeamento de locais sujeitos à deslizamentos de encostas.
- Estudo dos fluxos pendulares.

Questão 02 (Valor: 15 pontos)

ZONAS GEOGRÁFICAS	LOCALIZAÇÃO GEOGRÁFICA	RITMO DAS QUATRO ESTAÇÕES DO ANO	POSIÇÃO DO PLANO DE RADIAÇÃO SOLAR
I. Altas latitudes	> 66°Norte / Sul	Inexistente (dia/noite polar)	Extrema obliquidade
II. Médias latitudes	30 a 65°Norte / Sul	Definido	Incidência em um dos trópicos ao longo do ano
III. Baixas latitudes	< 15°Norte / Sul	Pouco definido	Percorre a zona duas vezes no ano

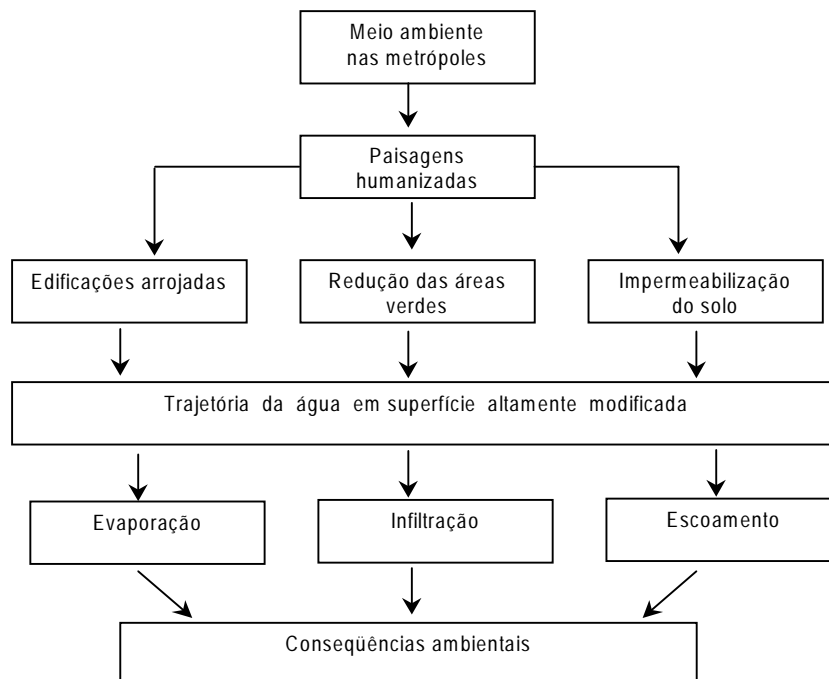
Explique como se processam as estações do ano, verão e inverno, no Hemisfério Norte e no Hemisfério Sul, destacando a incidência dos raios sobre a superfície terrestre.

Questão 03 (Valor: 20 pontos)



Com base nos dados apresentados no gráfico e nos conhecimentos sobre as paisagens geográficas, caracterize os elementos que compõem os ecossistemas I e II.

Questão 04 (Valor: 15 pontos)



Explique como ocorrem as alterações da trajetória da água que se precipita sobre as metrópoles, destacando as suas principais conseqüências ambientais.

Questão 05 (Valor: 15 pontos)

Indique dois momentos relevantes no processo industrial brasileiro, decorrentes da globalização e do neoliberalismo e justifique a sua importância.

Questão 06 (Valor: 15 pontos)

As bases da Área de Livre Comércio das Américas (ALCA) foram lançadas em dezembro de 1994, durante a primeira Cúpula das Américas, realizada em Miami (EUA). Seu objetivo seria integrar, numa zona de livre comércio, todos os Estados Soberanos da América, com exceção de Cuba.

Considerando essas informações, explique o porquê do empenho dos Estados Unidos na consolidação desse bloco, identificando quais as implicações que essa consolidação poderá trazer para o Brasil.

REFERÊNCIAS BIBLIOGRÁFICAS

ALENCAR, Chico; RAMALHO, Lucia Carpi; RIBEIRO, Marcus V. Toledo. **História da sociedade brasileira**. 13. ed. rev. e ampl. Rio de Janeiro: Ao Livro Técnico, 1996. (Adaptado)

COTRIM, Gilberto. **História e consciência do Brasil**. São Paulo: Saraiva, 1994.

FARIA, Ricardo de Moura; MARQUES, Adhemar Martins; BERUTTI, Flávio Costa. **História**. Belo Horizonte: Lê, 1993.

PERRY, Marvin. **Civilização ocidental**: uma história concisa. 2. ed. Tradução Waltensir Dutra e Silvana Vieira. São Paulo: Martins Fontes, 1999.

FONTES DAS ILUSTRAÇÕES

MAGNOLI, Demétrio; ARAÚJO, Regina. **Projeto de ensino de geografia**: natureza, tecnologias, sociedades, geografia geral. São Paulo: Moderna, 2000. (Questão 01)

SILVA, Barbara-Christine Nentwig et al. **Atlas escolar Bahia**: espaço geo-histórico e cultural. João Pessoa: Grafset, 2000. (Questão 01)
