

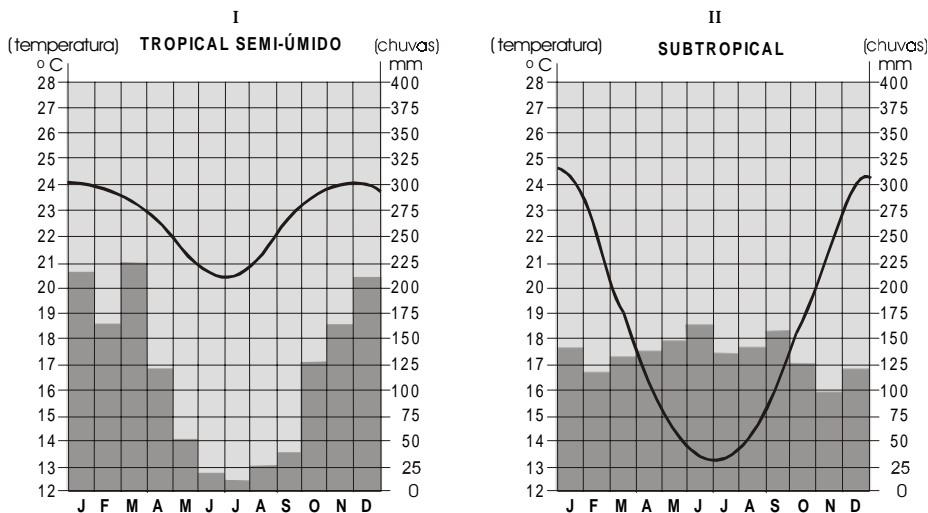
Geografia – QUESTÕES de 01 a 08

LEIA CUIDADOSAMENTE O ENUNCIADO DE CADA QUESTÃO, FORMULE SUAS RESPOSTAS COM OBJETIVIDADE E CORREÇÃO DE LINGUAGEM E, EM SEGUIDA, TRANSCREVA COMPLETAMENTE CADA UMA NA FOLHA DE RESPOSTAS.

INSTRUÇÕES:

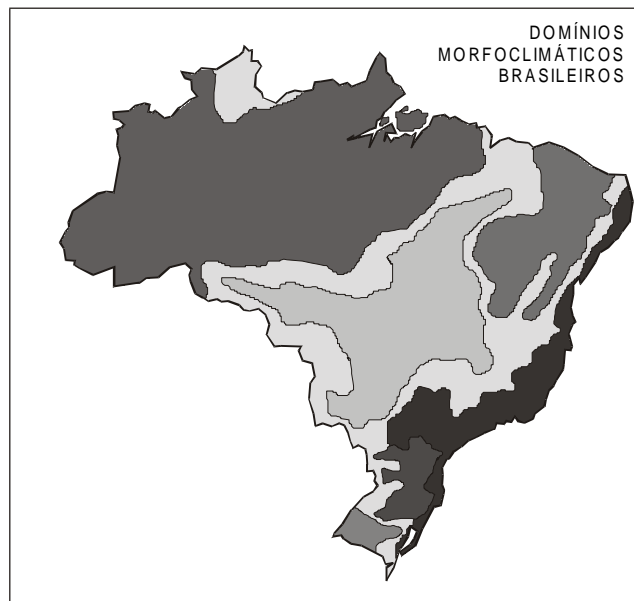
- Responda às questões, com caneta de tinta AZUL ou PRETA, de forma clara e legível.
- Caso utilize letra de imprensa, destaque as iniciais maiúsculas.
- O rascunho deve ser feito no espaço reservado junto das questões.
- Na Folha de Respostas, utilize apenas o espaço destinado a cada uma.
- Será atribuída pontuação ZERO à questão cuja resposta
 - não se atenha à situação ou ao tema proposto;
 - esteja escrita a lápis, ainda que parcialmente;
 - apresente texto incompreensível ou letra ilegível.
- Será ANULADA a prova que
 - não seja respondida na respectiva Folha de Respostas;
 - esteja assinada fora do local apropriado;
 - possibilite a identificação do candidato.

Questão 01 (Valor: 15 pontos)



A partir da interpretação dos climogramas I e II, localize os climas tropical semi-úmido e subtropical em suas respectivas regiões, no Brasil, e estabeleça as diferenças entre eles, com relação aos regimes térmicos e pluviométricos anuais e aos tipos de vegetação que lhes são característicos.

Questão 02 (Valor: 10 pontos)



O domínio dos mares de morros constitui, do ponto de vista das construções humanas, **o meio físico mais complexo e difícil, quando comparado aos demais domínios morfoclimáticos brasileiros.**

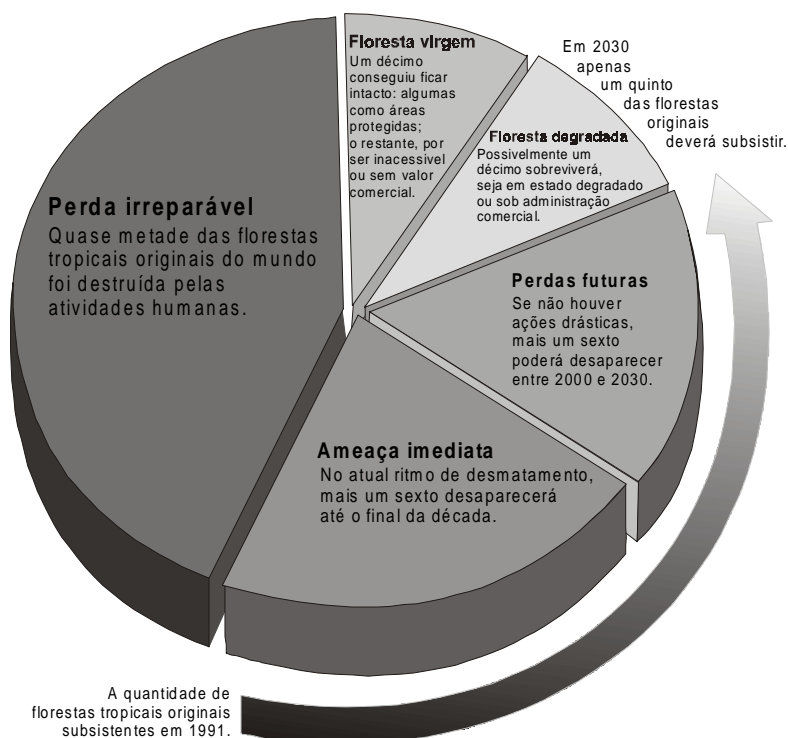
Observando o mapa, indique a localização e as características dos “mares de morros” e explique as razões que justificam a afirmativa em destaque .

Questão 03 (Valor: 15 pontos)

Explique as conseqüências da influência da corrente do Golfo, ou Gulf Stream, na porção noroeste da Europa, e a da corrente de Humboldt, na porção ocidental da América do Sul.

Questão 04 (Valor: 15 pontos)

O CALENDÁRIO DA DESTRUIÇÃO



O diagrama mostra a proporção de florestas tropicais já destruídas no mundo, as perdas previstas para as próximas décadas e a pequena área que poderá sobreviver. A extensão original das florestas úmidas era de 16 000 000 km², da qual apenas metade permanece até hoje.

Com base nas informações, indique as conseqüências da destruição das florestas tropicais sobre o clima e a biodiversidade.

Questão 05 (Valor: 10 pontos)

Considerando os movimentos migratórios, em geral, cite as razões da ruptura do emigrante com o seu lugar de origem e as conseqüências da condição de imigrante em seu lugar de destino.

Questão 06 (Valor: 10 pontos)

A Geografia Crítica analisa as cidades como lugar de injustiças sociais.
Explique essa afirmativa.

Questão 07 (Valor: 10 pontos)

Indique duas transformações básicas ocorridas na agropecuária brasileira, resultantes da introdução do capitalismo no campo.

Questão 08 (Valor: 15 pontos)

Relacione a evolução técnico-industrial com a qualidade de vida, em geral, e seus reflexos ambientais.

REFERÊNCIAS BIBLIOGRÁFICAS

História

KOSHIBA, Luiz. **História**: origens, estruturas e processos. Ensino médio. São Paulo: Atual, 2000.

TEIXEIRA, Cid. Cidade de Salvador: assim começamos. **Correio da Bahia**, Salvador, 28 mar. 1998. Aqui Salvador.

FONTES DAS ILUSTRAÇÕES

Geografia

VESENTINI, José William. **Brasil: sociedade e espaço**: geografia do Brasil. 5. ed. atual. São Paulo: Ática, 1997. p. 231 e 232. (Questão 01)

_____. _____. p. 257. (Questão 02)

_____. **Sociedade e espaço**: geografia geral e do Brasil. 31. ed. reform. e atual. São Paulo: Ática, 2000, p. 292. (Questão 04)
