

# HISTÓRIA — QUESTÕES de 1 a 20 —

## INSTRUÇÃO:

Para responder a essas questões, identifique APENAS UMA ÚNICA alternativa correta e marque o número correspondente na Folha de Respostas.

### Questão 1

O período da história da civilização romana identificado como o Baixo Império caracterizou-se

- 01) pela instauração da *pax romana* e pela estabilidade política e social em todas as províncias do Império.
- 02) pelas grandes realizações artísticas e culturais, que marcaram o apogeu dessa civilização.
- 03) pela anarquia militar e pela elevação do Cristianismo à religião oficial do Estado.
- 04) pela adoção do sistema escravista de produção e pelo crescimento da produção agrícola.
- 05) pela consolidação do poder central e único, estabelecido em Roma, sob a liderança dos Césares, e pelas conquistas territoriais no norte da Europa.

### Questão 2

*O místico, o visionário e o guerreiro, um inigualável estrategista e um audacioso político.*

*Mas, quando Maomé morre, em 632, poucos, fora da Arábia, conhecem o seu nome. Quem poderia imaginar que dois séculos depois seus discípulos criariam o império mais poderoso e influente da Idade Média?*

(Chebel. In: História Viva, p. 23 e 25)

A partir da leitura do texto e dos conhecimentos sobre a civilização muçulmana e o mundo conhecido na época, é correto afirmar:

- 01) O islamismo caracteriza-se por ser uma religião singular, não tendo sofrido a influência de nenhuma outra religião ou de crenças professadas pelos povos vizinhos.
- 02) A religião criada por Maomé é, ainda durante a sua vida, consagrada como a única da península Arábica, e a região, que se constituía um aglomerado de tribos e clãs dispersos, unificou-se politicamente através da própria unificação religiosa.
- 03) A formação do Império Islâmico caracterizou-se pela brutalidade no tratamento dos povos conquistados, que eram obrigados a reconhecer a nova religião e a adotar os costumes dos conquistadores, além de perder suas terras, entregues aos seguidores do Islã.
- 04) A civilização muçulmana, pobre no que diz respeito às conquistas científicas e aos avanços culturais, não marcou presença duradoura nem contribuiu para o desenvolvimento dos povos conquistados.
- 05) A expansão territorial levou os povos islâmicos à conquista dos antigos territórios do Império Romano, no centro-norte da Europa, e ao estabelecimento de centros comerciais na Inglaterra e na Alemanha, durante a maior parte da Idade Média.

### QUESTÕES 3 e 4

## INSTRUÇÃO:

Para responder a essas questões, identifique com V as afirmativas verdadeiras e com F, as falsas. Em seguida, marque, na Folha de Respostas, o número correspondente à alternativa que indica a seqüência correta, de cima para baixo, considerando o seguinte código:

- |             |             |
|-------------|-------------|
| 01) V F F V | 04) V V V F |
| 02) F F V V | 05) F F F V |
| 03) V F V F |             |

*Uma epidemia, conhecida como a Peste Negra, devastou a Europa no século XIV e, se as pessoas aceitavam a idéia do castigo divino como origem do flagelo, elas não deixavam de procurar um agente humano contra o qual descarregar a hostilidade que não podiam manifestar em relação a Deus. O alvo mais evidente era o judeu, o eterno forasteiro, o estranho que se excluía voluntariamente do universo cristão, tido como maligno por aqueles que, havia séculos, eram incitados a odiá-los. Por viverem em compactos grupos fechados, em ruas ou quarteirões bem delimitados, era cômodo acusar e lucrativo pilhar os judeus.*

(Tuchman. In: História Viva, p. 54)

### Questão 3

A Peste Negra constituiu-se um dos fatores responsáveis pela crise que assolou a Europa, no século XI, aliada a outros fatores, como

- ( ) o desequilíbrio entre a produção agrícola e o consumo, devido à incapacidade de acelerar o aumento da produção.
- ( ) as freqüentes invasões dos povos bárbaros e dos sarracenos em toda Europa Ocidental.
- ( ) a maior incidência de conflitos, como a Guerra dos Cem Anos e as revoltas camponesas.
- ( ) ao enfraquecimento da Igreja Católica, provocado pela Reforma Protestante, que dividiu os países europeus, criando novas rivalidades.

### Questão 4

A perseguição à comunidade judaica, referida no texto, se repetiu em outros períodos da história da civilização ocidental, como aconteceu na época

- ( ) da Inquisição, em Portugal, estendida ao Brasil através do Tribunal do Santo Ofício.
- ( ) da Guerra de Independência dos Estados Unidos.
- ( ) do neocolonialismo, concentrada nas colônias alemãs e britânicas do continente africano.
- ( ) da expansão do nazismo, na Alemanha, durante a Segunda Guerra Mundial.

### Questão 5

*Nas artes, o ideal humanista e a preocupação com o rigor científico podem ser encontrados nas mais diferentes manifestações. Trabalhando ora o espaço, na arquitetura, ora as linhas e as cores, na pintura, ou ainda os volumes, na escultura, os artistas sempre expressaram os maiores valores da época: a racionalidade, a individualidade e a dignidade do ser humano.*

(Proença, p. 47)

O texto caracteriza a arte que se desenvolveu

- 01) no Brasil Colônia.
- 02) na Europa medieval.
- 03) no Império Muçulmano.
- 04) no período do Renascimento.
- 05) nos países europeus que adotaram o protestantismo.

### Questão 6

Sobre a empresa colonial montada inicialmente no Brasil, durante século XVI, é correto afirmar:

- 01) A colonização se baseou na exploração de metais preciosos para satisfazer às necessidades econômicas da Metrópole.

- 02) O monopólio foi mantido, de forma exclusiva, por Portugal, que conseguiu afastar, durante todo o período, a ação de contrabandistas.
- 03) O comércio externo era controlado pelos grandes produtores de açúcar e pelos donos das minas de ouro e diamantes.
- 04) O financiamento dos governos inglês e espanhol tornou possível a implantação da empresa açucareira, que exigia um alto investimento inicial.
- 05) A escravidão se impôs devido à necessidade de numerosa mão-de-obra que atendessem a uma grande produção sobre um vasto território.

### Questão 7

*"Brandindo achas e empurrando quilhas  
Vergaram a vertical de Tordesilhas!"*

(Almeida. In: Alencar et al, p.59)

A análise dos versos, aliada aos conhecimentos sobre a interiorização do território brasileiro no século XVII, permite afirmar:

- 01) Os versos se referem aos estrangeiros, principalmente aos ingleses e holandeses, que ocuparam áreas no interior da Colônia, desafiando o Tratado de Tordesilhas.
- 02) As "quilhas" seriam os barcos dos colonizadores, que cruzaram o Atlântico para fundar núcleos de povoamento na Região Norte.
- 03) O desbravamento e a ocupação do interior só foram concretizados com o fim do domínio espanhol e com a restauração da monarquia portuguesa.
- 04) O apresamento de indígenas e a procura de riquezas minerais foram os principais responsáveis pela ocupação do interior.
- 05) A não-existência de rios navegáveis dificultou a interiorização das regiões Sul e Centro-Oeste, retardando a ocupação desses territórios, só concretizada após a emancipação política do País.

### Questão 8

A disponibilidade de mão-de-obra, um dos aspectos fundamentais do pioneirismo inglês no processo de industrialização, ocorreu devido à

- 01) utilização do escravo, abundante nas colônias inglesas, no trabalho fabril.
- 02) legalização de leis trabalhistas, que garantiram aos trabalhadores livres salários justos e boas condições de trabalho.
- 03) expulsão dos camponeses de suas terras comunais pela nobreza rural, que delas se apossam para utilizar como pastagens, criando-se, assim, um excedente de mão-de-obra para o trabalho nas indústrias.
- 04) adoção do trabalho servil compulsório, até então utilizado apenas nas colônias americanas, o qual passa a ser adotada nas fábricas inglesas.
- 05) migração de colonos americanos para a ex-metrópole, após a independência das Treze Colônias, resultante da onda de desemprego ocorrida após a emancipação.

### Questão 9

A Revolução Francesa, que marcou o início da história contemporânea da sociedade ocidental, apresentou, em seu processo, várias fases, que

- 01) colocaram, definitivamente, no poder a nova classe proletária, surgida na França durante essa revolução e que, desde o início, manteve o controle do movimento.
- 02) abriram o caminho para a expansão das idéias socialistas e para a eclosão de revoluções similares em vários países da Europa Ocidental.

- 03) consolidaram a posição dos Déspotas Esclarecidos no poder, através de alianças estabelecidas entre a França e as grandes potências européias.
- 04) expandiram o poder da Igreja Católica, tornando-a religião oficial e única do País, através da união do Estado e da Igreja.
- 05) demonstraram que a insatisfação e a oposição ao Antigo Regime não se restringia apenas à burguesia, mas que estava presente também entre a classe nobre, a classe camponesa e o clero.

### Questão 10

A conferência internacional promovida pelas potências européias que derrotaram o Império Napoleônico, realizada em Viena, entre 1814 e 1815, estabeleceu, como um dos seus princípios básicos, o da legitimidade, que estabelecia a

- 01) restauração das dinastias reinantes na Europa antes da Revolução Francesa.
- 02) substituição das monarquias absolutistas da Europa por governos de caráter liberal e representativo.
- 03) independência das colônias africanas e asiáticas, com a devolução do poder político aos governos legítimos locais.
- 04) reintegração da política econômica mercantilista, rejeitada pelo governo napoleônico e, portanto, banida de todos os países conquistados por Napoleão.
- 05) volta da Família Real portuguesa para a Metrópole e a emancipação política do Brasil.

### Questão 11

I.

*A sociedade ideal imaginada se apresenta como um ideal a construir, a atingir de uma só vez por um esforço de compreensão e de boa vontade dos homens, sem relação com a evolução histórica, mais ou menos determinada, da própria sociedade capitalista.*

(Faria et al., p.157)

II.

*"Constitui um princípio ou teoria de vida e do comportamento que concebe uma sociedade sem governo, em que se obtém a harmonia, não pela submissão à lei, nem obediência à autoridade, mas por acordos livres estabelecidos entre os diversos grupos, territoriais e profissionais, livremente constituídos para a produção e consumo, e para a satisfação da infinita variedade de necessidade e aspirações de um ser civilizado".*

(Kropotkin. In: Faria et al., p. 158)

III.

*O agente transformador da sociedade é a luta de classes, o antagonismo entre explorados e exploradores. Resultado da estrutura produtiva, especialmente da existência da propriedade privada, tais classes, ao longo da história, apresentam interesses opostos, o que induz às lutas, às transformações sociais.*

(Vicentino, p. 295)

Os textos I, II e III apresentam, respectivamente, princípios defendidos pelas seguintes correntes ideológicas:

- 01) Catolicismo Social/Socialismo Científico/Socialismo Utópico.
- 02) Socialismo Utópico/Anarquismo/Socialismo Científico.
- 03) Socialismo Científico/Catolicismo Social/Sindicalismo.
- 04) Sindicalismo/Socialismo Utópico/Socialismo Científico.
- 05) Anarquismo/Sindicalismo/Socialismo Científico.

## Questão 12

As transformações ocorridas no sistema capitalista, a partir das últimas décadas do século XIX, apresentaram, entre as suas características,

- 01) o desenvolvimento do capitalismo comercial e do mercantilismo.
- 02) a dinamização da industrialização nas colônias da África e da Ásia.
- 03) a adoção do livre-cambismo e a consolidação do liberalismo econômico.
- 04) a concentração da produção e a centralização do capital, que deram origem à formação de fortes grupos empresariais.
- 05) a redução das tensões sociais e a diminuição das disputas relacionadas com a conquista de colônias, entre as potências europeias.

## QUESTÕES de 13 a 17

### INSTRUÇÃO:

Para responder a essas questões, identifique as afirmativas verdadeiras. Em seguida, marque, na Folha de Respostas, o número correspondente à alternativa correta, considerando o seguinte código:

- 01) Apenas são verdadeiras as afirmativas I e II.
- 02) Apenas são verdadeiras as afirmativas II, III e IV.
- 03) Apenas são verdadeiras as afirmativas III, IV e V.
- 04) Apenas são verdadeiras as afirmativas I, III, IV e V.
- 05) Todas as afirmativas são verdadeiras.

## Questão 13

O Primeiro Reinado caracterizou-se por ser um período de transição. Foi marcado por uma aguda crise econômica, financeira, social e política. A efetiva consolidação da independência do Brasil só ocorreria a partir de 1831, com a abdicação de D. Pedro.

(Costa & Mello, p. 118)

Com base na leitura do texto e nos conhecimentos sobre as crises que assolaram o País durante o Primeiro Reinado, é correto afirmar:

- I. A independência não foi imediatamente aceita por todos e houve luta, principalmente nas províncias onde o número de comerciantes com interesses ligados a Portugal era maior.
- II. A ala conservadora do Partido Brasileiro — favorável à descentralização administrativa — defendia a implantação de uma monarquia constitucional que restringisse o poder do Imperador.
- III. A Constituição de 1824 foi outorgada e criou o Poder Moderador, da competência do Imperador, assessorado por um Conselho de Estado, que ele próprio nomearia.
- IV. A formulação da Doutrina Monroe contribuiu para que os Estados Unidos fossem o primeiro país a reconhecer, oficialmente, a independência do Brasil.
- V. Durante o Primeiro Reinado, o País perdeu a posse da Província Cisplatina, que se tornou independente após um período de conflitos, adotando o nome de República Oriental do Uruguai.

## Questão 14

São aspectos da economia brasileira da segunda metade do século XIX, período correspondente ao Segundo Reinado:

- I. O sistema de parceria como forma de contratação de mão-de-obra solucionou definitivamente a crise da cafeicultura.

- II. A crise na cafeicultura levou o Governo Imperial a priorizar investimentos nas áreas de produção de açúcar, minérios e exploração da borracha.
- III. A abolição do trabalho escravo se tornou um fator fundamental para a modernização e para a consolidação do capitalismo no País.
- IV. O Governo Imperial investiu na criação de uma infra-estrutura, como portos e estradas de ferro, utilizando o financiamento do capital inglês.
- V. O equilíbrio da economia decorria das vendas do mercado externo, e a produção interna de bens de consumo era limitada.

## Questão 15

A Primeira República brasileira vivenciou conflitos sociais, como a Guerra de Canudos, ocorrida no sertão da Bahia, que se caracterizou

- I. pelo misticismo religioso que procurava, no plano espiritual, compensação para a miséria material em que vivia a população sertaneja.
- II. pela oposição à República e pelo apoio ao retorno do regime monárquico.
- III. pela participação efetiva da Igreja, que viu, no movimento, uma forma de agredir o novo governo republicano, que havia separado a Igreja do Estado.
- IV. por uma forte reação dos grupos de cangaço ao movimento, não aceitando a autoridade da companhia que controlava a propriedade coletiva estabelecida em Canudos.
- V. pelo apoio dado ao movimento pelos grandes fazendeiros locais, interessados em manter confinados na região de Canudos, e longe dos seus latifúndios, uma população de camponeses sem-terra.

## Questão 16



Guerra nunca mais, diz o cartaz alemão de 1924.

A análise do cartaz, aliada aos conhecimentos sobre o período entre-guerras, permite afirmar:

- I. A manutenção da paz mundial após a Primeira Guerra Mundial foi possível graças ao trabalho de pacificação realizado pela Liga das Nações, apoiado nos 14 Pontos de Wilson e sob a liderança dos Estados Unidos.

- II. As condições de rendição foram extremamente desfavoráveis para a Alemanha, que perdeu territórios, teve seu exército drasticamente reduzido e foi condenada a pagar pesadas indenizações.
- III. O final da Primeira Guerra Mundial marcou a perda da hegemonia da Europa sobre o mundo e acentuou o crescente poderio dos Estados Unidos e do Japão.
- IV. A mensagem de esperança de uma paz duradoura do cartaz não foi cumprida, e a ascensão do nazismo trouxe de volta a militarização da Alemanha e uma nova política de agressão e de conquista territorial.
- V. A grave crise econômica que atingiu o mundo capitalista, em 1929, e que agravou o quadro internacional, foi superada com a adoção da completa liberdade de mercado, defendida por teóricos, como Friedrich von Hayek, e possibilitou uma progressiva recuperação econômica mundial.

### Questão 17

“Ninguém segura este País”. Essa frase acompanhou o período de ascensão e apogeu do regime militar instaurado no Brasil em 1964.

Sobre as transformações ocorridas no primeiro governo, liderado pelo Marechal Castelo Branco, é correto afirmar:

- I. O bipartidarismo foi criado, no plano político, e passaram a ser indiretas as eleições para presidente e governador.
- II. No setor econômico, foi adotada uma política econômica que reduziu a inflação, mas causou recessão, diminuiu os salários, aumentou o desemprego e provocou a falência de um grande número de empresas nacionais.
- III. A política externa caracterizou-se pela aproximação em relação a outros regimes ditatoriais vigentes, como o de Fidel Castro, em Cuba e o de Augusto Pinochet, no Chile.
- IV. O Ato Institucional nº 5 foi editado pelo Governo, ampliando os poderes do Legislativo e cerceando os direitos individuais.
- V. Durante o período final da presidência do Marechal Castelo Branco, o modelo econômico adotado apresenta resultados positivos, e os meios de propaganda começaram a proclamar a existência de um “milagre brasileiro”, representado pelo aumento do consumo, do emprego e pelo crescimento da atividade de multinacionais no País.

### QUESTÕES de 18 a 20

#### INSTRUÇÃO:

**Para responder a essas questões, identifique APENAS UMA ÚNICA alternativa correta.**

### Questão 18

Ronald Reagan, ex-presidente dos Estados Unidos, recentemente falecido, e Margaret Thatcher, ex-primeira ministra do Reino Unido, foram os líderes mundiais que mais se destacaram, nos anos 1970 e 1980,

- 01) no processo de expansão do neoliberalismo no mundo capitalista.
- 02) na defesa do Estado de Bem-Estar Social, que estabelecia a intervenção do Estado na economia.

- 03) na manutenção da política colonialista nos continentes africano e asiático, retardando o processo de emancipação política dessas regiões.
- 04) na continuação da Guerra Fria, dificultando a reaproximação da URSS e dos países comunistas da Europa Oriental com os governos democráticos da Europa.
- 05) na luta pela criação da Organização das Nações Unidas (ONU), organismo dedicado à manutenção da paz mundial.

### Questão 19

Ao assumir o seu primeiro mandato como presidente da República brasileira, Fernando Henrique Cardoso apresentou um projeto desenvolvimentista para o País, baseado

- 01) na ação protetora do Estado, que viria a intervir, com maior força, na vida econômica da Nação.
- 02) na implantação do Plano Cruzado, que deveria vencer a inflação e colocar o País em uma posição de retomada do crescimento econômico.
- 03) na internacionalização da economia, devido à crescente globalização da produção, da comercialização, do fluxo de capitais e da tecnologia.
- 04) na Reforma Agrária, que deveria redistribuir as terras produtivas entre a população camponesa e criar um amplo sistema de cooperativas agrícolas.
- 05) no Plano de Metas, que visava à substituição de importações nos setores de bens de capital e de bens de consumo duráveis.

### Questão 20

*Exatamente 60 anos depois da maior operação militar da Segunda Guerra Mundial (Dia D, 6 de junho de 1944), reúnem-se na Normandia 17 chefes de países. Pela primeira vez, foram convidados para a cerimônia um líder russo — A URSS era aliada do Ocidente, mas passou a ser inimiga com a Guerra Fria (1945-1989) — e um alemão — gesto ainda mais significativo, uma vez que os aliados combatiam a Alemanha nazista. A comemoração acontece em um momento delicado em que antigos aliados têm hoje posições diametralmente opostas em certas áreas da política internacional.*

(Mello. In: IstoÉ, p. 81)

A análise do texto e os conhecimentos sobre o assunto permitem afirmar:

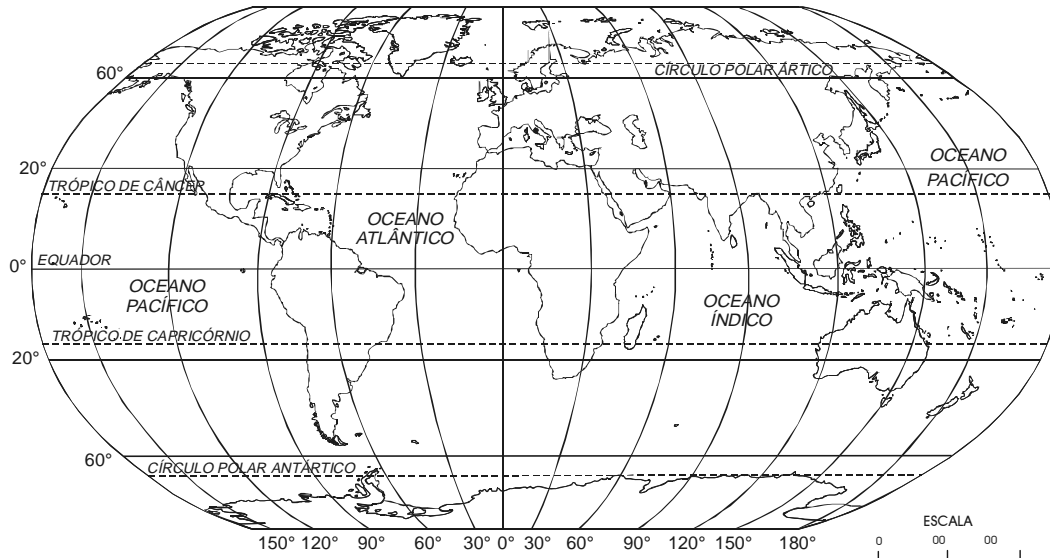
- 01) A invasão da Normandia constituiu-se um elemento surpresa para o governo hitlerista, que considerava serem os aliados incapazes de uma investida maciça em territórios dominados pelo III Reich.
- 02) O sucesso do Dia D provocou a derrota definitiva dos países do Eixo e o final da Segunda Guerra Mundial.
- 03) A presença da Rússia nas comemorações deve-se ao fato de o País ter, recentemente, passado a integrar a União Européia.
- 04) Os antigos aliados, França e Estados Unidos, mantêm hoje uma relação difícil devido à oposição francesa à atuação norte-americana na Guerra do Iraque.
- 05) A recente disseminação de idéias neonazistas e o difícil, e ainda incompleto, processo de reunificação das duas Alemanhas quase inviabilizaram a participação do País nas comemorações.

## QUESTÕES de 21 a 40

### INSTRUÇÃO:

Para responder a essas questões, identifique APENAS UMA ÚNICA alternativa correta e marque o número correspondente na Folha de Respostas.

### Questão 21



A partir da análise do mapa e dos conhecimentos sobre mapas, escalas, coordenadas geográficas e fusos horários, pode-se afirmar:

- 01) O mapa apresentado é físico, usado somente por geógrafos e cartógrafos.
- 02) A escala é grande e do tipo numérica.
- 03) A localização geográfica e astronômica do Brasil é responsável pela existência de seus cinco fusos horários.
- 04) Os fusos horários brasileiros encontram-se a leste do GMT, e, por essa razão, as horas, no País, estão atrasadas em relação a esse meridiano.
- 05) A África, localizada em baixas latitudes, está a leste do Brasil e ao sul da Europa.

### Questão 22

Sobre o relevo baiano, pode-se afirmar:

- 01) As cuestas constituem o relevo dominante na Bahia, devido à natureza das rochas e às condições climáticas.
- 02) A Chapada Diamantina é uma superfície soerguida, dobrada, falhada e aplainada, formada por rochas sedimentares.
- 03) A altimetria da Chapada Diamantina varia de 1000m a 3000m, em decorrência da não-diversificação das rochas que formam esse relevo.
- 04) A Depressão Sertaneja, o menor compartimento do relevo baiano, foi formada por rochas basálticas e por intensos processos erosivos.
- 05) O planalto Sul baiano é de formação geológica recente e nele existem colinas, morros e montanhas.

### Questão 23

Com base nos conhecimentos sobre a atmosfera e suas camadas, pode-se afirmar:

- 01) Os gases que compõem a atmosfera estão concentrados na mesma proporção em todas as camadas.
- 02) A estratosfera é a camada na qual ocorrem os fenômenos meteorológicos, por isso ela é conhecida como zona de turbulência.

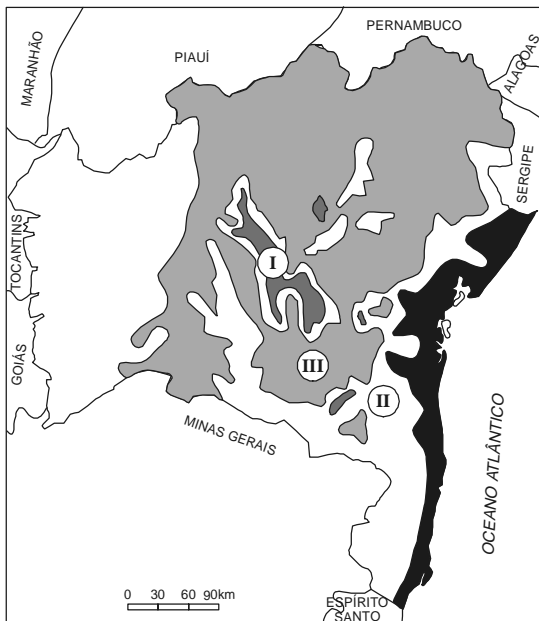
- 03) A troposfera é a camada superior da atmosfera, nela o ar é rarefeito e orbitam os satélites naturais.
- 04) A espessura da atmosfera é uniforme em todas as camadas, exceto na troposfera, devido à presença do ozônio.
- 05) Na ionosfera, a temperatura é elevada, devido à existência dos íons.

### Questão 24

Sobre os fatores e elementos do clima, pode-se concluir:

- 01) As correntes marítimas constituem o fator climático que mais influencia os climas brasileiros.
- 02) O efeito da continentalidade não é sentido no Brasil, porque o território brasileiro é contemplado com o maior litoral do mundo.
- 03) As áreas localizadas próximo ao litoral possuem o clima mais úmido e apresentam uma grande amplitude térmica.
- 04) Os raios solares, nas regiões próximas ao Equador, incidem obliquamente e, devido a esse fato, os países que estão localizados nessa zona térmica apresentam temperaturas elevadas.
- 05) As temperaturas variam conforme a latitude, devido à forma da Terra.

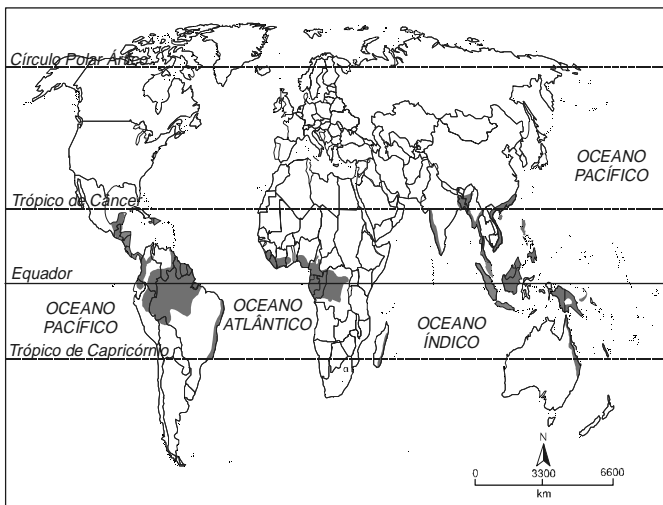
## Questão 25



A análise do mapa e os conhecimentos sobre os climas da Bahia possibilitam afirmar:

- 01) A Bahia é o Estado brasileiro que apresenta as maiores amplitudes térmicas do País, devido à sua localização geográfica.
- 02) As estações mais definidas e o mais alto índice pluviométrico do Estado ocorrem em I.
- 03) O clima I é o tropical de altitude, e as temperaturas médias anuais mais baixas no Estado são registradas nessa região.
- 04) O clima representado por II é influenciado pelo fenômeno da friagem e pela mEc, no verão, e, por esse motivo, as médias térmicas são inferiores a 18°C.
- 05) O clima indicado por III é o predominante no Estado, as chuvas são concentradas no inverno e na primavera, e as médias térmicas anuais são inferiores a 25°C.

## Questão 26



Sobre os solos e o bioma destacado no mapa e sua importância, pode-se concluir:

- 01) A distribuição do bioma apresentado está diretamente influenciada pela fertilidade do solo e pela topografia do relevo pouco acidentado.

- 02) Os solos predominantes são os azonais, maduros, rasos e com horizontes definidos.
- 03) As espécies dominantes nesse bioma são as bromeliáceas e a taiga.
- 04) Esse bioma encontra-se em regiões de baixa latitude, com climas quentes e úmidos.
- 05) A mesma flora da floresta de monções é encontrada nesse bioma, mas o solo e a forma são bastante diferentes.

## Questão 27



A análise do mapa e os conhecimentos sobre as formações vegetais do Brasil possibilitam afirmar:

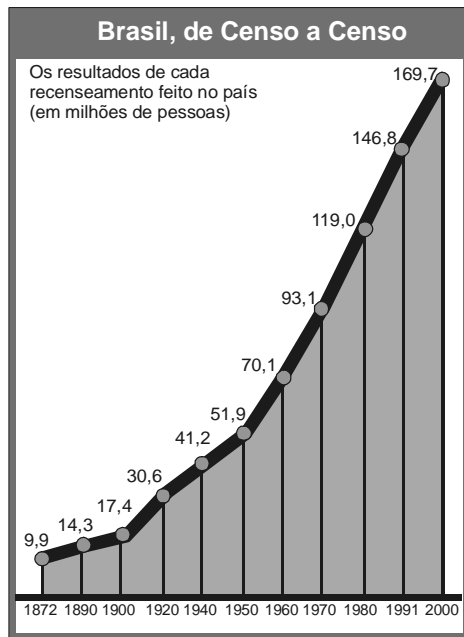
- 01) Em I, predomina a vegetação halófila, perene e estratificada.
- 02) Em II, as formações são higrófilas, densas e heterogêneas.
- 03) Em III, a vegetação é xerófila, latifoliada e homogênea.
- 04) Em IV, a vegetação é hidrófila, perene, latifoliada e rarefeita.
- 05) Em V, a vegetação é aciculifoliada e mesófila no centro-norte, e estépica, no sul.

## Questão 28

Os conhecimentos sobre a hidrografia brasileira permitem afirmar:

- 01) A bacia do São Francisco é a única genuinamente brasileira que possui drenagem exorréica.
- 02) A bacia do São Francisco banha todos os Estados nordestinos e liga a Região Nordeste à Região Centro-Sul.
- 03) A bacia Amazônica possui regime misto, é amplamente navegável em toda a sua extensão, mas é inadequada para a exploração de hidreletricidade.
- 04) A bacia do Tocantins fica ao norte do território nacional, seu afluente principal é o rio Araguaia e, devido à importância desse rio do ponto de vista de volume de água e extensão, essa bacia é chamada de Tocantins-Araguaia.
- 05) A bacia do Leste é formada apenas por rios temporários, cuja importância econômica está restrita à região que eles banham.

## Questão 29



A análise do gráfico e os conhecimentos sobre crescimento e distribuição da população brasileira possibilitam afirmar:

- 01) O crescimento demográfico brasileiro, na última década, foi homogêneo em todas as regiões do País, devido ao aumento da expectativa de vida.
- 02) As políticas de combate à mortalidade infantil, ocorrida nas últimas décadas, explicam por que a mortalidade declinou e a natalidade se igualou em todas as regiões.
- 03) As causas principais da desaceleração demográfica ocorrida no País são a popularização de métodos anticoncepcionais e o processo de urbanização.
- 04) O Brasil é o único país da América Latina que conseguiu estabilizar seu crescimento demográfico.
- 05) De 1920 a 1960, o crescimento demográfico brasileiro foi lento, porque, nesse período, o governo implantou políticas antinatalistas.

## Questão 30

*Você conhece o pedreiro Waldemar?  
Não conhece?  
Mas vou lhe apresentar  
De madrugada toma o trem da circular  
Faz tanta casa e não tem pra morar  
Leva marmita embrulhada no jornal  
Se tem almoço, nem sempre tem jantar  
O Waldemar é mestre no ofício  
Constrói o edifício  
E depois não pode entrar.*

(Batista. In: Macedo & Oliveira, p. 98)

O movimento da população sugerido nos versos da canção é

- 01) o pendular.
- 02) a transumância.
- 03) o êxodo rural.
- 04) a imigração.
- 05) a migração da cidade para o campo.

## Questão 31

*Veio camelô vender anel, cordão  
Perfume barato  
baiana pra fazer pastel  
um bom churrasco de gato...  
Quatro horas da manhã, baixou  
O santo na porta-bandeira,  
A moçada resolveu parar e então...*

(Bosco & Blanc. In: Macedo & Oliveira, p. 75)

A partir da análise da letra da canção e dos conhecimentos sobre as atividades econômicas no Brasil, é correto afirmar:

- 01) Os versos reproduzem a situação econômica do País e a hipertrofia do setor secundário.
- 02) A expansão da economia subterrânea retratada nos versos ajudam a explicar o IDH da população.
- 03) O setor primário é a principal atividade econômica nas regiões metropolitanas.
- 04) O setor terciário é o que tem menor capacidade de absorção da população ativa, devido à baixa qualificação da PEA.
- 05) A ocorrência da população inativa no Brasil deve-se ao fato de o País possuir, predominantemente, uma população jovem.

## Questão 32

*Vocês que fazem parte dessa massa  
Que passa nos projetos do futuro  
É duro tanto ter que caminhar  
E dar muito mais do que receber  
E ter que demonstrar sua coragem  
À margem do que possa parecer  
E ver que toda essa engrenagem  
Já sente a ferrugem lhe comer  
Eh, oh, oh, vida de gado  
Povo marcado,  
eh, povo feliz!*

(Ramalho. In: Macedo & Oliveira, p. 69)

Com base nos versos apresentados e nos conhecimentos sobre a realidade brasileira, pode-se afirmar:

- 01) A excludência na sociedade brasileira tem sua raiz no modelo econômico adotado.
- 02) A explosão demográfica é a principal causa da situação destacada nos versos.
- 03) A metropolização é a única causa dos problemas retratados, pois, além de agravá-los, aumenta a miséria pessoal.
- 04) A única saída para a resolução dos problemas enfocados é a implantação da reforma agrária no País.
- 05) A falta de emprego no campo empurra a população para os centros urbanos, porque neles a absorção da PEA é garantida.

## Questão 33

Sobre a agricultura, na Bahia, pode-se afirmar:

- 01) O maior produtor mundial de algodão herbáceo é Vitória da Conquista.
- 02) O cultivo de milho destinado à alimentação humana e à animal tem boa distribuição geográfica na Bahia, porém a sua produção é instável em razão do clima, da tecnologia e do mercado.
- 03) O cultivo de cacau utilizando o sistema de *plantation* se estende a todo o litoral da Bahia, e sua produção é destinada exclusivamente ao mercado externo.
- 04) A banana é cultivada somente para o autoconsumo, porque seu valor comercial é muito baixo, não compensando, assim, os investimentos.
- 05) O coco da Bahia é uma cultura restrita ao litoral baiano, sendo que o Brasil é o único exportador da América Latina.

## Questão 34

*O clima de "festa" gerado pelo pós-guerra em todo o mundo também contagiou o Brasil, invadido pela onda de neoliberalismo que varria o Ocidente. Nada de barreiras alfandegárias aos produtos estrangeiros; nada de controles econômicos excessivos e, para os mais radicais, nada do próprio intervencionismo estatal que, até esse momento, tinha garantido nossa economia e nossa industrialização.*

(Mendonça, p. 51)

A partir do texto e dos conhecimentos sobre a industrialização brasileira e a política econômica adotada no período referido, pode-se afirmar:

- 01) A industrialização brasileira ocorreu simultaneamente em todas as regiões do País, mas apenas na Região Sudeste ela se consolidou, devido ao grande fluxo de capital para essa região.
- 02) O momento político destacado no texto possibilitou o aumento do PIB e expressivas conquistas sociais.
- 03) A internacionalização da economia tornou-se uma realidade, e a participação do Estado ficou limitada a normatizar a política industrial.
- 04) A entrada do capital estrangeiro aumentou as reservas cambiais, e o País se tornou menos vulnerável às crises do mercado internacional.
- 05) A riqueza ficou mais concentrada com o neoliberalismo, e a desigualdade se acentuou.

---

### Questão 35

Sobre as indústrias no Brasil, pode-se afirmar:

- 01) A industrialização tardia é a principal causa da subordinação do campo às cidades, nos países emergentes.
- 02) As indústrias de bens de produção, no Brasil, estão concentradas na Região Norte, devido à abundância de matéria-prima.
- 03) As indústrias de bens intermediários, como a automobilística, a de cimento e a de equipamentos eletrônicos, se concentram na Região Centro-Sul, devido ao grande mercado consumidor.
- 04) A descentralização industrial tornou-se uma realidade no Brasil, devido aos incentivos fiscais dos governos estaduais, sobretudo nas regiões Nordeste, Norte e Centro-Oeste.
- 05) A formação de novas áreas conurbadas no Brasil promoveu a desconcentração industrial, já que essas áreas dispunham de mão-de-obra barata e um mercado consumidor com grande poder aquisitivo.

---

### Questão 36

Nas últimas décadas, a proliferação de produtos oriundos de outros países tornou-se muito comum no Brasil. Esses produtos invadiram supermercados, estabelecimentos comerciais e *shoppings*. Não é mais novidade tomar um vinho chileno, comprar um perfume francês, usar uma malha Benetton ou comprar um carro americano.

Nesse contexto, a produção do novo, a criatividade e a reprodução de bens de consumo em escala mundial ganhou um expressivo valor na sociedade globalizada.

Com base nas informações e nos conhecimentos sobre a globalização e suas implicações, pode-se afirmar:

- 01) A globalização tornou os Estados mais autônomos e assegurou a soberania, fortalecendo as fronteiras nacionais.
- 02) Os países que possuem mão-de-obra mais abundante são os mais favorecidos pelo mundo globalizado, porque ela será absorvida em todos os segmentos da economia, e a produtividade será maior.
- 03) O sucesso da economia chinesa no mundo globalizado está associado aos grandes recursos naturais, ao uso da tecnologia de ponta em todos os segmentos e à expressiva mão-de-obra.

- 04) A globalização criou padrões de consumo e de valores, que influenciaram as culturas nacionais e a perda de identidade dos países mais vulneráveis.
- 05) Os países importadores alcançaram, no mundo globalizado, expressivas conquistas de mercado internacional, que lhes asseguram o poder de manipular os preços no mercado externo a seu favor.

---

### Questão 37

Sobre a divisão internacional do trabalho, pode-se afirmar:

- 01) A internacionalização do processo de produção industrial modificou a divisão internacional do trabalho e, atualmente, o mundo é dividido em países industrializados e países fornecedores de matéria-prima.
- 02) A nova divisão internacional do trabalho beneficiou a economia dos países emergentes, que passaram a exportar exclusivamente *commodities*.
- 03) A nova divisão internacional do trabalho não retrata fielmente a realidade da economia mundial.
- 04) A ação das empresas multinacionais no mundo globalizado melhorou o IDH da população mundial e possibilitou a qualificação da mão-de-obra dos mercados emergentes.
- 05) A nova divisão internacional do trabalho possibilitou que os países de industrialização tardia superassem sua estagnação econômica.

---

### Questão 38

Sobre a Região Nordeste, pode-se afirmar:

- 01) Limita-se com a Região Norte, na porção oriental.
- 02) Possui solos lixiviados, na porção ocidental, devido ao elevado índice pluviométrico e ao desmatamento da Mata Atlântica.
- 03) Está dividida em várias sub-regiões, sendo que o domínio da caatinga está localizado em áreas de depressão, rodeadas por planaltos e chapadas.
- 04) Caracteriza-se pelo predomínio de rios intermitentes, com regime misto e drenagem aréica.
- 05) Apresenta uma estrutura geológica com predomínio de bacias sedimentares e ausência de afloramento do embasamento cristalino e de inselbergs.

---

### Questão 39

Os conhecimentos sobre a Região Nordeste e sua industrialização possibilitam afirmar:

- 01) A industrialização nordestina não melhorou o IDH da população, porque ela se limitou a produzir bens de consumo duráveis, segmento industrial que não absorve a PEA, devido ao elevado nível de mecanização.
- 02) A instalação das agroindústrias na zona rural promove uma maior concentração das terras e a eliminação de postos de trabalho.
- 03) A baixa qualificação da mão-de-obra é a principal causa de a industrialização não ter promovido o desenvolvimento da região.
- 04) Os limitados recursos naturais explicam por que a industrialização nordestina foi tardia.
- 05) A descapitalização da região, a falta de um sistema viário eficiente e as secas prolongadas constituem a principal causa de o Nordeste ser a região de maior repulsão industrial do País.

## Questão 40

*O pouco que ainda resta de mata primitiva na região de São Bernardo, distante 14 quilômetros do centro de Vitória da Conquista, está sendo derrubado e queimado. "Isto é um crime ecológico", adverte [pesquisador] após o estudo das cinco últimas manchas de florestas primitivas com altitudes que variam de 908 a 968 metros, cujos topos de morros estão sendo devastados. Até 1975 havia 12 zonas florestais.*

(Macário. In: A Tarde, p. 21)

A partir da análise do texto e dos conhecimentos sobre a questão referida, pode-se afirmar:

- 01) Os impactos ambientais causados pelas queimadas são compensados pelos lucros obtidos nas atividades agrícolas praticadas na porção oeste do município de Vitória da Conquista.
- 02) A vegetação de Vitória da Conquista é predominantemente homogênea e densa, e sua devastação compromete a fertilidade do solo, que é de origem vulcânica.
- 03) O desmatamento tem provocado alterações na bacia hidrográfica do rio São Bernardo, que foi a mais importante do município, comprometendo nascentes e córregos.
- 04) Os desmatamentos ameaçam a fauna de pequeno porte, porque a de grande porte migra para outras regiões.
- 05) A vegetação devastada faz parte da floresta equatorial, o bioma mais destruído do Brasil, devido ao elevado valor comercial das espécies existentes.

---

### Referências bibliográficas

#### Questão 2

CHEBEL, Malek. As três vidas de Maomé. Tradução Alexandre Marsela. **História Viva**. São Paulo: Duetto, Ano 1, n. 8, jun. 2004. (Adaptado)

#### QUESTÕES 3 e 4

TUCHMAN, Barbara. A peste devasta a Europa. Tradução por Alexandre Marsela. **História Viva**. São Paulo: Duetto, Ano 1, n. 8, jun. 2004. (Adaptado)

#### Questão 5

PROENÇA, Graça. **História em movimento**. São Paulo: Ática, 1998.

#### Questão 7

ALMEIDA, Guilherme. In: ALENCAR, Francisco et al. São Paulo: Ao Livro Técnico, 1996.

#### Questão 11

FARIA, Ricardo et al. **História**. São Paulo: Lê, s/d. v. 3.

VICENTINO, Cláudio. **História geral**. São Paulo: Scipione, 1997.

#### Questão 13

COSTA, Luís César; MELLO, Leonel. **História do Brasil**. 3. ed. São Paulo: Scipione, 1993.

#### Questão 20

MELLO, Kátia. O grande dia. **IstoÉ**, São Paulo: Três, n. 1809, 9 jun. 2004. (Adaptado)

#### Questão 30

BATISTA, Wilson. Pedreiro Waldemar. In: MACEDO, José R.; OLIVEIRA, Mariley W. **Brasil: uma história em construção**. São Paulo: Editora do Brasil, 1996.

#### Questão 31

BOSCO, João; BLANC, Aldir. De frente pro crime. In: \_\_\_\_\_.

#### Questão 32

RAMALHO, Zé. Admirável gado novo. In: \_\_\_\_\_.

#### Questão 34

MENDONÇA, Sônia. **A industrialização brasileira**. São Paulo: Moderna, 1995.

#### Questão 40

MACÁRIO, Jeremias. Queimadas reduzem mapa primitivo. **A Tarde**, Salvador, 13 jun. 2004. Municípios.

### Fontes das ilustrações

#### Questão 16

PAZZINATO, Alceu; SENISE, Maria Helena. **História moderna e contemporânea**. São Paulo: Ática, 2000. p. 223.

#### Questão 25

SILVA, Barbara-Christine Nentwig. **Atlas escolar Bahia: espaço geopolítico e cultural**. João Pessoa: Grafset, 2000. p. 50. (Adaptada)

#### Questão 26

FURLAN, Sueli Ângelo; NUCCI, João Carlos. **A conservação das florestas tropicais**. São Paulo: Atual, 1999. p. 12. (Adaptada)

#### Questão 27

\_\_\_\_\_.

#### Questão 29

VESENTINI, José William. **Geografia: série Brasil**. São Paulo: Ática, 2003. p. 216.

\* \* \*

# MATEMÁTICA — QUESTÕES de 41 a 60

## INSTRUÇÃO:

Para responder a essas questões, identifique APENAS UMA ÚNICA alternativa correta e marque o número correspondente na Folha de Respostas.

### Questão 41

Os conjuntos X, Y e Z têm, respectivamente, 4, 6 e 7 elementos.

O número mínimo de elementos que o conjunto  $Z - (X \cap Y \cap Z)$  pode ter é

- 01) 1                                      03) 4                                      05) 7  
02) 3                                      04) 6

### Questão 42

As embalagens usadas por um restaurante para acondicionar a comida que vende têm 40g de peso unitário.

O restaurante diz cobrar R\$22,00 por kg de alimento, mas, como não desconta o peso da embalagem, pode-se concluir que o preço real cobrado por kg é, aproximadamente, igual a

- 01) R\$22,40                                      03) R\$22,90                                      05) R\$23,30  
02) R\$22,60                                      04) R\$23,10

### Questão 43

Sabe-se que a distância total a ser percorrida em uma Meia Maratona é de 24km e que um atleta, que corre a uma velocidade média de 320 metros

por minuto, em  $\frac{1}{5}$  de hora terá percorrido x% do percurso total.

Com base nessa informação, pode-se afirmar que o valor de x é

- 01) 12                                      03) 22                                      05) 30  
02) 16                                      04) 24

### Questão 44

Considerando-se as funções reais  $f(x) = x^3 + 5x + 3$  e  $g(x) = x^2 + x - 1$ ,

pode-se afirmar que  $\left| \frac{f(i)}{g(1+i)} \right|$

- 01)  $\frac{2}{3}$   
02) 1  
03)  $\frac{5}{3}$   
04) 2  
05)  $\frac{9}{4}$

### Questão 45

Uma indústria produziu 182000 unidades de certo produto, num período de 6 anos.

Supondo-se que a produção tenha triplicado a cada ano, pode-se concluir que o número de unidades produzidas no segundo ano foi igual a

- 01) 900  
02) 1200  
03) 1500  
04) 2100  
05) 2400



### Questão 51

Se o resto da divisão do polinômio  $P(x) = ax^3 + bx^2 - 3x + 2$  por  $D(x) = x^2 - 1$  é  $-3$ , então  $P(x)$  é divisível por

- 01)  $x^2 - 1$
- 02)  $x^2 - 4$
- 03)  $x$
- 04)  $x + 2$
- 05)  $x - 2$

### Questão 52

As constantes não nulas  $a, b, c$  e  $d$  formam, nessa ordem, uma progressão geométrica de razão  $q$ . A partir dessa informação, pode-se concluir que o determinante da matriz

$$A = \begin{vmatrix} a & 1 & b \\ 0 & 1 & 0 \\ c & 1 & d \end{vmatrix} \text{ é igual a}$$

- 01) 0
- 02)  $4(a + q)$
- 03)  $2q(a - q)$
- 04)  $2aq^3$
- 05)  $a(1 + q + q^2 + q^3)$

### Questão 53

Três amigos, A, B e C, foram às compras e gastaram um total de R\$ 187,00. Sabe-se que A gastou R\$18,00 a menos que B, e este gastou R10,00 a menos que C, portanto

- 01) A e C gastaram juntos R\$112,00.
- 02) B e C gastaram juntos R\$140,00.
- 03) A gastou R\$75,00.
- 04) B gastou R\$ 47,00.
- 05) C gastou R\$65,00.

### Questão 54

O coeficiente de  $x^4$  no polinômio  $P(x) = 3x^2(x + 2)^4$  é

- 01) 72
- 02) 48
- 03) 24
- 04) 12
- 05) 6

### QUESTÕES 55 e 56

Em uma turma de 15 estudantes: 8 são rapazes e 7 são moças.

### Questão 55

Sabendo-se que o rapaz A e a moça B fazem parte dessa turma, pode-se concluir que o número máximo de grupos com 3 rapazes e 2 moças que se pode formar, incluindo A e excluindo B, é igual a

- 01) 56
- 02) 225
- 03) 315
- 04) 420
- 05) 525

### Questão 56

Escolhendo-se ao acaso dois estudantes dessa turma, a probabilidade  $p$  de serem ambos rapazes é tal que

- 01)  $23\% < p < 28\%$
- 02)  $28\% < p < 33\%$
- 03)  $33\% < p < 38\%$
- 04)  $38\% < p < 43\%$
- 05)  $43\% < p < 48\%$

