


Q.01



Fonte: Adaptado de **Cadernos Le Monde Diplomatique**, jan. 2002.

Com base na *charge*, apresente

- dois aspectos da realidade contemporânea que atentam contra a soberania dos estados-nacionais. Justifique.
- um aspecto em que a soberania dos estados-nacionais seja exercida efetivamente sobre seu próprio território. Justifique.

Q.02

SPANGLISH

O diário "El País" de 02/10/2000 publicou uma entrevista com Ilan Stavans, escritor e filólogo mexicano, autor do primeiro dicionário de *spanGLISH*, uma língua com origens nos subúrbios hispânicos de Miami, Los Angeles e Nova Iorque. Com cerca de 6000 palavras, esta língua nasceu do choque do Espanhol com o Inglês e é, segundo aquele filólogo, "uma nova maneira de ser hispânico nos Estados Unidos". A entrevista termina com uma lista de algumas palavras a incluir no dicionário; por ex., *culísimo* = muito frio (do inglês *cool*).

Fonte: Lexicon, **Vocabulário de Filosofia**, (<http://ocanto.esensiveu.net/lexs.htm>).

Com base no texto,

- explique qual é o fenômeno geográfico responsável por essa fusão de línguas, nos EUA.
- cite e explique uma consequência possível desse fenômeno geográfico.

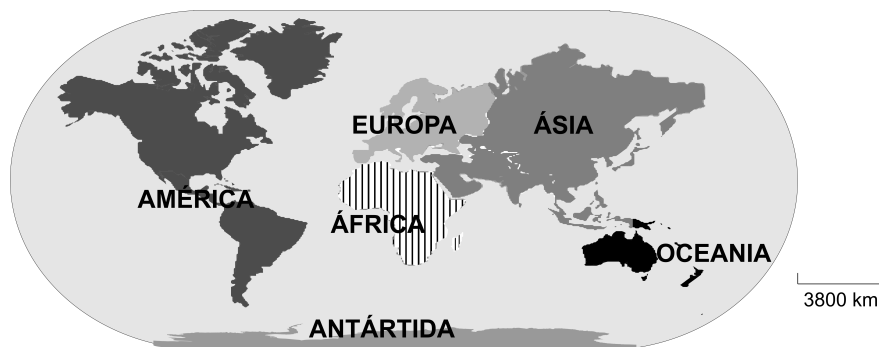
Q.03

O objetivo da elaboração do Índice de Desenvolvimento Humano (IDH) é oferecer um contraponto a outro indicador muito utilizado, o Produto Interno Bruto (PIB) per capita, que considera apenas a dimensão econômica do desenvolvimento. Criado por Mahbub ul Haq, com a colaboração do economista indiano Amartya Sen (...), o IDH pretende ser uma medida geral, sintética, do desenvolvimento humano. Não abrange todos os aspectos do desenvolvimento e não é uma representação de “felicidade” das pessoas, nem indica “o melhor lugar para se viver”.

Fonte: Adaptado de <http://www.pnud.org.br>, out. 2006.

- Quais os indicadores que compõem o IDH? Apresente um aspecto relevante da realidade social ausente dessa composição.
- Analise a região do Sahel, na África, considerando o texto acima e os indicadores que compõem o IDH.

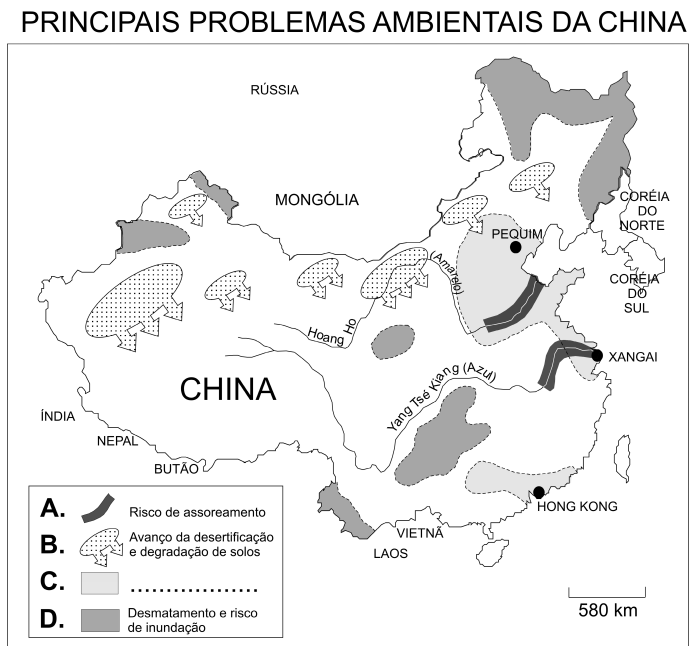
Q.04 Observe o mapa.



Fonte: Atlas geográfico escolar, IBGE, 2002.

- A divisão por continentes, no mapa acima, representa adequadamente a atual regionalidade do mundo? Justifique.
- Apresente, em forma de texto, outra possibilidade de divisão regional do mundo. Justifique.

Q.05 Leia o mapa.



Fonte: **Journal of Environment** (2003 e 2004).

- a) Indique a legenda correta para o problema ambiental representado em **C**.
- b) Desenvolva uma análise que relacione características básicas da atual economia da China ao problema ambiental representado em **C**.

Q.06

O biodiesel é um combustível biodegradável, derivado basicamente de diversas fontes vegetais, e que pode substituir total ou parcialmente o diesel de petróleo em vários tipos de motores.

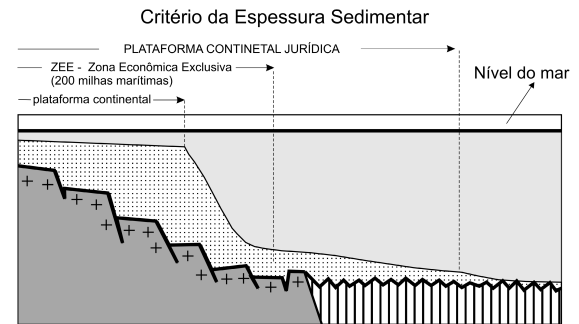
- a) Dê exemplo de duas fontes utilizadas na produção do biodiesel.
- b) Explique por que o biodiesel tem sido considerado uma alternativa econômica e ambientalmente viável para o Brasil.

Q.07

Além do conceito de Plataforma Continental, do ponto de vista geomorfológico, temos também o conceito de Plataforma Continental “Jurídica”. O desenho ao lado mostra um dos critérios possíveis para a delimitação da Plataforma Continental “Jurídica”, no Brasil.

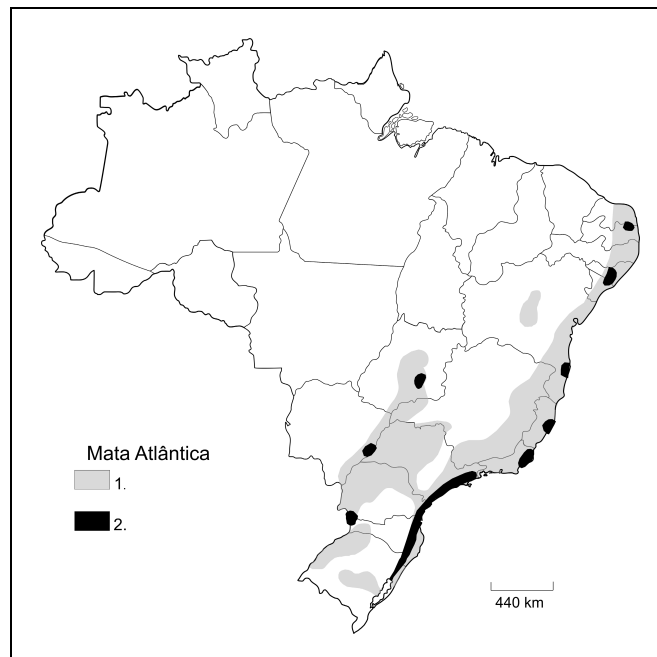
- Caracterize a Plataforma Continental, do ponto de vista geomorfológico. Justifique sua importância econômica para o Brasil.
- Discorra sobre a importância da Plataforma Continental “Jurídica”, considerando a exploração do subsolo marinho.

Delimitação da Plataforma Continental “Jurídica”



Fonte: Revista Brasileira de Geofísica, vol. 17, nº 1, 1999.

Q.08



Fonte: Atlas geográfico escolar, IBGE, 2002.

A Mata Atlântica é reconhecida como um dos biomas mais importantes do mundo, principalmente em função de sua alta diversidade e endemismo. No entanto, existe uma grande preocupação com alguns de seus aspectos geográficos atuais: o tamanho diminuto e a fragmentação de suas áreas remanescentes.

- Identifique as áreas 1 e 2 da Mata Atlântica, representadas no mapa.
- Explique por que os *corredores ecológicos*, vistos como elo de ligação entre áreas fragmentadas, podem ser instrumentos auxiliares na preservação dos biomas brasileiros. Justifique sua resposta, analisando a atual situação da Mata Atlântica.

Q.09

Estado de SP fica com peso menor no setor

A Pesquisa Industrial Anual do IBGE confirma a continuidade do processo de desconcentração regional da indústria no Brasil. O peso da indústria paulista caiu de 46,4% em 2000 para 42,5% em 2003. São Paulo, porém, ainda está bem à frente do segundo colocado – Minas Gerais, com 10%.

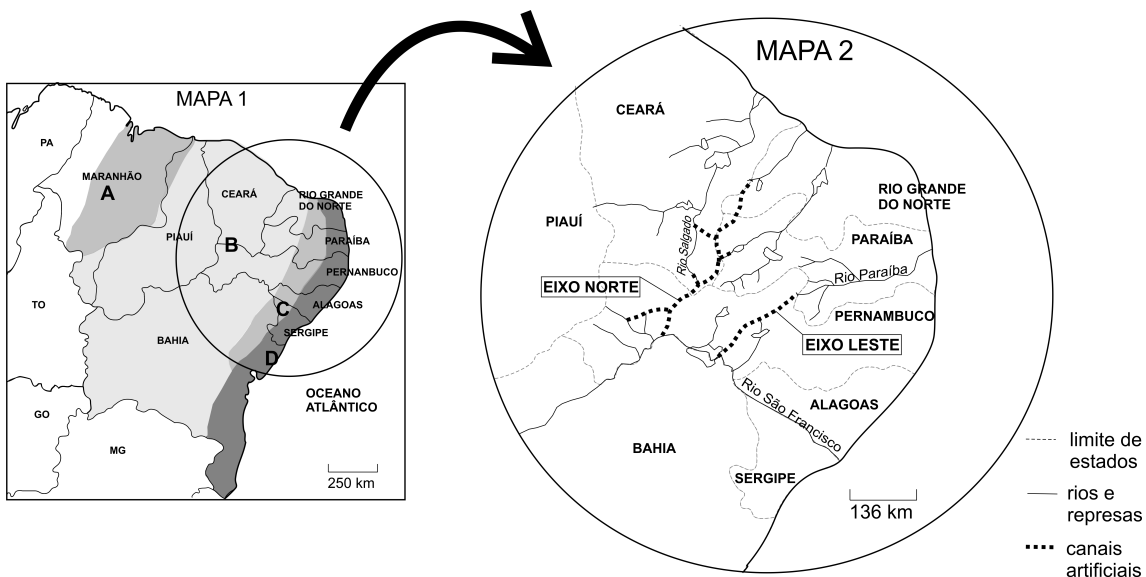
Em contrapartida ao desempenho de São Paulo, ganharam espaço, na estrutura industrial do país, Rio de Janeiro (por causa do petróleo), Paraná, Bahia, Amazonas, Goiás e Pará.

Fonte: Adaptado de **Folha de S. Paulo**, 22/06/2005.

- Cite e explique dois motivos do processo de desconcentração mencionado no texto.
- Identifique e explique um fenômeno geográfico decorrente da desconcentração industrial.

Q.10

O mapa 1 representa áreas da região nordeste do Brasil com diversas características físicas. O mapa 2 detalha a hidrografia atual e a rede de canais artificiais que poderá resultar da transposição do rio São Francisco.



Fontes: IBGE, 2002; **Estado de S. Paulo**, 07/11/2006.

- Identifique a área anotada com a letra **B**, no mapa 1, e caracterize-a do ponto de vista climático e hidrográfico.
- Apresente um argumento favorável ou contrário à obra da transposição do rio São Francisco, considerando características físicas e socioeconômicas da área **B**. Justifique.