



FUNDAÇÃO
GETULIO VARGAS

EESP

Escola de Economia
de São Paulo

PROCESSO SELETIVO

1.º SEMESTRE DE 2012

001. Caderno 1

Provas da 1.ª Fase

Matemática, Biologia, História e Geografia

- ✓ Confira seus dados impressos na capa deste caderno.
- ✓ Esta prova contém 75 questões objetivas, numeradas de 01 a 75, e terá duração total de 4 horas.
- ✓ Para cada questão, existe somente uma alternativa correta.
- ✓ Assine a folha de respostas com caneta de tinta azul ou preta e transcreva para essa folha, com lápis preto n.º 2, todas as respostas escolhidas.
- ✓ A saída do prédio será permitida quando transcorridas 2 horas do início da prova, sem levar o caderno de questões, ou a partir de 3 horas após seu início, levando o caderno de questões.

MATEMÁTICA

01. Chamaremos de $S(n)$ a soma dos algarismos do número inteiro positivo n , e de $P(n)$ o produto dos algarismos de n . Por exemplo, se $n = 47$, então $S(47) = 11$ e $P(47) = 28$. Se n é um número inteiro positivo de dois algarismos tal que $n = S(n) + P(n)$, então, o algarismo das unidades de n é

- (A) 1.
- (B) 2.
- (C) 3.
- (D) 6.
- (E) 9.

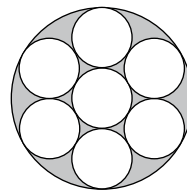
02. A média aritmética de três números supera o menor desses números em 14 unidades, e é 10 unidades menor do que o maior deles. Se a mediana dos três números é 25, então a soma desses números é igual a

- (A) 60.
- (B) 61.
- (C) 63.
- (D) 64.
- (E) 66.

03. Seja f uma função tal que $f(xy) = \frac{f(x)}{y}$ para todos os números reais positivos x e y . Se $f(300) = 5$, então, $f(700)$ é igual a

- (A) $\frac{15}{7}$
- (B) $\frac{16}{7}$
- (C) $\frac{17}{7}$
- (D) $\frac{8}{3}$
- (E) $\frac{11}{4}$

04. Cada um dos 7 círculos menores da figura a seguir tem raio 1 cm. Um círculo pequeno é concêntrico com o círculo grande, e tangencia os outros 6 círculos pequenos. Cada um desses 6 outros círculos pequenos tangencia o círculo grande e 3 círculos pequenos.



Na situação descrita, a área da região sombreada na figura, em cm^2 , é igual a

- (A) π
- (B) $\frac{3\pi}{2}$
- (C) 2π
- (D) $\frac{5\pi}{2}$
- (E) 3π

05. O produto de 3 números inteiros positivos e consecutivos é igual a 8 vezes a sua soma. A soma dos quadrados desses 3 números é igual a

- (A) 77.
- (B) 110.
- (C) 149.
- (D) 194.
- (E) 245.

06. Uma sala de aula é constituída por 10% de mulheres e 90% de homens. Em uma prova valendo de 0 a 100 pontos, todas as mulheres tiraram a mesma nota, a média aritmética das notas dos homens foi 83, e a média aritmética das notas de toda a classe foi 84. Nessas condições, cada mulher da sala fez um total de pontos igual a

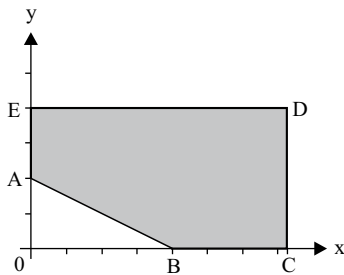
- (A) 90.
- (B) 91.
- (C) 92.
- (D) 93.
- (E) 94.

07. Um capital de R\$ 10.000,00, aplicado a juro composto de 1,5% ao mês, será resgatado ao final de 1 ano e 8 meses no montante, em reais, aproximadamente igual a

Dado:

x	x^{10}
0,8500	0,197
0,9850	0,860
0,9985	0,985
1,0015	1,015
1,0150	1,160
1,1500	4,045

- (A) 11.605,00.
 (B) 12.986,00.
 (C) 13.456,00.
 (D) 13.895,00.
 (E) 14.216,00.
08. Considere, no plano cartesiano, o pentágono ABCDE, de vértices A(0,2), B(4,0), C(2π+1, 0), D(2π+1, 4) e E(0,4).



Escolhendo aleatoriamente um ponto P no interior desse pentágono, a probabilidade de que o ângulo \widehat{APB} seja obtuso é igual a

- (A) $\frac{1}{5}$
 (B) $\frac{1}{4}$
 (C) $\frac{5}{16}$
 (D) $\frac{3}{8}$
 (E) $\frac{4}{5}$

09. Uma caixa contém 5 bolas brancas e 2 pretas, num total de 7 bolas idênticas, exceto pelas cores. Retira-se aleatoriamente dessa caixa, e sem reposição, uma bola por vez até que todas as bolas brancas, ou todas as bolas pretas, tenham sido retiradas, o que acontecer primeiro. A probabilidade de que a última bola retirada da caixa seja preta é

- (A) $\frac{4}{7}$
 (B) $\frac{5}{7}$
 (C) $\frac{4}{5}$
 (D) $\frac{6}{7}$
 (E) $\frac{9}{10}$

10. As duas raízes da equação $x^2 - 63x + k = 0$ na incógnita x são números inteiros e primos. O total de valores distintos que k pode assumir é

- (A) 4.
 (B) 3.
 (C) 2.
 (D) 1.
 (E) 0.

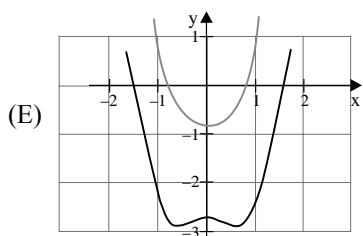
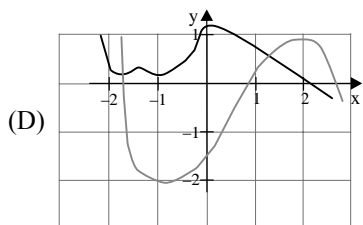
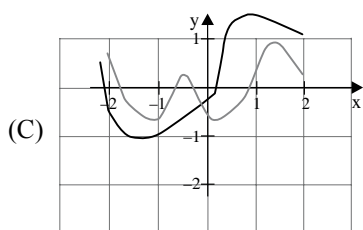
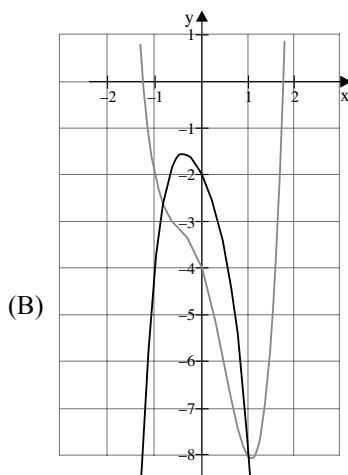
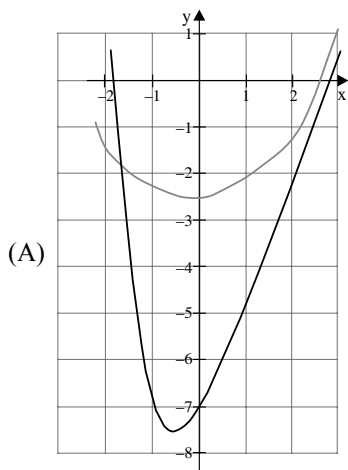
11. Considere a função $f(x) = \log_{1319} x^2$.

Se $n = f(10) + f(11) + f(12)$, então

- (A) $n < 1$.
 (B) $n = 1$.
 (C) $1 < n < 2$.
 (D) $n = 2$.
 (E) $n > 2$.

12. P é uma função polinomial de coeficientes reais e diferentes de zero. Substituindo cada coeficiente de P pela média aritmética de seus coeficientes originais, formamos o polinômio Q .

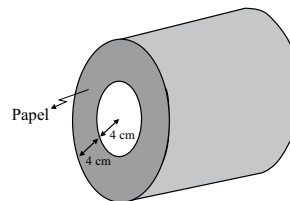
Dos gráficos indicados a seguir, os únicos que poderiam ser de $y = P(x)$ e $y = Q(x)$ no intervalo $[-2, 2]$ estão representados em



13. A parábola dada por $f(x) = Ax^2 + Bx + C$, com A, B e C reais, $A \neq 0$, tem vértice de coordenadas (M, N) , com M e N reais. Essa parábola foi refletida pela reta $y = K$, com K real, sendo agora definida por $g(x) = Dx^2 + Ex + F$, com D, E e F reais. Em tais condições, $A + B + C + D + E + F$ é igual a

- (A) $2A$.
 (B) $2K$.
 (C) $2M$.
 (D) $2N$.
 (E) $2(M+N)$.

14. Uma bobina cilíndrica de papel possui raio interno igual a 4 cm e raio externo igual a 8 cm. A espessura do papel é 0,2 mm.



Adotando nos cálculos $\pi = 3$, o papel da bobina, quando completamente desenrolado, corresponde a um retângulo cuja maior dimensão, em metros, é aproximadamente igual a

- (A) 20.
 (B) 30.
 (C) 50.
 (D) 70.
 (E) 90.

15. Um cubo de aresta 12 cm é seccionado duas vezes, formando três prismas de bases triangulares, sendo dois deles congruentes, como mostra a figura 1. Em seguida, o cubo é novamente seccionado, como indicam as linhas tracejadas na figura 2, de modo que os dois cortes feitos dividem o cubo original em três prismas de bases triangulares, sendo dois deles congruentes, como no primeiro caso. Ao final de todas as secções, o cubo foi dividido em nove peças.

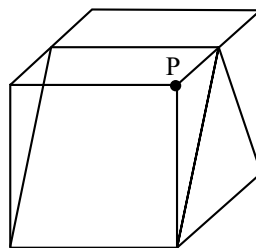


figura 1

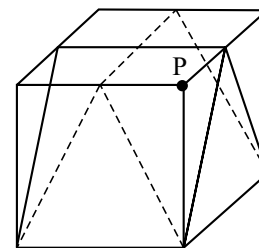


figura 2

O volume da peça final que contém o vértice P , em cm^3 , é igual a

- (A) 144.
 (B) 152.
 (C) 288.
 (D) 432.
 (E) 466.

16. Sendo m um número inteiro, considere a equação polinomial $3x^4 + 2x^3 + mx^2 - 4x = 0$, na incógnita x , que possui uma raiz racional entre $-\frac{4}{5}$ e $-\frac{1}{2}$. Nessas condições, a menor raiz irracional da equação é igual a

- (A) $-\sqrt{3}$
- (B) $-\sqrt{2}$
- (C) $-\frac{\sqrt{2}}{2}$
- (D) $\sqrt{2}$
- (E) $\sqrt{3}$

17. Arestas opostas de um tetraedro são arestas que não têm ponto em comum. Um inseto anda sobre a superfície de um tetraedro regular de aresta 10 cm partindo do ponto médio de uma aresta e indo para o ponto médio de uma aresta oposta à aresta de onde partiu. Se o percurso foi feito pelo caminho mais curto possível, então o inseto percorreu a distância, em centímetros, igual a

- (A) $10\sqrt{3}$
- (B) 15
- (C) $10\sqrt{2}$
- (D) 10
- (E) $5\sqrt{3}$

18. O polígono do plano cartesiano determinado pela relação $|3x| + |4y| = 12$ tem área igual a

- (A) 6.
- (B) 12.
- (C) 16.
- (D) 24.
- (E) 25.

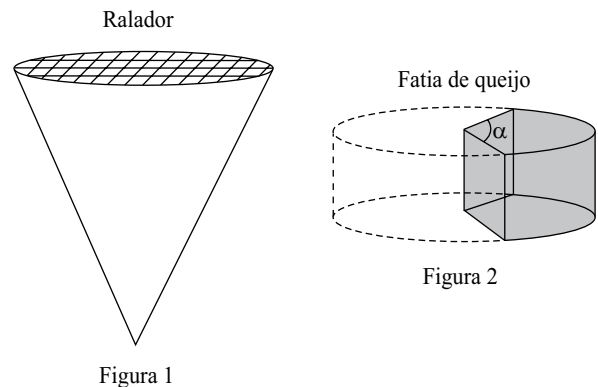
19. Dois números distintos m e n são retirados aleatoriamente do conjunto $\{2, 2^2, 2^3, \dots, 2^{10}\}$. A probabilidade de que $\log_m n$ seja um número inteiro é

- (A) $\frac{8}{45}$
- (B) $\frac{17}{90}$
- (C) $\frac{1}{5}$
- (D) $\frac{19}{90}$
- (E) $\frac{2}{9}$

20. Em um triângulo retângulo ABC , com ângulo reto em B , $AC^2 = 48$, $BP^2 = 9$, sendo que \overline{BP} é a altura de ABC com relação ao vértice B . Nessas condições, a medida do ângulo \widehat{ACB} é

- (A) 15° ou 75° .
- (B) 20° ou 70° .
- (C) $22,5^\circ$ ou $67,5^\circ$.
- (D) 30° ou 60° .
- (E) 45° .

21. Um ralador de queijo tem a forma de cone circular reto de raio da base 4 cm e altura 10 cm. O queijo é ralado na base do cone e fica acumulado em seu interior (figura 1). Deseja-se retirar uma fatia de um queijo com a forma de cilindro circular reto de raio da base 8 cm e altura 6 cm, obtida por dois cortes perpendiculares à base, partindo do centro da base do queijo e formando um ângulo α (figura 2), de forma que o volume de queijo dessa fatia corresponda a 90% do volume do ralador.



Nas condições do problema, α é igual a

- (A) 45° .
- (B) 50° .
- (C) 55° .
- (D) 60° .
- (E) 65° .

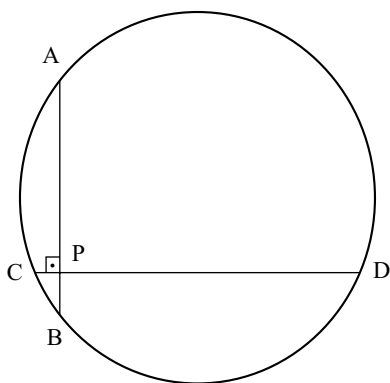
22. O termo independente de x do desenvolvimento de

$$\left(x + \frac{1}{x^3}\right)^{12}$$

- (A) 26.
- (B) 169.
- (C) 220.
- (D) 280.
- (E) 310.

23. Duas pessoas combinaram de se encontrar entre 13h e 14h, no exato instante em que a posição do ponteiro dos minutos do relógio coincidissem com a posição do ponteiro das horas. Dessa forma, o encontro foi marcado para as 13 horas e
- (A) 5 minutos.
 (B) $5\frac{4}{11}$ minutos.
 (C) $5\frac{5}{11}$ minutos.
 (D) $5\frac{6}{11}$ minutos.
 (E) $5\frac{8}{11}$ minutos.

24. As cordas \overline{AB} e \overline{CD} de um círculo são perpendiculares no ponto P, sendo que $AP = 6$, $PB = 4$ e $CP = 2$. O raio desse círculo mede



- (A) 5.
 (B) 6.
 (C) $3\sqrt{3}$.
 (D) $4\sqrt{2}$.
 (E) $5\sqrt{2}$.
25. O valor de y no sistema de equações

$$\begin{cases} \text{sen } 10^\circ x - \text{cos } 10^\circ y = -\frac{1}{\text{sen } 50^\circ} \\ \text{sen } 50^\circ x + \text{cos } 50^\circ y = \frac{1}{\text{sen } 10^\circ} \end{cases} \quad \text{é}$$

- (A) $\frac{4\sqrt{3}}{3}$
 (B) $\sqrt{3}$
 (C) $3\sqrt{3}$
 (D) $\frac{\sqrt{3}}{3}$
 (E) $\frac{\sqrt{3}}{4}$

26. O número complexo $z = a + bi$, com a e b reais, satisfaz $z + |z| = 2 + 8i$, com $|a + bi| = \sqrt{a^2 + b^2}$. Nessas condições, $|z|^2$ é igual a
- (A) 68.
 (B) 100.
 (C) 169.
 (D) 208.
 (E) 289.

27. Um total de N famílias ($N \neq 0$) foram questionadas sobre quantos aparelhos eletrônicos possuem na cozinha da sua residência. Todas as famílias responderam corretamente à pergunta. Os dados tabulados são:

TOTAL DE APARELHOS ELETRÔNICOS NA COZINHA	FREQUÊNCIA (em %)
0	12,5
1	0
2	50
3	25
4	12,5

De acordo com os dados, o menor valor possível de N é

- (A) 2.
 (B) 5.
 (C) 8.
 (D) 16.
 (E) 25.
28. O país fictício Trol possui moeda denominada tol, cuja abreviação é TL\$. As casas de câmbio no Brasil compram TL\$ 1,00 por R\$ 2,00 e vendem esse mesmo TL\$ 1,00 por R\$ 2,40. Já as casas de câmbio em Trol compram R\$ 1,00 por TL\$ 0,42 e vendem R\$ 1,00 por TL\$ 0,52.
- Desconsiderando taxas e impostos, e admitindo ser possível o câmbio de qualquer fração de dinheiro, para um turista brasileiro que pretende trocar reais por tols na ida da viagem (operação A), e tols por reais na volta (operação B), será mais vantajoso fazer
- (A) A no Brasil e B em Trol.
 (B) A em Trol e B no Brasil.
 (C) A e B no Brasil.
 (D) A e B em Trol.
 (E) A no Brasil e B indiferentemente em Trol ou no Brasil.

29. Acredita-se que na Copa do Mundo de Futebol em 2014, no Brasil, a proporção média de pagantes, nos jogos do Brasil, entre brasileiros e estrangeiros, será de 6 para 4, respectivamente. Nos jogos da Copa em que o Brasil não irá jogar, a proporção média entre brasileiros e estrangeiros esperada é de 7 para 5, respectivamente. Admita que o público médio nos jogos do Brasil seja de 60 mil pagantes, e nos demais jogos de 48 mil. Se ao final da Copa o Brasil tiver participado de 7 jogos, de um total de 64 jogos do torneio, a proporção média de pagantes brasileiros em relação aos estrangeiros no total de jogos da Copa será, respectivamente, de 154 para

- (A) 126.
- (B) 121.
- (C) 118.
- (D) 112.
- (E) 109.

30. A função polinomial $P(x) = x^3 + ax^2 + bx + c$ tem a propriedade de que a média aritmética dos seus zeros, o produto dos seus zeros e a soma dos seus coeficientes são todos iguais. Se o intercepto do gráfico de $y = P(x)$ com o eixo y ocorre no ponto de coordenadas $(0,2)$, b é igual a

- (A) 5.
- (B) 1.
- (C) -9.
- (D) -10.
- (E) -11.

31. O processo de seleção natural é diretamente responsável pela evolução das espécies e, em alguns casos, pela interdependência de suas relações. Em uma relação ecológica interespecífica harmônica e obrigatória, podemos perceber que, ao longo das gerações, esse processo atua

- (A) na velocidade das onças e na velocidade dos veados.
- (B) no olfato de uma serpente e na taxa reprodutiva de um roedor.
- (C) na eficiência fotossintética de uma folha e na acuidade visual de um pássaro.
- (D) na penetração de raízes parasitas sugadoras e no espessamento do tronco de um ipê.
- (E) na digestão da celulose por bactérias e na capacidade de ruminação por bovinos.

32. A anemia ferropriva é caracterizada pela carência de ferro no organismo em função de fatores tais como: deficiência nutricional, parasitoses intestinais, gravidez, amamentação e hemorragias. Para suprir essa deficiência, algumas pessoas recomendam que se cozinhe alimentos em conjunto com objetos de ferro, como por exemplo um prego. Essa recomendação é

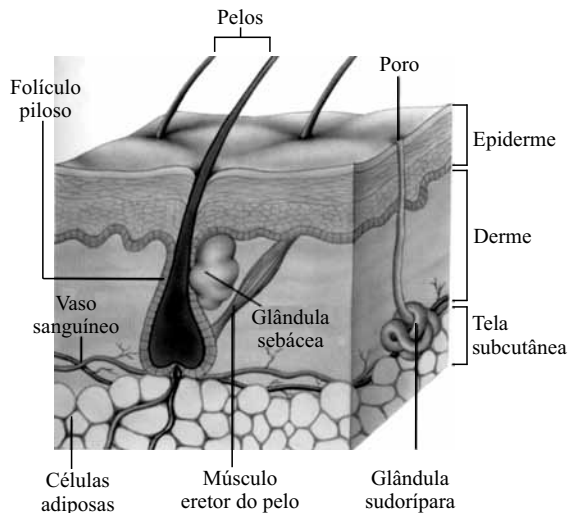
- (A) válida, pois o prego, durante o cozimento, libera grande quantidade de ferro, e o organismo apresenta elevada absorção do elemento liberado.
- (B) válida, pois o prego, durante o cozimento, libera pequena quantidade de ferro, mas o organismo apresenta elevada absorção do elemento liberado.
- (C) inválida, pois o prego, durante cozimento, libera pequena quantidade de ferro, e o organismo apresenta reduzida absorção do elemento liberado.
- (D) inválida, pois o prego, durante o cozimento, libera grande quantidade de ferro, mas o organismo não apresenta absorção desse elemento.
- (E) inválida, pois o prego, durante o cozimento, libera pequena quantidade de ferro, e o organismo não apresenta assimilação desse elemento.

33. Um criador de cães labradores cruzou machos pretos com fêmeas de mesma cor e obteve filhotes pretos, chocolate (marrons) e dourados (amarelos). Trata-se de um caso de epistasia recessiva associada ao alelo e , que impede a deposição de pigmento no pelo, condicionando pelagem dourada. O alelo E permite a pigmentação. A coloração preta é condicionada pelo alelo dominante B , e a chocolate, pelo seu alelo recessivo b .

A proporção fenotípica esperada para cães pretos, chocolate e dourados, respectivamente, no cruzamento entre um macho preto, $EeBb$, e uma fêmea dourada, $eeBb$, é

- (A) 3 : 1 : 4
- (B) 9 : 3 : 4
- (C) 3 : 4 : 1
- (D) 9 : 4 : 3
- (E) 4 : 1 : 3

34. A pele humana é o maior órgão do corpo humano. É constituída por dois tecidos, o tecido epitelial, a epiderme, formado por células em constantes divisões, que empurram as mais velhas para as camadas superiores, e o tecido conjuntivo, a derme, rico em diversas estruturas, tais como vasos sanguíneos, terminações nervosas e glândulas. Logo abaixo, não fazendo parte da pele, está a tela subcutânea, a hipoderme, formada pelas células adiposas responsáveis por armazenar gordura.

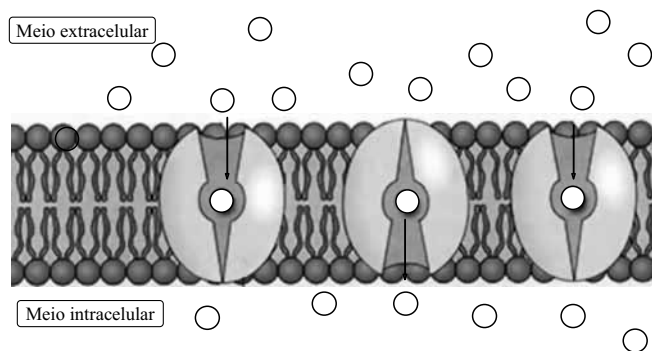


(Amabis e Martho, *Fundamentos da Biologia Moderna*)

Tendo por base essas informações, pode-se dizer que, ao fazer uma tatuagem, a agulha injetora de tinta penetra

- (A) na epiderme, para que a tinta não afete os vasos sanguíneos, as glândulas e as terminações nervosas da derme, nem as células adiposas da hipoderme.
- (B) na derme, pois, se realizada na epiderme, a tinta injetada seria eliminada com as células queratinizadas mortas.
- (C) na hipoderme, para que a tinta não seja eliminada com as células queratinizadas mortas, nem afete os vasos sanguíneos, as glândulas e as terminações nervosas.
- (D) na camada superficial da epiderme, para que a tinta afete o mínimo possível as estruturas inferiores da pele.
- (E) na hipoderme, para que a tinta seja assimilada pelas células adiposas, pois são células que não sofrem tantas alterações ao longo do tempo.

35. A figura ilustra a maneira como certas moléculas atravessam a membrana da célula sem gastar energia, o que é denominado transporte _____. Tal processo ocorre _____ gradiente de concentração e é utilizado para a passagem de _____.

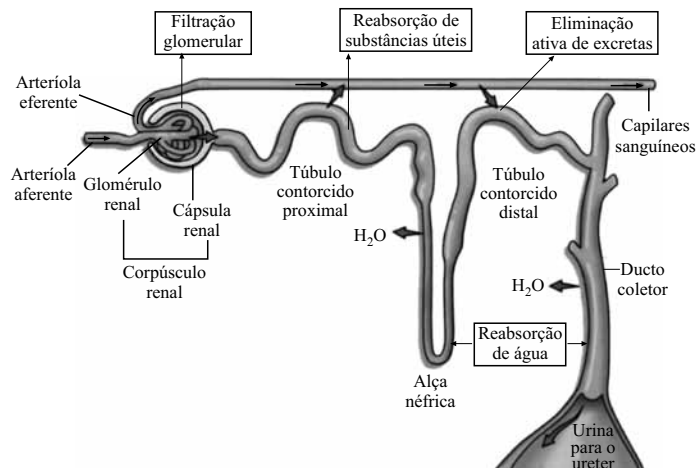


(<http://picasaweb.google.com>)

Assinale a alternativa que completa, correta e respectivamente, as lacunas da oração.

- (A) facilitado ... independentemente do ... micromoléculas
 - (B) passivo ... a favor do ... aminoácidos e monossacarídeos
 - (C) ativo ... contra o ... íons
 - (D) fagocitário... na presença de ... polissacarídeos
 - (E) celular ... na ausência de ... peptídeos
36. No interior dos rins existem milhares de néfrons que, a partir da filtração do sangue, têm como função a formação da urina. Um exame de urina específico pode detectar substâncias ilícitas utilizadas por atletas, usuários de drogas e dependentes químicos.

A figura traz o processo de formação da urina no néfron.



(Amabis e Martho, *Fundamentos da Biologia Moderna*)

A droga A apresenta peso molecular que permite sua passagem pelos capilares sanguíneos, e a droga B é eliminada somente em função de gasto energético. As drogas A e B são encontradas no interior do néfron, respectivamente, a partir

- (A) do túbulo proximal e do ducto coletor.
- (B) do túbulo proximal e da alça néfrica.
- (C) da alça néfrica e do túbulo distal.
- (D) da cápsula renal e do túbulo distal.
- (E) da cápsula renal e da alça néfrica.

37. *Brassica oleraceae* é um grupo taxonômico que compreende vegetais amplamente conhecidos, tais como a couve, o brócolis, a couve-de-bruxelas, o repolho, a couve-flor, entre outros. A diversidade dessas hortaliças pode ser explicada pelo processo

- (A) da seleção artificial promovida pelo ser humano, o que gerou variedades dentro dessa espécie.
- (B) da seleção natural promovida pelo ambiente, o que gerou subespécies aproveitadas na alimentação humana.
- (C) do melhoramento genético através da transgenia, o que gerou cultivares morfologicamente diferentes.
- (D) de hibridização entre gêneros próximos, o que gerou novas espécies com interesse alimentar humano.
- (E) de propagação vegetativa de diferentes partes do vegetal, o que gerou grande diversificação entre seus indivíduos.

A partir da tabela que contém os resultados da autogamia de um parental heterozigoto e dos indivíduos obtidos em F_1 , responda as questões de números 38 e 39. Admita que o número de descendentes originados em cada cruzamento seja estatisticamente igual.

Autogamia de parental heterozigoto	F_1 Resultados e autogamias	% de homozigose em F_1	F_2 Resultados das autogamias de F_1	% de homozigose em F_2
Aa x Aa	1. AA x AA 2. Aa x Aa 3. Aa x Aa 4. aa x aa	50	1. AA AA AA AA 2. AA Aa Aa aa 3. AA Aa Aa aa 4. aa aa aa aa	75

38. Cruzamentos autogâmicos sucessivos correspondem a um método de melhoramento genético pois proporcionam, dentro da população selecionada, a

- (A) variabilidade de características heterozigotas.
- (B) heterogeneidade de características homozigotas e heterozigotas.
- (C) homogeneidade de características heterozigotas.
- (D) fixação de características homozigotas dominantes ou recessivas.
- (E) uniformidade de características homozigotas e heterozigotas.

39. A tendência do percentual de homozigose para as próximas gerações autogâmicas é

- (A) aumentar e, a partir de F_3 , manter-se constante.
- (B) diminuir e, a partir de F_3 , manter-se constante.
- (C) aumentar em menor proporção a cada geração.
- (D) diminuir em maior proporção a cada geração.
- (E) manter-se constante.

40. Os lisossomos são organelas eucariotas importantes para processos vitais da célula. São delimitados por uma membrana semelhante à de outras organelas e ao próprio envoltório celular. Caso o conteúdo enzimático interno de todos os lisossomos seja liberado no citoplasma, ocorre então a digestão

- (A) das partículas endocitadas pelos processos de fagocitose e pinocitose, nutrindo a célula.
- (B) das estruturas internas, causando a morte celular programada.
- (C) das organelas envelhecidas, para a renovação dessas estruturas.
- (D) do vacúolo alimentar responsável por nutrir a célula.
- (E) do núcleo, iniciando-se o processo de divisão celular.

41. Com relação ao início do período reprodutivo, as mulheres são, de forma geral, mais “precoces” que os homens. Isso ocorre pois a produção dos hormônios gonadotróficos hipofisários começa um pouco mais cedo no sexo feminino. Com relação à gametogênese, tal fato também é verificado, porém com uma precocidade ainda maior, pois

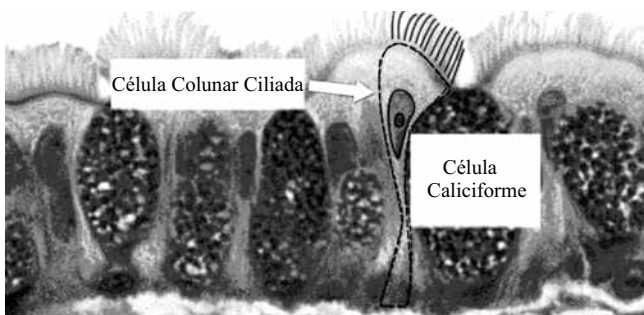
- (A) a formação meiótica dos gametas se inicia logo após o nascimento, sendo maturados e liberados a partir da puberdade.
- (B) por volta dos sete anos de idade se iniciam as meioses que formarão os folículos ovarianos.
- (C) cerca de três anos antes da puberdade as mulheres iniciam a meiose em células ovarianas para que ocorram as ovulações mensais.
- (D) as mulheres já nascem com os gametas prontos para serem fecundados, bastando serem liberados na ovulação a partir da puberdade.
- (E) ainda no útero materno células ovarianas precursoras dos gametas iniciam, porém não finalizam, a divisão meiótica.

42. A construção do rodovial na região metropolitana de São Paulo tem por objetivo diminuir o tráfego de caminhões nas áreas mais centrais, bem como tornar o escoamento de cargas mais ágil. Trata-se de um grande empreendimento responsável diretamente por inúmeras alterações ambientais, sendo uma delas a divisão de trechos de vegetação nativa em áreas menores.

Uma consequência imediata desse impacto ambiental é

- (A) a extinção dos predadores de topo em função do menor fluxo gênico.
- (B) o aumento do perímetro da borda delimitante do fragmento.
- (C) a maior captação de água da chuva na área preservada.
- (D) o aumento na produção de flores, frutos e sementes nas árvores remanescentes.
- (E) a divisão de populações e a consequente formação de novas espécies.

43. O epitélio respiratório humano é composto por células ciliadas e pelas células caliciformes produtoras de muco. A figura ilustra tal organização histológica em um brônquio humano.



(<http://medicinstuff.tumblr.com/post/949709042/epitelio-respiratorio>)

A destruição dos cílios bronquiolares, promovida pelo alcatrão presente na fumaça do cigarro, propicia

- (A) o impedimento da ventilação pulmonar em decorrência da obstrução da traqueia.
- (B) uma maior absorção da nicotina realizada pelo muco nos alvéolos.
- (C) a diminuição da atividade dos glóbulos brancos que atuam nos brônquios.
- (D) a redução da hematose, em função da destruição dos capilares.
- (E) a instalação de infecções respiratórias, devido à deficiência no transporte de muco.

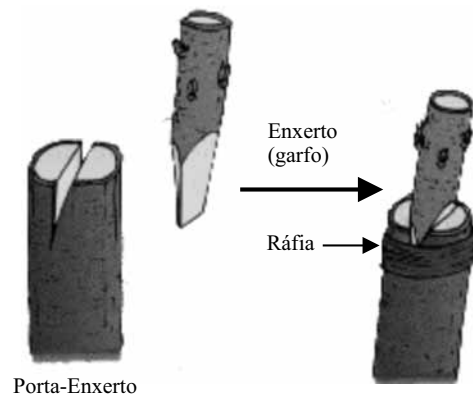
44. *Inda tanto nos sobra, por este grandioso país, de doenças e insectos por cuidar!...*

Trecho extraído do livro *Macunaíma*, escrito por Mário de Andrade em 1928.

A malária é uma das doenças que, ainda hoje no Brasil, acomete intensamente a população, com mais de 300 mil casos por ano, concentrados principalmente na região amazônica. Nessa protozoose, a função realizada pelo mosquito prego, *Anopheles spp*, com relação ao *Plasmodium spp* e ao ser humano é, respectivamente, de

- (A) hospedeiro intermediário e vetor.
- (B) hospedeiro definitivo e hospedeiro intermediário.
- (C) hospedeiro intermediário e hospedeiro definitivo.
- (D) hospedeiro definitivo e vetor.
- (E) vetor e hospedeiro intermediário.

45. A figura ilustra um procedimento de enxertia em árvores frutíferas.



(http://www.prof2000.pt/users/esf_cn/enxertia.htm)

Nesse procedimento, são utilizadas espécies taxionomicamente próximas, associando a rusticidade do porta-enxerto com a produtividade do enxerto. Duas plantas distintas são então unidas através da regeneração de seus tecidos sobrepostos.

A respeito dessa técnica, foram feitas as seguintes afirmações.

- I. O desenvolvimento dos meristemas primários das gemas laterais do porta-enxerto é indicativo de sucesso.
- II. Tecidos como o xilema e o súber estão envolvidos diretamente na regeneração dos locais de ligação.
- III. Tal técnica é possível devido à diferenciação dos meristemas secundários do enxerto e porta-enxerto.
- IV. Durante a cicatrização, não há qualquer mistura de conteúdos celulares entre o enxerto e o porta-enxerto.

Está correto apenas o contido em

- (A) I e II.
- (B) II e IV.
- (C) III e IV.
- (D) I, II e III.
- (E) I, III e IV.

HISTÓRIA

46. Sobre a Guerra do Peloponeso (431-404 a.C.), é correto afirmar que

- (A) as suas origens encontram-se num momento especial da história ateniense, pois a sua democracia atingia então o seu máximo desenvolvimento.
- (B) a vitória militar de Atenas permitiu a ampliação dos direitos de cidadania, com a incorporação dos estrangeiros nas instâncias da democracia ateniense.
- (C) a sua mais importante decorrência foi a criação da democracia ateniense, fruto do contato de Atenas com a cidade-Estado de Esparta.
- (D) a vitória de Atenas, aliada aos tebanos, permitiu que a democracia fosse levada a todas as cidades-Estado, além de aumentar o poderio militar grego.
- (E) a surpreendente vitória de Corinto permitiu o seu expansionismo territorial pela Ásia Menor e a consolidação da democracia em Esparta.

47. Leia o texto.

Após os primeiros contatos particularmente violentos com a África negra, os portugueses viram-se obrigados a mudar de política, diante da firme resistência das populações costeiras. Assim, empenharam-se, principalmente, em ganhar a confiança dos soberanos locais. Os reis de Portugal enviaram numerosas missões diplomáticas a seus homólogos da África ocidental. Assim, entre 1481 e 1495, D. João II de Portugal enviou embaixadas ao rei do Futa, ao *koi* de Tombuctu e ao *mansa* do Mali.

Duas missões diplomáticas foram enviadas ao Mali, mostrando a importância que o soberano português atribuía a esse país. A primeira partiu pelo Gâmbia, a segunda partiu do forte de Elmina. O *mansa* que as recebeu, Mahmūd, era filho do *mansa* Ule (Wule) e neto do *mansa* Mūsā. (...).

[Madina Ly-Tall, O declínio do Império do Mali. In Djibril Tamsir (editor), *História geral da África, IV: África do século XII ao XVI*]

No contexto apresentado, o Império português mudou a sua estratégia política, pois

- (A) encontrou um povo que desconhecia o uso da moeda na prática comercial.
- (B) descobriu tribos que não passaram pelas etapas do desenvolvimento histórico, como o feudalismo.
- (C) reconheceu a presença de um Estado marcado por sólidas estruturas políticas.
- (D) identificou a tendência africana em refutar todas as influências externas ao continente.
- (E) percebeu na África, em geral, a produção voltada apenas para as trocas ritualísticas.

48. Leia o documento.

Deus criador do universo fixou duas grandes luminárias no firmamento do céu: a luminária maior para dirigir o dia e a luminária menor para dirigir a noite. Da mesma maneira, para o firmamento da Igreja universal, como se se tratasse do Céu, nomeou duas grandes dignidades; a maior para tomar a direção das almas, como se estas fossem dias, a menor para tomar a direção dos corpos, como se estes fossem as noites. Estas dignidades são a autoridade pontifícia e o poder real. Assim como a Lua deriva a sua luz da do Sol e na verdade é inferior ao Sol tanto em quantidade como em qualidade, em posição como em efeito, da mesma maneira o poder real deriva o esplendor da sua dignidade da autoridade pontifícia: e quanto mais intimamente se lhe unir, tanto maior será a luz com que é adornado; quanto mais prolongar [essa união], mais crescerá em esplendor.

(Apud Luiz Koshiba, *História: origens, estruturas e processos*)

No documento – escrito pelo papa Inocêncio III, em 1198 – é correto identificar

- (A) a recuperação de um preceito dos primeiros tempos do cristianismo, que defendia a pureza da alma e a pecaminosidade do corpo.
- (B) uma associação entre a estrutura moral dos monarcas e a aprovação dos seus governos pelas autoridades religiosas.
- (C) a condenação de todas as teorias que adotavam a cosmologia divina sobre a constituição do poder dos líderes da Igreja Católica.
- (D) uma determinada visão sobre as relações hierárquicas entre o poder espiritual e o poder temporal no mundo medieval europeu.
- (E) os resquícios de uma concepção da Antiguidade Oriental que reconhecia a supremacia das religiões monoteístas sobre o paganismo.

49. Leia o texto.

Entre 1315 e 1317 sucedem-se pesadas chuvas por todo o norte da Europa Ocidental, de forma tão intensa e ininterrupta que os campos são devastados e as colheitas perdidas, gerando uma situação de calamidade para o mundo camponês e que se soma aos vários anos bons que haviam levado o preço dos cereais a níveis bastante baixos. Sem colheitas e sem poupança, o mau tempo inaugura o grande movimento de crise do século XIV.

(Francisco C. Teixeira da Silva, *Sociedade feudal: guerreiros, sacerdotes e trabalhadores*)

Pode-se apontar, entre outros elementos, como parte da chamada Crise do Século XIV,

- (A) o progressivo processo de enfraquecimento das monarquias nacionais, em especial da França, diante da forte resistência liderada pela fração da nobreza voltada aos negócios financeiros.
- (B) a enorme disparidade entre a frágil produção de alimentos e o crescimento da população europeia, este resultado da ausência de conflitos bélicos e de revoltas populares importantes.
- (C) o efeito positivo das revoltas camponesas para a maioria dos trabalhadores dos campos e das cidades, especialmente na Europa Oriental, pois houve para estes consideráveis aumentos salariais e a concessão do direito à sindicalização.
- (D) o descompasso entre uma produção de mercadorias sempre menor do que a entrada de metais amoeáveis na Europa, provocando um inédito processo de hiperinflação, que paralisou a atividade produtiva no final do século.
- (E) a conversão da prestação do trabalho gratuito – a corveia – ao senhor, pelo pagamento em produto ou em dinheiro por parte do servo, que representou um dos passos em direção à dissolução dos laços servis.

50. Leia o fragmento.

(...) entre os séculos XVII e XVIII ocorreram fatos na França que é preciso recordar. Entre 1660-1680, os poderes comunais são desmantelados; as prerrogativas militares, judiciais e fiscais são revogadas; os privilégios provinciais reduzidos. Durante a época do Cardeal Richelieu (1585-1642) aparece a expressão “razão de Estado”: o Estado tem suas razões próprias, seus objetivos, seus motivos específicos. A monarquia francesa é absoluta, ou pretende sê-lo. Sua autoridade legislativa e executiva e seus poderes impositivos, quase ilimitados, de uma forma geral são aceitos em todo o país. No entanto... sempre há um “no entanto”. Na prática, a monarquia está limitada pelas imunidades, então intocáveis, de que gozam certas classes, corporações e indivíduos; e pela falta de uma fiscalização central dos amplos e heterogêneos corpos de funcionários.

(Leon Pomer, *O surgimento das nações*. Apud Adhemar Marques et al, *História Moderna através de textos*)

No contexto apresentado, entre as “imunidades de que gozam certas classes”, é correto considerar

- (A) os camponeses e os pequenos proprietários urbanos eram isentos do pagamento de impostos em épocas de secas ou de guerras de grande porte.
- (B) a burguesia ligada às transações financeiras com os espaços coloniais franceses não estava sujeita ao controle do Estado francês, pois atuava fora da Europa.
- (C) a nobreza das províncias mais distantes de Paris estava desobrigada de defender militarmente a França em conflitos fora do território nacional.
- (D) os grandes banqueiros e comerciantes não precisavam pagar os impostos devido a uma tradição relacionada à formação do Estado francês.
- (E) o privilégio da nobreza que não pagava tributos ao Estado francês, condição que contribuiu para o agravamento das finanças do país na segunda metade do século XVIII.

51. Leia o texto sobre as origens de São Paulo.

A estratégia da penetração para o sertão, se foi amplamente aproveitada pelos colonos de São Paulo, nasce na prática da conversão jesuítica. (...) Embora por razões opostas, tanto as incursões dos jesuítas, tímidas é verdade, não se embrenhando muito além do núcleo piratiningano, como as bandeiras e as entradas dos colonos tinham um mesmo objetivo: o índio.

(Amílcar Torrão Filho, *A cidade da conversão: a catequese jesuítica e a fundação de São Paulo de Piratininga*. *Revista USP*. São Paulo, n.º 63, 2004)

O fragmento apresenta parte das condições que originaram

- (A) a guerra travada entre a Igreja Católica, a favor da escravização indígena, e os colonos paulistas, defensores do trabalho livre.
- (B) o conflito entre colonos e religiosos pelo controle da mão de obra indígena, presente no entorno de São Paulo.
- (C) a leitura, com forte viés ideológico, que considerava desnecessária a exagerada violência dos jesuítas contra os povos indígenas.
- (D) o desvínculo econômico de São Paulo com o resto da colônia, diante da impossibilidade de exploração da mão de obra indígena.
- (E) o fracasso das missões religiosas em São Paulo, pois coube apenas ao Estado português o controle direto dos indígenas.

52. A presença da Companhia das Índias Ocidentais no nordeste da América portuguesa, especialmente durante a administração de Maurício de Nassau (1637-1644), caracterizou-se pelo

- (A) oferecimento de privilégios aos pernambucanos que se convertessem ao judaísmo, como a isenção tributária e a possibilidade de obter empréstimos bancários.
- (B) incentivo à utilização do trabalho livre, considerado pelos holandeses mais produtivo, em detrimento do trabalho compulsório dos africanos.
- (C) favorecimento à participação dos proprietários lusobrasileiros nas instâncias de poder no Brasil holandês, como na Câmara dos Escabinos.
- (D) confisco das propriedades dos cristãos-novos pernambucanos que lutaram contra a presença holandesa, assim como de todos os bens da Igreja Católica.
- (E) processo de reorganização das atividades econômicas em Pernambuco, sobretudo com a troca da produção de algodão pela de manufatura.

53. Leia o fragmento.

Na segunda metade do século XVIII, a preocupação com o “bem governar” era um imperativo tanto para a manutenção do monarca, de modo a que não se fortalecessem outras pretensões de legitimidade, quanto para a conservação do próprio regime, da monarquia absolutista, pois tratava-se de evitar que certas ideias correntes, como governos elegíveis e parlamentos poderosos, tomassem corpo. (...)

(...) o despotismo esclarecido varia de país para país, dependendo de cada processo histórico e de sua abertura ao movimento de ideias da ilustração (...)

(Antonio Mendes Junior et al. *Brasil História: texto e consulta*, volume 1, Colônia)

Sobre o fenômeno histórico em referência, no caso de Portugal, é correto considerar que

- (A) o atraso econômico português gerava dependência política e militar, colocando em perigo inclusive o império colonial português, e nesse processo ocorreram as reformas pombalinas, que representaram um maior controle português sobre o Brasil.
- (B) as autoridades monárquicas portuguesas se anteciparam às ondas revolucionárias do mundo atlântico e criaram metas de aumento da participação das diversas classes sociais nas instâncias de poder, o que gerou o primeiro parlamento na Europa moderna.
- (C) coube ao Marquês de Pombal o apontamento de um acordo estratégico com a Inglaterra, concretizado com o Tratado de Methuen, que permitiu a independência econômica de Portugal e regalias para a mais importante colônia lusa, o Brasil.
- (D) as ideias iluministas foram abominadas pelas autoridades portuguesas, assim como pelas elites coloniais e metropolitanas, pois representavam um forte retrocesso nas concepções de liberdade de mercado, defendidas pelo mercantilismo.
- (E) o contundente crescimento da economia de Angola, por causa do tráfico de escravos e da produção de manufaturados, e da economia açucareira no Brasil, foram decisivos para a opção portuguesa em transferir a sede da Coroa portuguesa para a América.

54. Leia a entrevista.

FOLHA – Estamos vivendo um momento de novas interpretações em relação ao período imperial?

MAXWELL – (...) o movimento de independência da década de 1820 não aconteceu no Brasil, mas em Portugal. Foram os portugueses que não quiseram ser dominados por uma monarquia baseada na América.

Com a rejeição da dominação brasileira, eles atraíram muitos dos problemas de fragmentação, guerras civis e descontinuidade que são parecidos com aqueles que estavam acontecendo na América espanhola.

É sempre importante, ao pensar a história do Brasil, considerar que ela não se encaixa em interpretações convencionais. É sempre necessário pensar um pouco de forma contrafactual, porque a história brasileira não segue a mesma trajetória de outras histórias das Américas. O rei estava aqui, a revolução liberal estava lá. A continuidade estava aqui, a descontinuidade estava lá.

Acho que isto explica muito das coisas que aconteceram depois no Brasil, no século 19.

(Marcos Strecker, Para Maxwell, país não permite leituras convencionais. *Folha de S.Paulo*, 25.11.2007)

“A história brasileira não segue a mesma trajetória de outras histórias das Américas”, pois

- (A) em 1824 foi promulgada a primeira constituição do Brasil, caracterizada pela divisão e autonomia dos três poderes e por uma legislação social avançada para os padrões da época, pois garantia o direito de voto a todos os brasileiros.
- (B) com a grave crise estrutural que atingiu as atividades produtivas da Europa no início do século XIX, restou ao Brasil um papel relevante no processo de recuperação das bases econômicas industriais, com o fornecimento de algodão, tabaco e açúcar.
- (C) os princípios e as práticas liberais do príncipe-regente Dom Pedro se chocavam com o conservadorismo das elites coloniais do centro-sul, defensoras de restrições mercantilistas com o intuito de conter a ganância britânica pela riqueza brasileira.
- (D) com as invasões napoleônicas, desorganizaram-se os contatos entre a metrópole espanhola e seus espaços coloniais na América, situação diversa da verificada em relação ao Brasil, que abrigou a Corte portuguesa.
- (E) a elite colonial nordestina – voltada para o mercado interno, defensora do centralismo político-administrativo e da abolição da escravatura – apostava na liderança e na continuidade no Brasil de Dom João VI para a efetivação desse projeto histórico.

55. Leia as assertivas sobre a economia brasileira no século XIX.

- I. O Brasil monárquico representou uma continuidade em relação ao período colonial, pois a produção continuou voltada para o mercado externo e com a utilização da mão de obra compulsória, que perdurou durante grande parte do período.
- II. O produto que permitiu a entrada de mais moeda estrangeira no país foi o café, sendo que, na década de 1880, esse produto dominava mais da metade das exportações brasileiras.
- III. O açúcar, fundamental para a ocupação colonial da América portuguesa, continuou importante na pauta de exportações brasileiras.
- IV. No decênio 1861-1870, em decorrência da Guerra de Secessão norte-americana, aumentou consideravelmente o cultivo de algodão – especialmente no Maranhão – e a sua exportação.
- V. O forte aumento da produção e exportação da borracha relaciona-se com a descoberta do processo de vulcanização e com a invenção do pneumático.

Estão corretas as afirmativas

- (A) I e II, apenas.
- (B) I, III e V, apenas.
- (C) II, IV e V, apenas.
- (D) III, IV e V, apenas.
- (E) I, II, III, IV e V.

56. A I Guerra Mundial (1914-1918) provocou mudanças importantes no mapa político da Europa. Entre essas, é correto apontar a

- (A) devolução da Alsácia-Lorena, então com a Alemanha, para a França e a concessão de uma saída para o mar para a Polônia, criando o chamado Corredor Polonês.
- (B) perda, pela Itália, da região de Trieste para a Jugoslávia, e a cessão, pela França, da região basca para a Espanha.
- (C) anexação do norte da Bélgica pela França e o reconhecimento da independência da Grécia.
- (D) incorporação de Montenegro ao território grego e a fragmentação do Reino Unido, com a independência do País de Gales.
- (E) ampliação do Império Austro-Húngaro, com o ajuntamento da Sérvia, e a devolução da Armênia para o Império Turco.

57. Leia o texto.

A Semana de 22 não foi um fato isolado e sem origens. As discussões em torno da necessidade de renovação das artes surgem em meados da década de 1910 em textos de revistas e em exposições, como a de Anita Malfatti em 1917. Em 1921 já existe, por parte de intelectuais como Oswald de Andrade e Menotti Del Picchia, a intenção de transformar as comemorações do centenário em momento de emancipação artística. (...)

(www.itaucultural.org.br)

Em geral, os artistas participantes da Semana de Arte Moderna propunham

- (A) que a arte, especialmente a literatura, abandonasse as preocupações com os destinos brasileiros e se voltasse para o princípio da arte pela arte.
- (B) a rejeição ao conservadorismo presente na produção artística brasileira, defendendo novas estéticas e temáticas, como a discussão sobre as questões brasileiras.
- (C) que os artistas estabelecessem vínculos com correntes filosóficas, mas não com projetos políticos e ideológicos, fossem estes progressistas ou conservadores.
- (D) o reconhecimento da superioridade da arte europeia e da importância da civilização portuguesa no notável desenvolvimento cultural brasileiro.
- (E) que apenas as artes plásticas, com destaque para a pintura, poderiam representar avanços revolucionários em direção a uma arte de fato inovadora.

58. Leia o texto.

Classicamente, existem três grandes formas de abordagens analíticas do populismo. Ele pode ser estudado como um fenômeno de origem social, como uma forma de governo ou como uma ideologia específica. Em qualquer de suas formas, o populismo necessita de alguns elementos básicos para se concretizar: independente das particularidades das ocorrências, ele surge quando há uma massificação de amplas camadas da sociedade que desvincula os indivíduos de seus quadros sociais de origem e os reúne na massa, relacionados entre si por uma sociabilidade periférica e mecânica; quando há uma perda da representatividade e da exemplaridade da classe dirigente; quando há a presença de um líder dotado de carisma de massas.

(Emerson Urizzi Cervi, As sete vidas do populismo In *Revista de Sociologia e Política*, n.º 17, Curitiba, nov.2001)

Na História do Brasil, o mais comum é associar o populismo ao período compreendido entre

- (A) 1889 – ano da proclamação da República e da posse de um militar na presidência – e 1894 – data da eleição do primeiro presidente civil do país.
- (B) 1894 – quando o paulista Prudente de Moraes assume a presidência – e 1926 – ano do encerramento do mandato de presidente do mineiro Artur Bernardes.
- (C) 1930 – ano de uma ruptura institucional: a chamada Revolução de 30 – e 1964 – por causa do golpe de Estado que derrubou o presidente João Goulart.
- (D) 1968 – ano da imposição do Ato Institucional n.º 5 – e 1978 – quando este mesmo instrumento autoritário deixou de vigorar.
- (E) 1985 – com o fim do ciclo autoritário nascido em 1964 – e 1989 – ano da eleição do presidente Fernando Collor de Mello pelo voto direto.

59. Leia a notícia.

O projeto de lei que cria a Comissão da Verdade foi aprovado hoje (26) no Senado, com apoio unânime dos senadores. Com a presença da ministra de Direitos Humanos, Maria do Rosário e de parentes de vítimas da ditadura militar, o parecer favorável ao projeto foi lido pelo relator (...).

(Mariana Jungmann, Senado aprova criação da Comissão da Verdade para apurar crimes do Estado entre 1946 e 1988, 26.10.2011, agenciabrasil.ebc.com.br)

Em geral, foram vítimas da ditadura militar (1964-1985), as pessoas que resistiram ao regime de exceção. Entre as formas de resistência podem ser apontadas

- (A) a programação das principais redes de rádio e de televisão e a ação dos governos dos estados nordestinos nas mãos do MDB.
- (B) as greves operárias organizadas pelos sindicatos paulistas no início da década de 1970 e as posições progressistas da Escola Superior de Guerra.
- (C) a ação das principais entidades empresariais – como a FIESP – e a missão pastoral dos religiosos neopentecostais.
- (D) a oposição parlamentar do MDB e a atuação das Comunidades Eclesiais de Base (CEB), vinculadas à Igreja Católica.
- (E) a posição do bloco nacionalista da ARENA e a luta armada comandada pelo Partido Comunista Brasileiro.

60. Leia o fragmento.

Na transição brasileira para a democracia, os setores conservadores, que sempre temem que a mobilização popular fuja ao seu controle, acabaram por dar a tônica. A passagem da ditadura [militar, 1964-1985] à democracia político-eleitoral deveria ser feita “por cima”, sem a participação como sujeitos dos que estavam “embaixo”.

(Chico Alencar et al, *História da sociedade brasileira*)

Pode-se verificar a transição conservadora, comentada no trecho,

- (A) no isolamento político ao qual foi submetido o candidato à presidência do PMDB, Tancredo Neves, que não contou com o apoio das outras forças de oposição ao regime autoritário nas eleições indiretas de janeiro de 1985.
- (B) na derrota da emenda constitucional que preconizava eleições diretas para a presidência da República e na constituição do primeiro governo pós-regime autoritário com a presença de liberais moderados e de antigos partidários do regime anterior.
- (C) no completo descaso do governo eleito em 1985 com a prometida convocação imediata de uma Assembleia Nacional Constituinte, que só se tornou possível após a intervenção de entidades da sociedade civil, como a OAB e a CNBB.
- (D) no compromisso da chapa de oposição ao regime militar, sob a liderança de José Sarney, que se apresentou nas eleições diretas de 1985 garantindo que as práticas autoritárias do regime ditatorial não seriam investigadas.
- (E) na exigência explícita dos ministros militares do governo Figueiredo de que o candidato às eleições diretas em 1985 viesse do grupo dos peemedebistas autênticos e que a lei de Anistia não fosse revista.

GEOGRAFIA

61. No final de 2007 e início de 2008, a provisão de alimentos estava apertada e os preços dos grãos subiram drasticamente. Alguns dos principais produtores reduziram as exportações para manter o custo nacional sob controle.[...] Foi então que, em 2008, Arábia Saudita, China e Coreia do Sul começaram a comprar ou arrendar terra em outros países, particularmente na África, mas também na América Latina e no Sudeste da Ásia, a fim de produzir alimentos para si.

(www.ecodebate.com.br/2011/10/25/nos-limites-da-terra-entrevista-com-lester-brown. Adaptado)

Sobre o fato descrito no texto, pode-se afirmar que

- (A) vários países da África, como a Etiópia e o Sudão, proibiram a ocupação de estrangeiros em suas terras, como medida de proteção às suas respectivas populações.
- (B) essa é uma situação temporária, pois os países com agricultura avançada têm condições de aumentar a produtividade agrícola e suprir os mercados mundiais.
- (C) o problema dos suprimentos alimentares para muitos países está a cargo da FAO, órgão da ONU voltado para as questões agrícolas.
- (D) a busca de áreas agricultáveis, em nível internacional, representa o traçado de uma nova geopolítica relacionada à escassez de terras e alimentos.
- (E) a probabilidade de se atender às necessidades alimentares de toda a população do globo parece cada vez mais próxima devido à expansão das áreas agrícolas.

62. Observe a imagem da Falha de Santo André, na Califórnia (EUA).




(<http://static.infoescola.com/wp-content/uploads/2010/04/falha-de-san-andreas.jpg>)

A importante Falha de Santo André está relacionada

- (A) ao deslizamento horizontal entre as placas do Pacífico e Norte-Americana.
- (B) ao rebaixamento da placa de Nazca em relação à placa do Pacífico.
- (C) à meteorização da plataforma continental do litoral Pacífico.
- (D) à corrosão das rochas que formam o substrato cristalino californiano.
- (E) ao ravinamento das rochas resultante da semiaridez do oeste californiano.

63. Analise a anamorfose do continente americano a seguir.



(Dan Smith. *Atlas da situação mundial*. São Paulo. Cia Editora Nacional, 2007. Adaptado)

Assinale a alternativa que identifica o fenômeno representado nessa anamorfose.

- (A) Produção de alimentos transgênicos.
- (B) Taxa de alfabetização de adultos.
- (C) Total de celulares em uso pela população.
- (D) Disponibilidade de água pela população.
- (E) Emissão dos gases do efeito estufa.

64. Leia o depoimento de um advogado congolês.

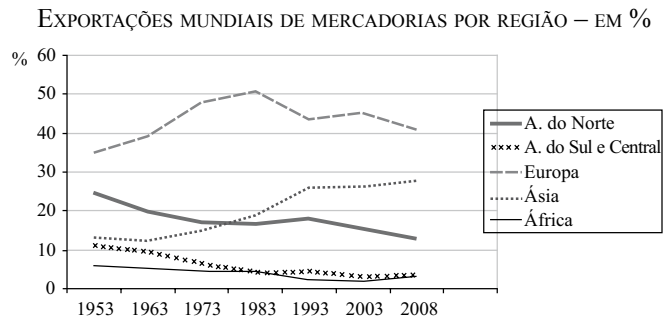
O problema não é quem é o comprador mais recente de nossas *commodities*. A China está assumindo o lugar do Ocidente: ela leva embora nossas matérias-primas e vende produtos acabados ao mundo. O que os africanos estão recebendo em troca – estradas, escolas ou produtos industrializados – não importa. Continuamos no mesmo esquema: nosso cobalto parte para a China como minério em pó e retorna na forma de pilhas que custam caro.

(*Exame Ceo*, junho de 2010. Edição 6. Adaptado)

O depoimento apresenta como tema central

- (A) a possibilidade de o continente africano sofrer novo colonialismo.
- (B) a necessidade de a África voltar à esfera de influência do Ocidente.
- (C) o atual papel da África na Divisão Internacional do Trabalho.
- (D) a ampliação das diferenças econômicas entre os países africanos.
- (E) a valorização dos produtores de *commodities* no mercado mundial.

65. Analise o gráfico para responder à questão.



(www.wto.org/french/res_f/statis_f/its2009_f/its2009_f.pdf)

A análise do gráfico e os conhecimentos sobre o comércio mundial permitem afirmar que, entre 1953 e 2008,

- (A) as exportações norte-americanas de produtos de baixa tecnologia perderam importância no mundo devido à concorrência com os produtos europeus.
- (B) os países da América do Sul e Central reduziram o percentual de exportações porque encontraram dificuldades para se integrarem em blocos econômicos.
- (C) o comércio exterior europeu sofreu oscilações e entrou em declínio quando os países do leste da Europa iniciaram a transição para o sistema capitalista.
- (D) o crescimento das exportações asiáticas foi expressivo devido à ascensão econômico-industrial dos Tigres Asiáticos e, posteriormente, da China.
- (E) o continente africano, exportador de *commodities* agrícolas, vem reduzindo a participação no comércio mundial devido aos sérios problemas ambientais que enfrenta.

66. O declínio da fertilidade no mundo é surpreendente. Em 1970, o índice de fertilidade total era de 4,45 e a família típica no mundo tinha quatro ou cinco filhos. Hoje é de 2,435 em todo o mundo, e menor em alguns lugares surpreendentes. O índice de Bangladesh é de 2,16, uma queda de 50% em 20 anos. A fertilidade no Irã caiu de 7, em 1984, para 1,9, em 2006. Grande parte da Europa e do Extremo Oriente tem índices de fertilidade abaixo dos níveis de reposição.

(*Carta Capital*, 02.11.2011)

A queda da fertilidade em um país é responsável por novos arranjos demográficos, dentre eles

- (A) o forte aumento das taxas de urbanização.
- (B) a emergência de padrões de vida mais elevados.
- (C) a mudança na composição etária da população.
- (D) o aumento da expectativa de vida.
- (E) a estabilização da densidade demográfica.

67. Considere os textos.

I. [maio de 2011] O governo da presidente Cristina Kirchner aplica uma saraivada de medidas que restringem ou atrasam a entrada de produtos brasileiros no mercado argentino. Segundo a consultoria portenha Abeceb, do total de exportações realizadas pelo Brasil para a Argentina, 23,9% são alvo de barreiras – quase um quarto das vendas.

(<http://veja.abril.com.br/noticia/economia/argentina-aumenta-barreiras-comerciais-contra-o-brasil>)

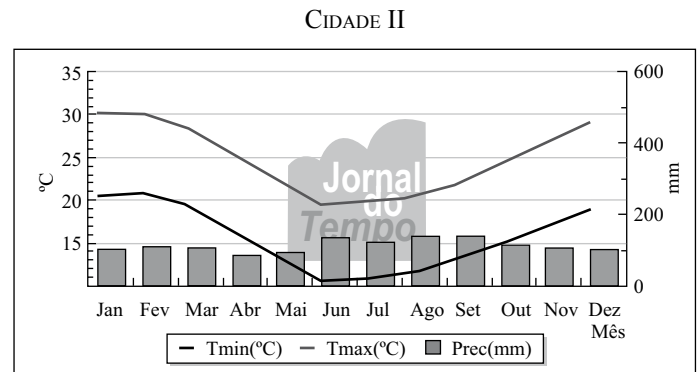
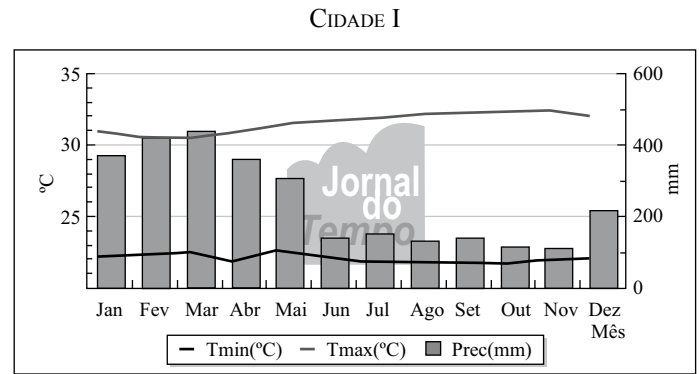
II. [outubro de 2011] A decisão do Brasil de elevar o Imposto sobre Produtos Industrializados (IPI) para veículos importados foi questionada durante reunião do comitê de acesso a mercados da Organização Mundial do Comércio (OMC). Durante o encontro, representantes de Japão, Austrália, Coreia do Sul, Estados Unidos e União Europeia – que abrigam algumas das maiores montadoras do mundo – pediram à delegação brasileira explicações sobre a medida.

(<http://oglobo.globo.com/economia/mat/2011/10/14/paises-exportadores-de-veiculos-reclamam-na-omc-do-aumento-do-ipi-925586226.asp#ixzz1cQB0V2Hq>)

Sobre os textos, é correto afirmar que

- (A) ambos expressam medidas protecionistas que visam salvaguardar as indústrias nacionais.
- (B) ambos têm como objetivo criar superávits nas balanças comerciais argentina e brasileira.
- (C) I mostra uma medida protecionista e II é uma retaliação brasileira aos subsídios agrícolas dos países ricos.
- (D) I representa o rompimento dos acordos firmados pelo Mercosul e II é uma medida protecionista do Brasil.
- (E) I é medida fortemente condenada pela OMC e II tem caráter paliativo para balanças comerciais deficitárias.

68. Considere os climogramas a seguir.



(<http://jornaldotempo.uol.com.br/previsaodotempo.html/brasil/>)

Os dados climatológicos representam uma média do período entre 1961 e 1990.

A leitura e a interpretação dos climogramas permitem afirmar que a cidade I

- (A) sofre os efeitos da continentalidade, o que não ocorre com a cidade II.
 - (B) está localizada em mais baixa latitude que a cidade II.
 - (C) apresenta maior altitude que a cidade II.
 - (D) situa-se junto ao mar, o que não ocorre com a cidade II.
 - (E) sofre mais os efeitos dos ventos alísios do que a cidade II.
69. O bioma, que ocupa 22% do território brasileiro, já perdeu quase 1 milhão de quilômetros quadrados, cerca de 48% de sua cobertura total. Somente entre 2002 e 2008, foram desmatados 85 075 quilômetros quadrados, segundo dados do Ministério do Meio Ambiente.

Em todo o bioma, a expansão das lavouras de cana-de-açúcar e de soja, além da produção de carvão e das queimadas (naturais ou provocadas), são os principais fatores de desmatamento. A pecuária também tem contribuição significativa para a sua destruição, principalmente por causa do modelo de produção extensivo, que chega a destinar mais de um hectare para cada boi.


(<http://noticias.ambientebrasil.com.br/clipping/2010/09/16/60444->)

O texto refere-se

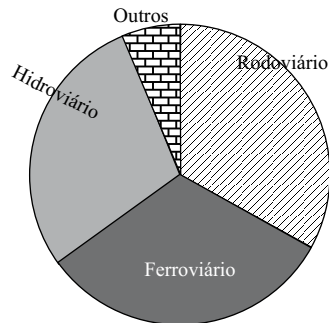
- (A) à caatinga.
- (B) à mata atlântica.
- (C) ao cerrado.
- (D) ao pantanal.
- (E) aos campos.

70. Analise os gráficos sobre meios de transporte no Brasil.

I - MATRIZ DE TRANSPORTES REAL



II - MATRIZ DE TRANSPORTES HIPOTÉTICA



(http://exame.abril.com.br/arquivos/img_958/grandes-numeros1.jpg)

Comparando os gráficos, pode-se concluir que:

- (A) sob o aspecto de custo do frete, a diferença entre a matriz I e a II é mínima.
- (B) a matriz II favorece a economia dos fretes e é menos poluidora que a matriz I.
- (C) a matriz I emite menos gases poluidores do que a II, que, por sua vez, é mais econômica.
- (D) ambas oferecem vantagens: a matriz I é mais expandida, e a II garante economia de combustível.
- (E) ambas têm pontos positivos: a matriz I, maior capacidade de expansão, e a II permite maiores velocidades.

71. Considere as assertivas sobre a agricultura brasileira.

- I. A modernização do campo brasileiro possibilitou o crescimento da agricultura familiar comercial, ampliando a produção e a produtividade.
- II. Nestas últimas décadas, a agricultura camponesa tornou-se antieconômica, porque não conseguiu incorporar mudanças estruturais e, praticamente, desapareceu do campo brasileiro.
- III. Nas últimas décadas, a industrialização da agricultura contou com o apoio do Estado que, oferecendo financiamentos e infraestrutura, priorizou os produtos destinados à exportação.

Está correto somente o que se afirma em

- (A) I.
- (B) II.
- (C) I e II.
- (D) I e III.
- (E) II e III.

72. Analise o mapa.



(http://n.i.uol.com.br/ultnot/Mapa_Brasil2006.gif)

O produto destacado no mapa é

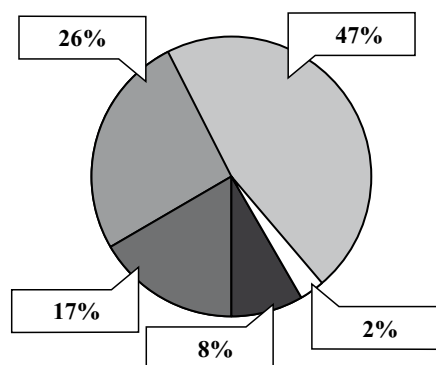
- (A) a cana-de-açúcar.
- (B) o algodão.
- (C) o café.
- (D) o feijão.
- (E) a soja.

73. A energia eólica passou a ser utilizada de forma sistemática para produção de eletricidade a partir da década de 1970, na Europa e depois nos Estados Unidos. No Brasil, essa energia

- (A) apresenta um forte potencial no litoral nordestino.
- (B) é largamente concentrada na Amazônia.
- (C) representa cerca de 10% da matriz energética.
- (D) tem maior produção concentrada no Sudeste.
- (E) concorre diretamente com fontes tradicionais como o carvão.

74. Analise o gráfico para responder à questão.

VOLUME DE ÁGUA CAPTADO NO BRASIL (2009)



(http://globorural.globo.com/edic/292/grafico_volume.jpg)

No Brasil, o setor que mais consome água é

- (A) a pecuária.
 - (B) a agricultura irrigada.
 - (C) a indústria.
 - (D) o doméstico.
 - (E) o comercial.
75. Para produzir modernamente, essas indústrias convocam outros atores para participar de suas ações hegemônicas, levados, desse modo, a agir segundo uma lógica subordinada à da firma global.[...] Nos lugares escolhidos, tudo é permeado por um discurso sobre desenvolvimento.[...] Nada se fala sobre a robotização do setor e a drenagem dos cofres públicos para essa implantação industrial.

(Milton Santos & M. Laura Silveira. *O Brasil: Território e sociedade no início do século XXI*. Rio de Janeiro: Record, 2001.p. 112)

O texto apresenta estratégias de descentralização das indústrias

- (A) mecânicas.
- (B) de vestuário.
- (C) siderúrgicas.
- (D) petroquímicas.
- (E) automobilísticas.