

MODELO DE PROVA: PROVA M

VESTIBULAR 2012/1



CADERNO DE QUESTÕES

1	<input type="text"/>	21	<input type="text"/>	41	<input type="text"/>	61	<input type="text"/>
2	<input type="text"/>	22	<input type="text"/>	42	<input type="text"/>	62	<input type="text"/>
3	<input type="text"/>	23	<input type="text"/>	43	<input type="text"/>	63	<input type="text"/>
4	<input type="text"/>	24	<input type="text"/>	44	<input type="text"/>	64	<input type="text"/>
5	<input type="text"/>	25	<input type="text"/>	45	<input type="text"/>	65	<input type="text"/>
6	<input type="text"/>	26	<input type="text"/>	46	<input type="text"/>	66	<input type="text"/>
7	<input type="text"/>	27	<input type="text"/>	47	<input type="text"/>	67	<input type="text"/>
8	<input type="text"/>	28	<input type="text"/>	48	<input type="text"/>	68	<input type="text"/>
9	<input type="text"/>	29	<input type="text"/>	49	<input type="text"/>	69	<input type="text"/>
10	<input type="text"/>	30	<input type="text"/>	50	<input type="text"/>	70	<input type="text"/>
11	<input type="text"/>	31	<input type="text"/>	51	<input type="text"/>	71	<input type="text"/>
12	<input type="text"/>	32	<input type="text"/>	52	<input type="text"/>	72	<input type="text"/>
13	<input type="text"/>	33	<input type="text"/>	53	<input type="text"/>	73	<input type="text"/>
14	<input type="text"/>	34	<input type="text"/>	54	<input type="text"/>	74	<input type="text"/>
15	<input type="text"/>	35	<input type="text"/>	55	<input type="text"/>	75	<input type="text"/>
16	<input type="text"/>	36	<input type="text"/>	56	<input type="text"/>	76	<input type="text"/>
17	<input type="text"/>	37	<input type="text"/>	57	<input type="text"/>	77	<input type="text"/>
18	<input type="text"/>	38	<input type="text"/>	58	<input type="text"/>	78	<input type="text"/>
19	<input type="text"/>	39	<input type="text"/>	59	<input type="text"/>	79	<input type="text"/>
20	<input type="text"/>	40	<input type="text"/>	60	<input type="text"/>	80	<input type="text"/>

ATENÇÃO!

Esta folha poderá ser levada pelo candidato a partir das 12 horas.

RESULTADO E MATRÍCULAS 2012-1

Novembro

- 21** Divulgação dos Aprovados e Classificação Geral no Site (www.espm.br).
- 21 a 23** Matrícula dos aprovados em primeira chamada (9h às 19h).
- 21 a 23** Preenchimento da Declaração de Interesse de matrícula para os não convocados para 1ª chamada (até 19h de 23/11).
- 28** Divulgação dos convocados em 2ª Chamada no site.

Janeiro

- 06** Divulgação dos convocados em 3ª Chamada no site.

Fevereiro

- 13** Início das Aulas

INFORMAÇÕES PARA A MATRÍCULA

Documentos para Matrícula

Duas cópias autenticadas dos seguintes documentos:

- Uma foto 3x4;
- *Certificado de Conclusão ou Diploma de Ensino Médio ou equivalente ou Curso Superior, devidamente registrado;*
- *Histórico Escolar;*
- *Certidão de Nascimento ou Casamento;*
- *Comprovante Militar;*
- *Título de Eleitor;*
- *Cédula de Identidade;*
- *CPF próprio ou do pai ou mãe, caso o candidato seja menor*
- *Comprovante de residência (conta de luz ou telefone fixo) 1 cópia*

A matrícula só será efetivada mediante a apresentação de todos os documentos.

INFORMAÇÕES PARA PRÉ-MATRÍCULA

Documentos necessários para Pré-Matrícula

Declaração que comprove a conclusão do ensino médio ou equivalente em 2011.

Procuração, caso o candidato não possa comparecer e seja maior de 18 anos.

Recolhimento da taxa de pré-matrícula (mesmo valor da taxa de matrícula)

O reajuste das mensalidades escolares dos cursos de graduação ocorrerá sempre no mês de janeiro de cada ano, independentemente do período letivo em que o aluno ingressou na faculdade.



VESTIBULAR 2012-1



MODELO DE PROVA: PROVA M

LEIA COM ATENÇÃO AS INSTRUÇÕES ABAIXO:

- 1 Verifique se os dados impressos nas folhas estão corretos, como nome, RG, opção do curso e modelo de prova.
- 2 Verifique se este caderno de prova contém dois temas para Redação e um total de 80 questões, assim distribuídas:

Matemática	de 01 a 20
Comunicação e Expressão	de 21 a 40
Humanidades e Cultura Geral Contemporânea	de 41 a 70
Inglês	de 71 a 80

- 3 Caso falte alguma folha, solicite imediatamente ao fiscal de sala um outro caderno completo. Não serão aceitas reclamações posteriores.
- 4 Não será permitida qualquer espécie de consulta, nem uso de calculadora.
- 5 Para cada questão existe apenas UMA resposta certa; a marcação de mais de uma letra implicará anulação dessa questão.
- 6 A resposta deve ser marcada na folha de respostas (leitura ótica).
- 7 A folha da capa é o seu rascunho; seu preenchimento é opcional.
- 8 Administre o seu tempo! O tempo total de prova é de 5 (cinco) horas. Este período inclui a redação e preenchimento da folha de respostas. **NÃO HAVERÁ TEMPO EXTRA PARA O PREENCHIMENTO DE NENHUMA DAS FOLHAS DE RESPOSTAS.**
- 9 O candidato só poderá ausentar-se da sala de prova após 02 (duas) horas contadas do início da aplicação.
- 10 Quando terminar, entregue tudo aos fiscais de sua sala: a folha de redação, a folha de respostas (leitura ótica) preenchida e o caderno de questões.
- 11 O candidato não poderá levar o rascunho da redação ou qualquer outro material de rascunho, exceto a capa do caderno de questões.
- 12 As questões serão divulgadas posteriormente no site da ESPM - www.espm.br.

REDAÇÃO**Tema 1:**

“São-me simpáticos os homens superiores porque são superiores,
E são-me simpáticos os homens inferiores porque são superiores também,
Porque ser inferior é diferente de ser superior,
E por isso é uma superioridade a certos momentos de visão.
Simpatizo com alguns homens pelas suas qualidades de carácter,
E simpatizo com outros pela sua falta dessas qualidades,
E com outros ainda simpatizo por simpatizar com eles,
E há momentos absolutamente orgânicos em que esses são todos os homens.”

(“Passagem das Horas”. Fernando Pessoa. “Ficções do Interlúdio/4 Poesias de Álvaro de Campos)

Proposta: Da leitura atenta do poema, elabore um texto dissertativo que apresente considerações sobre a visão pluralista das relações sociais contemporâneas.

Tema 2:

Seis mil brasileiros tiveram entrada proibida em países europeus em 2010.

O país que mais impediu a entrada de brasileiros foi a Espanha, seguido da França.

Em 2008, o Brasil já havia vivido um problema semelhante com a Espanha. Na época, os dois países chegaram a assinar um acordo para encerrar a crise dos imigrantes e turistas barrados em aeroportos.

O governo brasileiro ainda prefere buscar o caminho do diálogo e da conciliação, mas no Itamaraty se discute a possibilidade de o Brasil adotar o princípio da reciprocidade – ou seja – passar a exigir – principalmente dos espanhóis que chegam ao Brasil – comprovante de hospedagem e extrato de conta bancária.

(Jornal *O Globo* – 27/6/2011)

Proposta: Elabore um texto dissertativo em que você discuta as posições em pauta no governo brasileiro e no Itamaraty, frente à postura do governo espanhol.

- Escolha um dos temas acima e desenvolva uma dissertação com o mínimo de 20 linhas e o máximo de 30 linhas, considerando-se letra de tamanho regular.
- Assinale o tema escolhido (1 ou 2) nos quadradinhos correspondentes (próxima página).
- Dê um título sugestivo e criativo à sua redação.
- Defenda ou refute as ideias apresentadas através de uma dissertação integrada, coerente, organizada e estruturada. Fundamente suas ideias com argumentos, sem sair do tema. Aderência ao tema é um dos itens de avaliação.
- Importante: Não há uma resposta ou alternativa certa ou errada a ser encontrada. Não vamos julgar suas opiniões, mas sua capacidade de análise e argumentação.

REDAÇÃO

FOLHA DE REDAÇÃO (Máximo de 30 linhas)

TEMA: 1 2

Título: _____

30 horizontal lines for writing the essay.

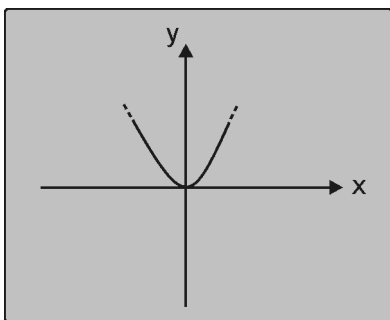
MATEMÁTICA**QUESTÃO 01**

Retirando-se o maior número do conjunto $\{12; 7; 9; 4; x; 5\}$, a média aritmética dos seus elementos diminui 1 unidade. O produto dos valores que x pode assumir é igual a:

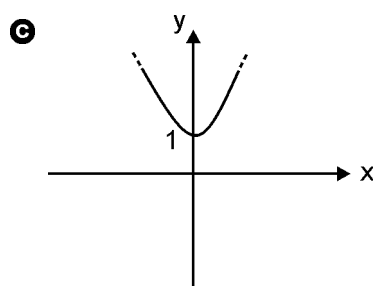
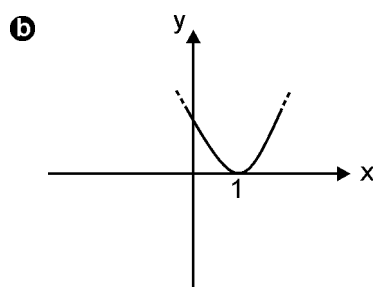
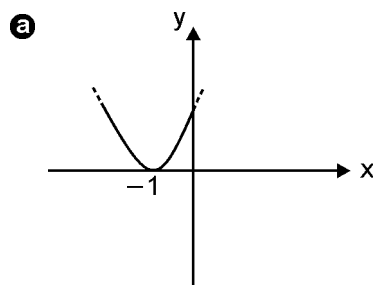
- a) 58
- b) 62
- c) 67
- d) 75
- e) 79

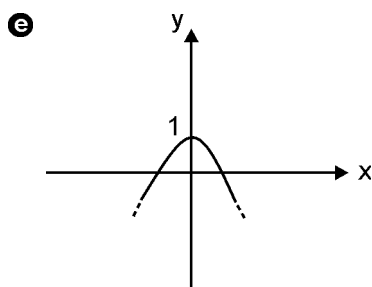
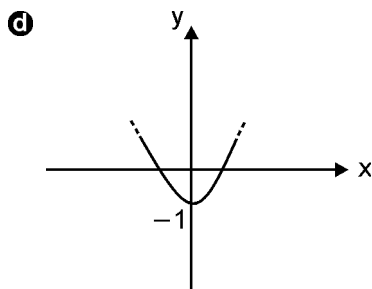
QUESTÃO 02

A figura em destaque representa o gráfico da função $y = f(x)$.



Assinale a alternativa que melhor se aproxima do gráfico da função $y = f(x - 1)$.



**QUESTÃO 03**

ADRIANE e ARIADNE são permutações de um mesmo nome. A quantidade de inversões de letras que ocorreram de um nome para o outro é igual a:

- a 2
- b 3
- c 4
- d 5
- e 6

QUESTÃO 04

Para $x \in \mathbb{N}$ e $x > 2$, a expressão $\frac{(x^2 - 1)! \cdot x!}{(x^2 - 2)! \cdot (x + 1)!}$ é equivalente a:

- a $x - 2$
- b $(x - 2)!$
- c $(x - 1)!$
- d x
- e $x - 1$

QUESTÃO 05

Considere a operação $\phi(n)$ que consiste em tomar um número n que está no visor de uma calculadora, somá-lo com 12 e dividir o resultado por 5, aparecendo um novo número no visor. Após certo número de vezes que essa operação é repetida, nota-se que o número que aparece no visor não mais se altera, isto é, $\phi(n) = n$. Esse número é:

- a 3
- b 2
- c 5
- d 7
- e 1

QUESTÃO 06

A rotação de um ponto $P(x,y)$ do plano cartesiano em torno da origem é um outro ponto $P'(x',y')$, obtido pela equação matricial:

$$\begin{bmatrix} x' \\ y' \end{bmatrix} = \begin{bmatrix} \cos \alpha & -\text{sen } \alpha \\ \text{sen } \alpha & \cos \alpha \end{bmatrix} \cdot \begin{bmatrix} x \\ y \end{bmatrix},$$

onde α é o ângulo de rotação, no sentido anti-horário. Desse modo, se $P = (\sqrt{3}, 1)$ e $\alpha = 60^\circ$, as coordenadas de P' serão:

- a) $(-1,2)$
- b) $(-1, \sqrt{3})$
- c) $(0, \sqrt{3})$
- d) $(0,2)$
- e) $(1,2)$

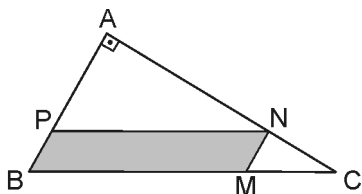
QUESTÃO 07

A figura abaixo mostra o paralelogramo $BMNP$ inscrito no triângulo retângulo ABC , onde $AB = 5\text{cm}$ e $BC = 13\text{cm}$.

Sabe-se que o paralelogramo tem área máxima quando M é ponto médio de BC .

Então, a maior área que o paralelogramo pode ter é igual a:

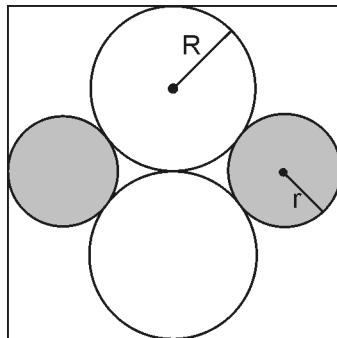
- a) 12 cm^2
- b) 18 cm^2
- c) 15 cm^2
- d) $7,5\text{ cm}^2$
- e) 9 cm^2

**QUESTÃO 08**

A figura mostra um quadrado, dois círculos claros de raios R e dois círculos escuros de raios r , tangentes entre si e aos lados do quadrado.

A razão entre R e r é igual a:

- a) $\sqrt{2}$
- b) $\sqrt{3}$
- c) $\frac{3}{2}$
- d) 2
- e) $\frac{\sqrt{5}}{2}$



QUESTÃO 09

A sequência $(x, 4, y, z)$ é uma progressão geométrica e $(x, y, z - 2)$ é uma progressão aritmética, com $y < 0$. O valor de z é:

- a) 2
- b) $2\sqrt{2}$
- c) 16
- d) 8
- e) $4\sqrt{2}$

QUESTÃO 10

Ligando as cidades A e B existem somente 2 estradas distintas que não se cruzam e nem se ligam de maneira alguma. Uma dessas estradas atravessa uma ponte de madeira e a outra atravessa 2 pontes sucessivas, também de madeira. Acontece que a região foi acometida por grandes enchentes e a probabilidade de cada uma dessas pontes estar em condições de travessia é de 50%. Se um viajante deseja ir de carro de A até B nessa época de enchentes, a probabilidade de ele conseguir o seu intento é de:

- a) 52%
- b) 54,5%
- c) 57,5%
- d) 60%
- e) 62,5%

QUESTÃO 11

Apenas 40% dos hóspedes de um hotel de São Paulo são estrangeiros, sendo que 70% deles são ingleses e os demais franceses. Sabe-se que 25% dos franceses e 50% dos ingleses falam português. Escolhendo-se, ao acaso, um dos hóspedes desse hotel, a probabilidade de que ele fale português é:

- a) 65%
- b) 72%
- c) 68%
- d) 77%
- e) 82%

QUESTÃO 12

Seja C a região do plano cartesiano definida pela desigualdade $(x - 2)^2 + (y - 2)^2 \leq 4$ e seja P a região definida por $x \geq 2$ ou $y \geq 2$. A área da região intersecção entre C e P é:

- a) π
- b) 2π
- c) 3π
- d) 4π
- e) 5π

QUESTÃO 13

Sejam x e y números reais e $(3x + 2y)^2 + (x - 2y + 8)^2 = 0$, o valor de y^x é:

- a) $\frac{1}{9}$
- b) $\frac{1}{8}$
- c) -8
- d) 9
- e) 8

QUESTÃO 14

Dois copos cilíndricos têm o mesmo volume. Seus diâmetros internos medem 6cm e 8cm, respectivamente. Se a soma das suas alturas é igual a 24cm, a diferença entre elas é de:

- a) 5,34 cm
- b) 8,12 cm
- c) 5,78 cm
- d) 7,66 cm
- e) 6,72 cm

QUESTÃO 15

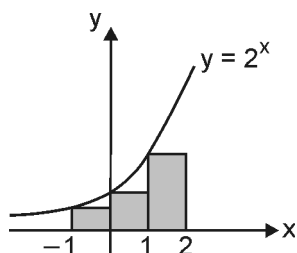
Carlinhos possui certa quantidade de bolinhas de gude e algumas latinhas onde guardá-las. Ao colocar 4 bolinhas em cada lata, sobraram 2 bolinhas, mas quando colocou 5 bolinhas em cada lata, a última ficou com apenas 2 bolinhas. Podemos afirmar que todas as latas ficariam com o mesmo número de bolinhas se ele tivesse:

- a) 36 bolinhas
- b) 42 bolinhas
- c) 49 bolinhas
- d) 55 bolinhas
- e) 63 bolinhas

QUESTÃO 16

A figura abaixo mostra o gráfico da função $f(x) = 2^x$. A área da região sombreada, formada por retângulos, é igual a:

- a) 3,0
- b) 3,5
- c) 4,0
- d) 4,5
- e) 5,0



QUESTÃO 17

O domínio da função real $f(x) = \log_x(x^2 - 4x + 3)$ é dado por:

- a) $]-\infty, 1[\cup]3, +\infty[$
- b) $]-\infty, 0[\cup]3, +\infty[$
- c) $]-\infty, -1[\cup]3, +\infty[$
- d) $]0, 1[\cup]3, +\infty[$
- e) $]1, 3[$

QUESTÃO 18

A parábola de equação $y = x^2 - x + 1$ intercepta a reta de equação $y = x + 4$ nos pontos A e B. O comprimento do segmento AB é igual a:

- a) $4\sqrt{2}$
- b) 5
- c) $5\sqrt{2}$
- d) 4
- e) $3\sqrt{2}$

QUESTÃO 19

A figura abaixo mostra uma série de painéis formados por uma faixa de ladrilhos claros envoltos em uma moldura de ladrilhos escuros.



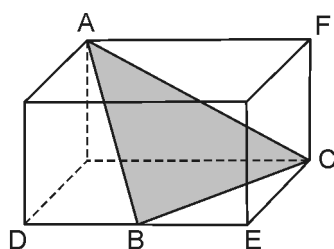
Num desses painéis, o número de ladrilhos escuros excede o número de ladrilhos claros em 50 unidades. A quantidade total de ladrilhos desse painel é igual a:

- a) 126
- b) 172
- c) 156
- d) 224
- e) 138

QUESTÃO 20

A figura abaixo representa um paralelepípedo reto-retângulo de medidas $AF = 4$, $FC = 3$ e $CE = 2\sqrt{3}$, sendo B o ponto médio de \overline{DE} . O perímetro do triângulo ABC é igual a:

- a) 12
- b) 14
- c) 13
- d) 15
- e) 11




— COMUNICAÇÃO E EXPRESSÃO —

Leia o texto abaixo para as questões de 21 a 25:

A língua politicamente correta

REVISORES são seres invisíveis que se valem de jornais e editoras para corrigir os deslizes dos escritores. Porque os escritores, frequentemente, desrespeitam as leis fundamentais da gramática. Eu mesmo, por muito tempo, tive como revisor voluntário dos meus textos um erudito da língua que me enviava periodicamente, por puro amor à língua, relatórios detalhados dos meus erros.



Desse revisor voluntário tenho apenas uma queixa: ele nunca disse uma só palavra sobre a substância mesma dos meus artigos. Não lhe importavam as coisas que eu escrevia. Importava-lhe se eu as escrevia com as palavras certas.

Para me consolar, eu repetia as palavras de Patativa do Assaré: “Mais vale escrever a coisa certa com as palavras erradas que escrever a coisa errada com as palavras certas...” Até lhe dediquei uma pequena parábola. Eu, convidando meus amigos para tomar uma sopa que eu mesmo faço. Eles vêm, tomam a sopa e gostam. Mas um intruso, não convidado, toma a minha sopa, nada diz sobre a sopa, mas reclama que a tigela estava lascada...

Tenho tido experiências com revisores atentos, sensíveis, competentes, que não só corrigem meus erros como também me fazem sugestões de como melhorar o meu estilo. Mas tenho tido também experiências desastrosas. E isso porque os revisores têm um poder terrível. Basta que mudem uma simples palavra...

(...)

Houve um livro que escrevi, todo ele baseado na distinção entre “história” e “estória”, distinção que os gramáticos, donos da língua, desconhecem, por saber muito sobre letras e sílabas e pouco sobre sentidos. Resolveram, por conta própria, eliminar do dicionário a grafia “estória”. Tudo agora é “história”. Mas Guimarães Rosa sabe que isso está errado e até escreveu: “A estória não quer se tornar história”.

São duas coisas diferentes. História é o tempo onde as coisas acontecidas não acontecem mais. Estória é o tempo onde coisas não acontecidas acontecem sempre. Pois o revisor do meu livro, mais atento às ordens do dicionário, livro onde se encontram as palavras e sentidos certos, eliminou as “estórias” que eu havia escrito, substituindo-as por “histórias”. Ficou totalmente sem sentido. O revisor disse que abacaxis e pitangas eram a mesma coisa.

(...)

(Rubem Alves, *Folha de S. Paulo*, 31/05/2011)

QUESTÃO 21

Segundo o texto:

- a os revisores exercem tarefas invisíveis para não constranger os escritores que transgridem as leis da gramática.
- b o trabalho dos revisores em jornais e editoras está voltado tanto para o aspecto formal quanto para o aspecto semântico.
- c o revisor voluntário, citado pelo autor, não tinha autoridade para opinar sobre os artigos.
- d todo revisor, de uma maneira geral, só se preocupa com os aspectos estilísticos do texto.
- e a intervenção do revisor no texto nem sempre traz resultados positivos.

QUESTÃO 22

Ainda segundo o texto, o autor:

- a é um incondicional defensor do emprego da língua politicamente correta.
- b tece comentários abonadores sobre os gramáticos por terem simplificado certas grafias.
- c apoia-se sempre nas observações dos revisores para melhorar o estilo.
- d ironiza o trabalho de seu revisor pelo rigor formalista que beira o “non-sense”.
- e vê o trabalho de revisão como imprescindível para detectar possíveis falhas dos escritores.

QUESTÃO 33

Estabelecendo-se um paralelo com a literatura, preocupar-se com a tigela e não com a sopa, na parábola do autor, é o mesmo que não se preocupar com:

- a as rimas.
- b a metrificação.
- c os valores semânticos.
- d a estrofação regular.
- e a correção gramatical.

QUESTÃO 24

Na frase: “**Mais vale escrever a coisa certa com as palavras erradas que escrever a coisa errada com as palavras certas.**”, está presente um procedimento chamado QUIASMO. Essa figura retórica se baseia:

- a** no cruzamento de frases ou termos, invertidos simetricamente como num espelho.
- b** na fusão ou união de vocábulos opostos, gerando uma ideia contraditória, absurda.
- c** na aproximação de palavras antitéticas ou de pensamentos antagônicos.
- d** num rodeio da frase para se chegar indiretamente ao termo ou ideia.
- e** na repetição de palavras ou ideias para dar ênfase ou realce.

QUESTÃO 25

Ao definir: “**Estória é o tempo onde coisas não acontecidas acontecem sempre.**”, o autor destaca que o termo estaria ligado:

- a** ao caráter ficcional e fatídico da literatura.
- b** ao caráter imaginativo da narrativa e a sua inerente perennidade.
- c** à falsidade da literatura e a sua inevitável repetição.
- d** a um aspecto semântico contraditório ou paradoxal dos fatos.
- e** ao aspecto factual e fantasioso da narrativa.

QUESTÃO 26

Leia:

A facilitação das licitações para as obras públicas da Copa, a que o governo e os interessados dão o nome menos ácido de flexibilização, ainda nem está formulada e já é um fator de aumento dos custos de tais obras para os cofres públicos.

(Janio de Freitas, *Folha de S. Paulo*, 19/04/2011)

No contexto, o termo “**flexibilização**”:

- a** é uma nomenclatura mais adequada para indicar uma maleabilidade nas concorrências.
- b** é uma expressão eufemística para suavizar a ideia de relaxamento nas licitações públicas.
- c** apesar de menos ácida, é uma expressão hiperbólica para se referir ao afrouxamento das licitações.
- d** é uma ironia do autor para se referir às obras que serão pagas com dinheiro público.
- e** é um termo metonímico, pois substitui a expressão “facilitação”.

Leia o texto abaixo para as questões 27 e 28:

Entre os brasileiros de hoje, o racismo mais se assemelha a um delito de opinião do que propriamente à tipificação de situações de opressão baseada na cor. Esta forma tênue de esconder contradições mostra o seu viés elitista. Um antidiscurso sobre o negro começa pela etiqueta, na qual figuram como “pessoas de cor”.

Entre o povão não é assim. No ano passado, sem muito alarde, o IBGE anunciou que a população negra e “parda” (sic) já era superior a 50% da população total do país. Considerando que o dado é autodeclaratório, isso quer dizer que a maioria da população é ou quer ser negra. Não é pouca coisa, pois enterra a tese de intelectuais sobre o “branqueamento” progressivo da nação, via miscigenação.

(Carlos Alberto Doria, *Folha de S. Paulo*, 03/04/2011)

QUESTÃO 27

Segundo o autor do texto:

- a** o racismo ocorre mais no plano ideológico do que no plano prático das relações.
- b** uma atitude politicamente correta é tachar os negros com a expressão “pessoas de cor”.
- c** os brasileiros do “povão” apresentam um discurso contraditoriamente elitista.
- d** as autodeclarações da população negra e “parda”, nas pesquisas do IBGE, derrubaram o “branqueamento” do país.
- e** os dados da miscigenação no Brasil provocam situações constrangedoras para os intelectuais.

QUESTÃO 28

A palavra “**sic**”, que em latim significa “assim”, foi empregada:

- a** pelo autor do texto para concordar com a expressão escolhida pelo IBGE para mulato.
- b** pelo IBGE para indicar que o termo original é assim, por mais estranho ou errado que pareça.
- c** pelo autor para indicar que o termo original é assim, por ser a melhor nomeação para mulato.
- d** pelo autor do texto para também questionar o termo técnico usado pelo IBGE na designação do mulato.
- e** pelo IBGE para confirmar a melhor expressão encontrada para a indicação do mulato.

QUESTÃO 29

Leia:

- I. O presidente da Síria sugere que, sem apoio, pode renunciar.
 II. Sem apoio, o presidente da Síria sugere que pode renunciar.

As frases acima traduzem ideia de:

- a** I – condição; II – condição.
b I – certeza; II – certeza.
c I – condição; II – certeza.
d I – certeza; II – condição.
e I – hipótese; II – hipótese.

QUESTÃO 30

Conta-se que o primeiro slogan de Coca-Cola, em português, foi feito em 1928 por Fernando Pessoa, na época copywriter da agência de publicidade Hora. Não foi uma tradução literal, mas uma recriação, com um jogo sonoro e semântico poético, provocador e convidativo. O refrigerante vendeu muito, mas logo foi proibido. A Direção de Saúde entendeu que o slogan reconhecia a toxicidade da bebida. O viés poético de Pessoa traiu suas convicções publicitárias.

(Revista Língua Portuguesa, ano 5, nº 60, outubro de 2010)



PRIMEIRO ESTRANHA-SE, DEPOIS ENTRANHA-SE. Ao jogo sonoro e semântico do slogan dá-se o nome de:



- a** silepse de gênero
b anáfora
c hipálage
d onomatopéia
e paronomásia

QUESTÃO 31

Das manchetes abaixo, sem contextualização, uma apresenta **ambiguidade**. Assinale-a:

- a** Bombeiros são presos por desobediência após protesto no Rio
b Câmara arquiva representação e rejeita investigar presidente da Casa
c Prefeitura de Matinhos (PR) exige exame de HIV para aceitar candidato em concurso público
d Taxa de juros cobrada pelo cheque especial chega a 188%
e Apple move ação contra Samsung por plágio

QUESTÃO 32

Das frases abaixo, assinale aquela que transgredir as regras de **concordância verbal**:

- a** A maior parte dos brasileiros no topo da pirâmide **acredita** que faz parte da classe média.
b Um terço dos internautas brasileiros já **possui** smartphones.
c Pelo menos dois terços da dívida dos EUA **está** de posse de países do G20.
d Da fatia de 10% mais pobre da população brasileira, 32% da renda **é consumida** com impostos.
e Da fatia de 10% mais pobre da população brasileira, 32% dos rendimentos **são consumidos** com impostos.

QUESTÃO 33

Assinale o item em que o **acento grave** (indicador da crase) **não** deveria ser empregado:

- a** Da Ásia **à** América, passando pela Europa, as Bolsas registraram quedas significativas.
b O pessimismo domina os investidores em relação **à** economia, em especial nos países mais desenvolvidos.
c Militares criticam escolha de diplomata **à** frente do ministério das Forças Armadas.
d O governo quer mudar a regulamentação para aumentar os recursos destinados **à** casa própria.
e A reportagem acompanhou as menores de rua na Vila Mariana desde **às** 9 horas da manhã.

QUESTÃO 34

Assinale o único item em que a expressão em **negrito** esteja empregada corretamente:

- a** **Ao invés de** manter o alvo em 4,5% pelo nono ano seguido, caberia firmar um compromisso decidido com a inflação baixa e diminuir a meta para 4,25%. (Editorial Folha de S. Paulo)
b Mas como um todo, afirma, eles ainda estão apostando que as ações vão subir, **ao invés de** descerem. (Julie Creswell - Folha de S. Paulo)
c **Ao invés de** esperar as pessoas e as situações ideais, arregace as mangas e dê exemplo de iniciativa e coragem. (Barbara Abramo - Folha de S. Paulo)
d **Ao invés de** próteses de silicone, o cirurgião utiliza depósitos de gordura da própria paciente, enriquecida com células-tronco. (Mariana Pastore - Folha de S. Paulo)
e As autoridades, **ao invés de** lançar mão só da taxa de juros, começaram a apelar para medidas “prudenciais”, que inibem diretamente o crédito. (Editorial Folha de S. Paulo)

Leia para as questões 35 e 36:

O mestre-de-cerimônias era um padre de meia-idade, de figura menos má, filho da Ilha Terceira, porém que se dava por puro alfacinha¹: tinha-se formado em Coimbra; por fora era um completo São Francisco de austeridade católica, por dentro refinado Sardanápalo², que podia por si só fornecer a Bocage assunto para um poema inteiro; era pregador que buscava sempre por assunto a honestidade e a pureza corporal em todo o sentido; porém interiormente era sensual como um sectário de Mafoma³. O público ignorava talvez semelhante coisa, porém outro tanto não acontecia aos dois meninos, que andavam ao fato de tudo: o mestre-de-cerimônias, fiado em que pela sua pouca idade dariam eles pouca atenção a certas coisas, tinha-os algumas vezes empregado no seu serviço, mandando recados a uma certa pessoa que, saiba o leitor em segredo, era nada menos do que a cigana, objeto dos últimos cuidados de Leonardo, com quem S. Revma. vivia há certo tempo em estreitas relações, salvando, é verdade, todas as aparências da decência.

(*Memórias de Um Sargento de Milícias*,
Manuel Antônio de Almeida)

Vocabulário:

¹alfacinha: natural de Lisboa

²Sardanápalo: rei da Assíria, célebre por sua devassidão e luxo

³sectário de Mafoma: partidário de Maomé, muçulmano.

QUESTÃO 35

Sobre o trecho acima, NÃO é correto afirmar que o narrador:

- a) tece uma crítica sobre a falsa inteireza de caráter, de honestidade e de puritanismo do padre.
- b) deixa transparecer certo preconceito contra os muçulmanos, vistos como sensuais.
- c) denuncia ironicamente o comportamento impróprio e incompatível a um religioso.
- d) ironiza o mestre-de-cerimônias ao utilizar o tratamento “S. Revma”, pronomes solene e formal contrastante com a conduta do padre.
- e) entrevê também, ao lado dos vícios, qualidades no padre: excelente pregador e decente nas aparências.

QUESTÃO 36

Sobre o trecho: “**que podia por si só fornecer a Bocage assunto para um poema inteiro**”, o assunto em questão seria:

- a) a exploração da lírica elegíaca (poemas de tom triste e terno).
- b) a adoção de um artificialismo poético dentro da lírica amorosa.
- c) a expressão de um “eu” tumultuoso e de caráter confessional.
- d) o uso da temática erótica e, por vezes, obscena em seus escritos.
- e) o cultivo de temas bucólicos nos moldes clássicos.

QUESTÃO 37

Publicado inicialmente em folhetins semanais, o romance *Memórias de Um Sargento de Milícias*, para manter o interesse do leitor, utiliza algumas técnicas para criar certa expectativa em relação aos capítulos seguintes, “ganchos” esses que seriam copiados pelas telenovelas atuais. Identifique o trecho que NÃO adota esse procedimento:

- a) “A comadre continuou a aparecer daí em diante por um motivo que mais tarde se saberá.”
- b) “...uma personagem que representará no correr desta história um importante papel...”
- c) “Passemos por alto sobre os anos que decorreram desde o nascimento e batizado do nosso memorando...”
- d) “Já se vê pois o leitor que o negócio estava mal parado, e em breve saberá o resultado de tudo isto.”
- e) “...e pensando em dar-lhe o mesmo ofício que exercia, isto é, daquele ‘arranjei-me’, cuja explicação prometemos dar.”

QUESTÃO 38

Leia o poema:



*A arte é uma fada que transmuta
E transfigura o mau destino.
Prova. Olha. Toca. Cheira. Escuta.
Cada sentido é um Dom divino.*

(Manuel Bandeira)

O texto faz alusão:

- a) ao poder da arte em exacerbar os cinco sentidos, fazendo os leitores se aproximarem do criador.
- b) à sinceridade das sensações ou impressões na poesia, baseando-se numa vivência efetiva.
- c) à alta manifestação do espírito e da sensibilidade humana na arte, provocando uma mágica.
- d) à capacidade da arte em recriar a realidade imediata, melhorando a trajetória existencial.
- e) às experiências sinestésicas proporcionadas pela poesia, interligando o real e o divino.

QUESTÃO 39

Alfredo Bosi, crítico literário e professor de Literatura, destaca os seguintes procedimentos em Oswald de Andrade: “o telegrafismo das rupturas sintáticas, do simultaneísmo, da sincronia, das ‘ordens do subconsciente’, dos neologismos copiosos. (...) O que importava ao Oswald leitor dos futuristas e profundamente afetado pela técnica do cinema era a colagem rápida de signos, os processos diretos, ‘sem comparações de apoio’...”.

O trecho que NÃO se enquadra nas características acima é:

- a “Beiramávamos em auto pelo espelho de aluguel arborizado das avenidas marinhas sem sol.”
- b “Losango, ténues de ouro bandeira nacionalizavam o verde dos montes interiores.”
- c “Barcos. E o passado voltava na brisa de baforadas gostosas. Tolah ia vinha derrapava entrava em túneis.”
- d “Copacabana em um veludo arpepiado na luminosa noite varada pelas frestas da cidade.”
- e “O mal foi ter eu medido o meu avanço sobre o cabresto metrificado e nacionalista de duas remotas alimárias – Bilac e Coelho Neto.”

QUESTÃO 40

Leia:

Por que surgem em mim essas sedes estranhas? A chuva e as estrelas, essa mistura fria e densa me acordou, abriu as portas de meu bosque verde e sombrio, desse bosque com cheiro de abismo onde corre água. E uniu-o à noite. Aqui, junto à janela, o ar é mais calmo. Estrelas, estrelas, rezo. A palavra estala entre meus dentes em estilhaços frágeis. Porque não vem a chuva dentro de mim, eu quero ser estrela. Purificai-me um pouco e terei a massa desses seres que se guardam atrás da chuva.



(Clarice Lispector,
Perto do Coração Selvagem)


O trecho acima apresenta uma característica marcante da autora que é:

- a a introspecção psicológica tradicional que apresenta, de forma linear no espaço e no tempo, a interiorização do universo mental da personagem.
- b o monólogo interior que introduz, de forma lógica e coerente, uma descrição minuciosa e objetiva dos estados da alma.
- c o fluxo da consciência que quebra os limites espaço-temporais, cruzando planos narrativos, sem preocupação com a lógica ou a ordem.
- d o discurso indireto que veicula, através do narrador, as falas das personagens.
- e o discurso indireto livre que funde o pensamento da personagem com a narrativa em terceira pessoa.

HUMANIDADES E CULTURA GERAL CONTEMPORÂNEA

QUESTÃO 41

Um dos mais belos exemplares da arquitetura grega, o Erectéion foi construído entre 421 a.C. e 406 a.C. e chama a atenção por sua graça e elegância. Era um monumento sagrado e sua construção oferece a impressão de uma unidade harmoniosa.



A respeito do Erectéion é correto afirmar que:

- a) foi construído na Acrópole, em Atenas, tendo como destaque o pórtico das Cariátides, estátuas de jovens mulheres que sustentavam o telhado do pórtico;
- b) foi construído em Epidauro e servia como templo de Asclépio, ao qual recorriam as pessoas com esperança de serem curadas de graves enfermidades;
- c) foi construído em Olímpia e fazia parte de um importante santuário onde eram venerados muitos deuses;
- d) situado em Delfos, fazia parte de um santuário considerado importante centro religioso e cultural, sendo conhecido por ser o local onde o oráculo fazia previsões;
- e) era o símbolo do poder de Creta, sendo o principal monumento que sobreviveu no antigo palácio de Minos, em Gnossos.

QUESTÃO 42

Que obra de arte é o homem: tão nobre no raciocínio; tão vário na capacidade; em forma de movimento, tão preciso e admirável, na ação é como um anjo; no entendimento é como um Deus; a beleza do mundo, o exemplo dos animais.

(William Shakespeare. *Hamlet*)

Pois o Senhor reinará na terra com seus santos, como dizem as escrituras, e nela terá sua Igreja, na qual nenhum mal penetrará, afastada e pura de toda a mancha do mal. A Igreja se revelará então com grande clareza, dignidade e justiça. Então não haverá prazer em enganar, em mentir, em ocultar o lobo sob a pele da ovelha.

(Santo Agostinho. *A Cidade de Deus*)

Os textos permitem constatar o contraste de diferentes concepções entre a renascença e a mentalidade medieval. A alternativa que apresenta o contraste que os textos revelam é:

- a) humanismo X laicismo;
- b) individualismo X coletivismo;
- c) antropocentrismo X teocentrismo;
- d) hedonismo X misticismo;
- e) naturalismo X dogmatismo.

QUESTÃO 43

No exame dos aspectos essenciais da economia europeia entre 1480 e 1560, a atenção dos historiadores é imediatamente atraída para o vasto fenômeno que se convencionou chamar 'revolução dos preços', fenômeno especialmente notável a partir de 1520.

No uso que se faz, habitualmente, dessa expressão 'revolução dos preços' não se aplica apenas ao movimento altista dos preços, mas também de uma outra finalidade, mais ou menos explicitamente expressa, de recordar outro grande fenômeno paralelo.

(Ruggiero Romano e Arberto Tenenti.
*História Universal século XXI:
los fundamentos del mundo moderno*)

O outro grande fenômeno paralelo mencionado no final do texto foi:

- a) a chegada ao continente europeu de escravos indígenas;
- b) a chegada ao continente europeu de especiarias asiáticas;
- c) a chegada ao continente europeu do açúcar produzido na América;
- d) a chegada ao continente europeu dos carregamentos de ouro e prata extraídos das minas americanas;
- e) a chegada ao continente europeu de toneladas de matérias-primas extraídas do continente africano.

QUESTÃO 44

Em 1720, a Coroa portuguesa decidiu proibir definitivamente a circulação de ouro em pó, instalando a Casa de Fundição em Vila Rica, onde todo o metal extraído das minas deveria ser transformado em barras para depois ser transportado ao litoral.

A medida pretendia acabar com o contrabando e incrementar a arrecadação de impostos, prejudicando os interesses dos proprietários de lavras auríferas, comerciantes e profissionais liberais que recebiam ouro em pó pelos seus serviços, além dos tropeiros que escoavam a produção.

As novas diretrizes foram intensamente discutidas nos bares, nas tavernas, e críticas ferozes eram lançadas, nas rodas de conversa, contra a administração local. Uma revolta se levantaria contra as medidas de controle da Coroa.

(Fábio Pestana Ramos e Marcus Vinicius de Moraes.
Eles formaram o Brasil)

A revolta ocorrida contra as medidas de controle da Coroa portuguesa foi:

- a a Guerra dos Emboabas;
- b a Revolta de Felipe dos Santos;
- c a Inconfidência Mineira;
- d a Guerra dos Mascates;
- e a Revolta de Beckman.

QUESTÃO 45

Os textos abaixo referem-se a pensadores cujas obras e ideias exerceram forte influência em importantes eventos ocorridos nos séculos XVII e XVIII. Leia-os e aponte a alternativa que os relaciona corretamente a seus autores:

- I. “O filósofo desenvolveu em seus *Dois Tratados Sobre Governo* a idéia de um Estado de base contratual. Esse contrato imaginário entre o Estado e os seus cidadãos teria por objeto garantir os direitos naturais do homem, ou seja, liberdade, felicidade e prosperidade. A maioria tem o direito de fazer valer seu ponto de vista e, quando o Estado não cumpre seus objetivos e não assegura aos cidadãos a possibilidade de defender seus direitos naturais, os cidadãos podem e devem pegar em armas contra seu soberano para assegurar um contrato justo e a defesa da propriedade privada.”
- II. “O filósofo propôs um sistema equilibrado de governo em que haveria a divisão de poderes (legislativo, executivo e judiciário). Em sua obra *O Espírito das Leis* alegava que tudo estaria perdido se o mesmo homem ou a mesma corporação exercesse esses três poderes: o de fazer leis, o de executar e o de julgar os crimes ou as desavenças dos particulares. Afirmava que só se impede o abuso do poder quando pela disposição das coisas só o poder detém o poder.”

- a I – John Locke; II – Voltaire;
- b I – John Locke; II – Montesquieu;
- c I – Rousseau; II – John Locke;
- d I – Rousseau; II – Diderot;
- e I – Montesquieu; II – Rousseau.

QUESTÃO 46

Principal artífice da Independência, José Bonifácio de Andrada e Silva nasceu no porto de Santos, em 1763, filho de família das mais ricas da cidade, dedicada à exportação de açúcar. Após estudar com religiosos em São Paulo, partiu em 1783 para estudar Ciências Naturais na Universidade de Coimbra, cursando as Faculdades de Filosofia e de Matemática, especialidades em que aí se formou.

Como bolsista, efetuara longa viagem de estudos pela Europa: esteve vários anos na França, entre 1790 e 1799, em Freiburg, na Áustria, na Itália e por mais dois anos na Suécia e Dinamarca. Em Paris, entre outros cientistas, esteve em contato com Lavoisier.

Ao voltar a Lisboa, destacou-se como cientista, geólogo e metalurgista, tendo organizado a cadeira de Metalurgia da Universidade de Coimbra. Ocupou vários postos técnico-administrativos, tendo sido nomeado intendente geral das minas de Portugal. Como oficial do Corpo Voluntário Acadêmico, lutou contra as tropas de Napoleão que invadiram Portugal (...)

Monarquista de índole reformista e liberal, foi engolfado nas contradições do processo de independência (...)

Em 1823, eleito deputado à Assembleia Geral Constituinte, atuou durante curto período, tendo proposto dois projetos de lei importantíssimos. Um sobre a integração dos índios na sociedade brasileira, e o outro sobre a abolição da escravidão, prevendo a emancipação gradual dos escravos.



(Adriana Lopez e Carlos Guilherme Mota. *História do Brasil*)

Sobre a participação de José Bonifácio, durante o Primeiro Reinado, em episódios como a Assembleia Constituinte, é correto afirmar que:

- a foi o ideólogo da Constituição outorgada por D. Pedro I, em 1824, sendo transformado no principal ministro do imperador;
- b juntamente com seus irmãos, Martim Francisco e Antônio Carlos, apoiou o fechamento da Assembleia Constituinte, em 1823, através de jornais como *O Tamoio* e *Sentinela da Liberdade*;
- c no projeto constitucional de 1823, defendia a concentração da autoridade política no imperador e a existência de quatro poderes: executivo, legislativo, judiciário e moderador;
- d liderou o Partido Brasileiro, que queria um governo mais democrático e que restringisse o poder do monarca, concedendo maior autonomia às províncias e voto universal;
- e rompeu com D. Pedro I e apoiou o Projeto da Mandioca, redigido por seu irmão Antônio Carlos, que limitava os poderes do imperador, foi preso e exilado para a França.

QUESTÃO 47

As imagens mostram dois importantes personagens da história europeia do século XIX, figuras que expressaram com sua liderança o sentimento nacionalista:



- a a figura I é de Bismarck, ministro prussiano e articulador do processo de unificação da Alemanha – a figura II é de Vitor Emanuel, rei do Piemonte-Sardenha e primeiro rei da Itália unificada;
- b a figura I é de Guilherme I, declarado kaiser do II Reich alemão em 1871 – a figura II é de Vitor Emanuel, rei do Piemonte-Sardenha e primeiro rei da Itália unificada;
- c a figura I é de Von Moltke, o comandante prussiano responsável pela unificação alemã – a figura II é de Giuseppe Garibaldi, líder dos camisas vermelhas, forças populares republicanas, que combateram pela unificação da Itália;
- d a figura I é de Bismarck, representante da aristocracia prussiana e artífice da unidade alemã – a figura II é Giuseppe Garibaldi, herói da unificação italiana e líder dos camisas vermelhas;
- e a figura I é do kaiser Guilherme I, fundador do II Reich alemão – a figura II é de Camillo Cavour, ministro do reino do Piemonte-Sardenha e artífice da unificação italiana.

QUESTÃO 48

A Primeira República no Brasil também é chamada pelos historiadores de a República dos Fazendeiros ou das Oligarquias Agrárias. Os velhos mandões controlavam as eleições e o voto, garantindo com isso, a vitória dos seus parentes e protegidos para cargos de prefeitos, vereadores, deputados, senadores e até para governadores dos estados.

(Francisco e Assis Silva e Pedro Ivo de Assis Bastos.
História do Brasil)

O ordenamento institucional do Estado brasileiro durante a República Velha foi dado pela Constituição Republicana de 1891, a qual estabelecia:

- a eleições indiretas e direito de voto restrito aos membros do Congresso Nacional;
- b eleições diretas e voto a descoberto e censitário;
- c eleições diretas e voto a descoberto e universal;
- d eleições diretas e voto secreto e universal;
- e eleições indiretas e voto secreto e universal, inclusive para mulheres e analfabetos.

QUESTÃO 49

No dia 25 de agosto de 2011 completaram-se cinquenta anos da renúncia do presidente Jânio Quadros.



A imagem apresentada nesta questão remete para uma das passagens mais polêmicas do governo do presidente Jânio Quadros. Sobre ela é correto afirmar:

- a mostra o presidente Jânio Quadros, que havia sido eleito pela ARENA, partido situado à direita do cenário político brasileiro da época, condecorando, com a Ordem do Cruzeiro do Sul, o revolucionário cubano-argentino Che Guevara;
- b mostra o presidente Jânio Quadros, que havia sido eleito pelo Partido Comunista Brasileiro, condecorando, com a Ordem do Cruzeiro do Sul, o revolucionário cubano-argentino Che Guevara;
- c mostra a condecoração, com a Ordem do Cruzeiro do Sul, do revolucionário cubano-argentino Che Guevara, pelo presidente Jânio Quadros, fato que levou o exército brasileiro a exigir a renúncia do presidente;
- d mostra a condecoração de Che Guevara pelo presidente Jânio Quadros, que levou a embaixada dos Estados Unidos a articular com o exército brasileiro o movimento que produziu a renúncia do presidente;
- e mostra a condecoração do revolucionário cubano-argentino Che Guevara, com a Ordem do Cruzeiro do Sul, ato que pretendia expressar a adoção pelo Brasil de uma Política Externa Independente.

QUESTÃO 50

Era o dia 11 de setembro. Desviados de sua missão habitual por pilotos decididos a tudo, os aviões se lançam para o coração da grande cidade, resolvidos a abater os símbolos de um sistema político detestado. Imediatamente explosões, fachadas que voam em pedaços, desabamentos num barulho infernal, sobreviventes aterrorizados, fugindo cobertos de escombros. E a mídia difunde a tragédia ao vivo. (...)

Nova York, 2001? Não, Santiago do Chile, 11 de setembro de 1973. Com a cumplicidade dos Estados Unidos, golpe de Estado do general Pinochet contra Salvador Allende e o palácio presidencial metralhado pela força aérea. Dezenas de mortos e o início de um regime de terror que durou quinze anos...

(Ignácio Ramonet. *Guerras do Século XXI: novos temores e novas ameaças*)

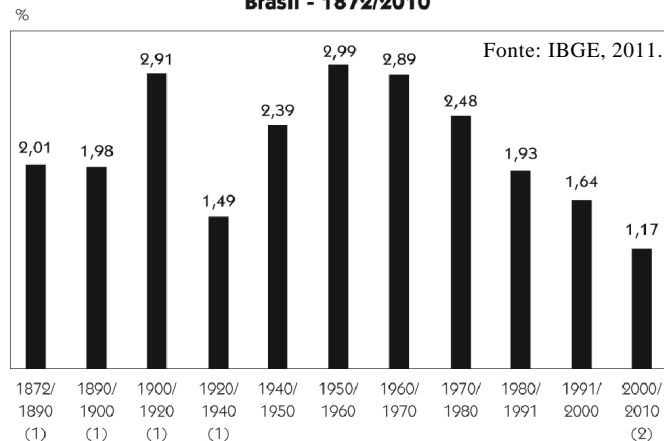
Sobre o ocorrido em 11/09/1973 é correto afirmar que:

- a** o governo de Salvador Allende, da Unidade Popular, composta por socialistas e comunistas, desencadeou intensa mobilização social, cujo resultado foi uma articulação entre setores da sociedade chilena hostis ao socialismo e os EUA, então sob a presidência de Richard Nixon, visando praticar o golpe que derrubou o governo constitucional de Allende;
- b** eleito pelo Partido Democrata Cristão, de posições liberais, Salvador Allende traiu os setores da sociedade chilena que contribuíram para a sua vitória. Com o apoio do exército chileno e da embaixada dos EUA o governo Allende foi derrubado;
- c** Salvador Allende chegou ao poder em 1970 por meio de uma revolução que recebeu o apoio de Cuba. Em resposta ao apoio cubano ao governo Allende, os EUA, contribuíram com setores anticomunistas da sociedade chilena para desencadear o golpe que levou o general Pinochet ao poder;
- d** extremado anticomunista, o general Pinochet vivia, desde os primeiros dias do governo Allende, nos EUA, onde planejou o golpe de 11/09/1973 em colaboração com as autoridades norte-americanas;
- e** o golpe de 11/09/1973, liderado pelo general Pinochet, com o bombardeamento da sede do governo chileno, o palácio presidencial de La Moneda, numa ação que levou Allende a resistir até a morte, provocou enérgicos protestos dos governos dos demais países sulamericanos que se recusaram a reconhecer a ditadura comandada por Pinochet.

QUESTÃO 51

Em 2011 o IBGE divulgou a Sinopse do Censo Demográfico 2010. Observe alguns dados:

Gráfico – Taxa média geométrica de crescimento anual Brasil - 1872/2010



De acordo com os dados é possível afirmar:

- a** o Brasil passa a apresentar um processo de envelhecimento a partir das décadas de 1950 e 1960.
- b** a diminuição da população brasileira é observada a partir das duas últimas décadas devido a queda da fecundidade.
- c** a queda da taxa de fecundidade na metade do século XX e o processo de urbanização, que se seguiu a partir desse período, ajudam a compreender o crescimento vegetativo.
- d** a queda da taxa de mortalidade que provocou a desaceleração do crescimento vegetativo nos anos 1950, está relacionada à evolução da medicina e à melhoria das condições sanitárias.
- e** a população brasileira segue aumentando apesar da desaceleração do crescimento.

QUESTÃO 52

Na bacia hidrográfica, indicada no mapa abaixo, está sendo construída aquela que será a segunda maior usina hidrelétrica do país e uma das maiores do mundo, tendo gerado forte debate nacional.



(<http://educacao.uol.com.br/geografia/bacia-amazonica.jhtm>, Acesso: 13/10/11)

A usina será construída:

- a** No alto curso do rio principal da bacia.
- b** Junto à foz do principal rio da bacia.
- c** Em um afluente da margem direita do principal rio da bacia.
- d** À montante do mais extenso rio da margem esquerda da bacia.
- e** À jusante do mais importante rio da margem esquerda da bacia.

QUESTÃO 53

Sobre o processo industrial brasileiro, está correto afirmar:

- a** A primeira grande indústria de base nacional, instalada no município de Volta Redonda, coincide com a primeira fase da substituição de importação iniciada na Primeira Guerra Mundial.
- b** O rodoviário que se instaurou no Brasil está ligado à ação das montadoras automobilísticas que se expandiram no Brasil, sobretudo a partir do Plano de Metas.
- c** A era Vargas incentivou a presença do capital estrangeiro junto ao parque industrial nacional contra a perspectiva estatista vigente até os anos 1930.
- d** A fixação do capital industrial no estado de São Paulo está ligada à chegada ao poder dos paulistas nos anos 1930 que concentraram os investimentos no estado.
- e** Os anos 1990 caracterizam-se pela polarização das indústrias no sudeste, ratificando um processo iniciado desde anos remotos da indústria brasileira.

QUESTÃO 54

Analise as proposições:

- I. O efeito estufa é potencializado por uma camada de gases poluentes que interferem na reflexão de olbedo.
- II. O Protocolo de Montreal focou na emissão de CO₂ e na amenização do aquecimento global.
- III. O Protocolo de Kyoto teve como meta conter a emissão de CFC na atmosfera, principal gás no processo de aquecimento global.
- IV. Consenso entre os estudiosos do assunto, o aquecimento global e as mudanças climáticas tornaram-se unanimidade, daí a convergência das pesquisas ambientais.

Está (ão) correta (s):

- a** Apenas I
- b** I e II
- c** II e III
- d** I e IV
- e** II, III e IV.

QUESTÃO 55

Observe a afirmação:

Há somente um homem excedente na Terra: Malthus.

P. J. Proudhon

Com essa frase, o líder anarquista procurava criticar:

- a** a tese de que a diminuição gradual da população, a partir das mudanças implementadas pela Revolução Industrial e urbanização, comprometeria o chamado “exército de reserva”.
- b** a tese do crescimento geométrico da produção alimentar em contraposição ao crescimento aritmético da população.
- c** os marxistas que faziam a apologia do crescimento demográfico do proletariado como estratégia revolucionária.
- d** a tese reformista em não reconhecer que o crescimento demográfico descontrolado supera e compromete a produção alimentar que cresce em ritmo aritmético.
- e** a tese demográfica proposta por Thomas Malthus em atribuir ao crescimento demográfico a responsabilidade pelas mazelas sociais.

QUESTÃO 56

Observe a tabela:

Petróleo

2007			2007		2007	
Produtores	10 ⁶ t	% Mundial	Exportadores	10 ⁶ t	Importadores	10 ⁶ t
Arábia Saudita	509,0	12,9	Arábia Saudita	339,0	Estados Unidos	573,0
Federação Russa	485,0	12,3	Rússia	256,0	Japão	206,0
Estados Unidos	300,0	7,6	Irã	130,0	China	159,0
Irã	214,0	5,4	Nigéria	112,0	Índia	122,0
China	190,0	4,8	Emirados Árabes	105,0	Coreia do Sul	118,0
México	159,0	4,0	Noruega	97,0	Alemanha	106,0
Canadá	155,0	3,9	México	89,0	Itália	94,0
Kwait	145,0	3,7	Angola	83,0	França	81,0
Venezuela	137,0	3,5	Kwait	82,0	Espanha	59,0
Emirados Árabes	136,0	3,5	Iraque	81,0	Países Baixos	58,0
Demais Países	1.511,0	38,3	Demais Países	583,0	Demais Países	515,0
Mundo	3.941,0	100,0	Mundo	1.957,0	Mundo	2.091,0

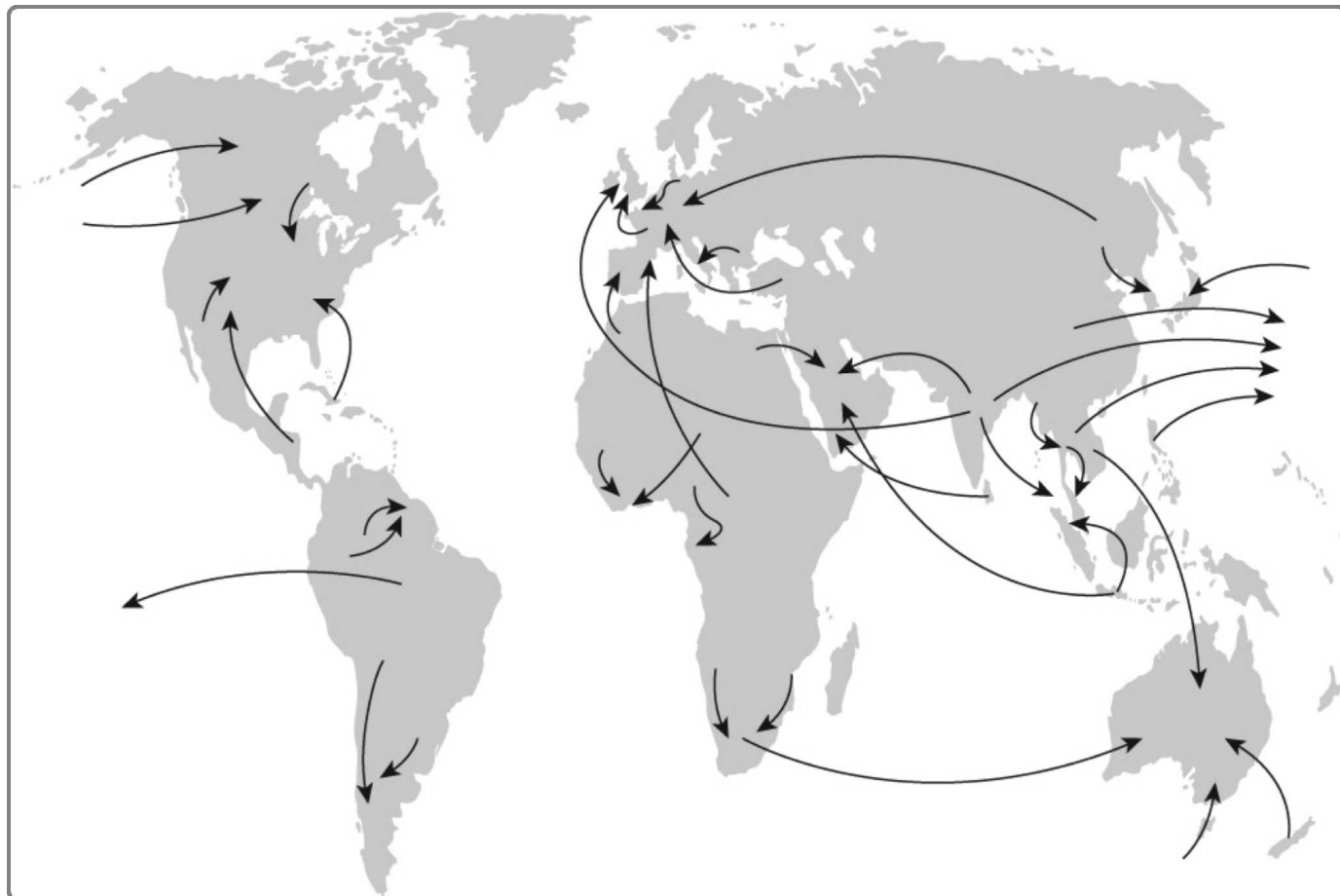
(BEN / Empresa de Pesquisa Energética, EPE, 2009.)

A partir dos dados, é possível aferir com segurança que

- a** Os maiores produtores mundiais de petróleo são membros da Opep.
- b** Os países árabes são os maiores produtores mundiais de petróleo.
- c** Observa-se uma coincidência entre os países produtores, exportadores e importadores de petróleo.
- d** Os grandes importadores mundiais de petróleo não são grandes produtores.
- e** Os principais exportadores não figuram dentre as maiores economias mundiais, fato mais comum entre os importadores.

QUESTÃO 57

Observe o mapa

MIGRAÇÕES INTERNACIONAIS

(<http://www.mmi.espp.iscte-iul.pt/np4/home> - acesso: 11/08/11)

De acordo com o mapa sobre correntes de migração internacional nos dias atuais, é correto afirmar:

- a** predominância de migrações clandestinas como as verificadas entre México e Estados Unidos ou entre Turquia e Alemanha.
- b** as catástrofes naturais são as maiores responsáveis pelas correntes migratórias contemporâneas, produzindo grande número de refugiados ambientais.
- c** Estados Unidos e Europa seguem sendo as principais áreas de emigração do mundo.
- d** fatores econômicos seguem sendo o principal fator das correntes migratórias.
- e** fatores políticos são considerados os maiores fomentadores de imigrantes que buscam refúgio num grande número de países, particularmente na Europa.

QUESTÃO 58

Observe o texto:

(a organização) rechaça qualquer diálogo, com o Governo Central, que não parta das exigências contidas na chamada alternativa KAS, segundo explicou ontem, no primeiro comunicado oficial que divulga a resposta da oferta de negociação do Executivo. Em Bilbao aconteceram novos confrontos durante a madrugada de ontem, ainda que as festas tenham terminadas sem incidentes.

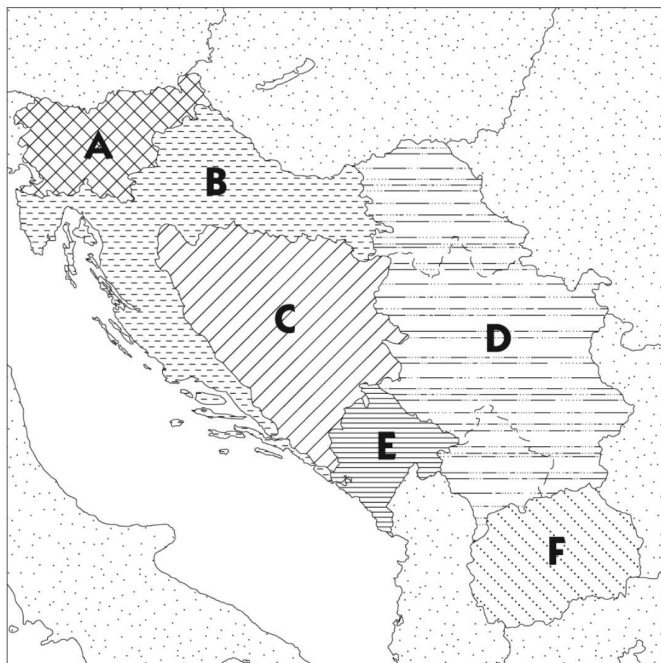
(*El País*, 21/08/11.)

O assunto refere-se:

- a** À questão irlandesa.
- b** Ao separatismo na Galícia.
- c** À questão Basca.
- d** Ao separatismo da Catalunha.
- e** À possível separação da Bélgica em duas áreas: Flandres e Valônia.

QUESTÃO 59

Em 2011 completam-se vinte anos dos lamentáveis episódios da violenta Guerra dos Balcãs que levou à dissolução da Iugoslávia. Com o auxílio do mapa abaixo, indique a assertiva correta:



- a** A – a próspera Eslovênia foi a primeira das repúblicas a se separar da Iugoslávia e teve o imediato reconhecimento da União Europeia, bloco que ingressou posteriormente.
- b** B – Bósnia foi palco da mais sangrenta das guerras e envolveu bósnios muçulmanos, croatas ortodoxos e sérvios católicos.
- c** C – a Croácia sempre alimentou forte rivalidade com os sérvios desde a Segunda Guerra Mundial, quando os croatas apoiaram a invasão nazista e puseram-se contra Tito.
- d** D – Sérvia, apesar de não ter o controle político da ex-Iugoslávia, era a província mais rica, situação alcançada graças à condução do sérvio Joseph Broz Tito que canalizava os recursos para a república.
- e** E – em Kosovo, a maioria cristã sempre alimentou o desejo separatista de juntar-se à Albânia, uma vez que os kossovares igualmente são, majoritariamente, albaneses.

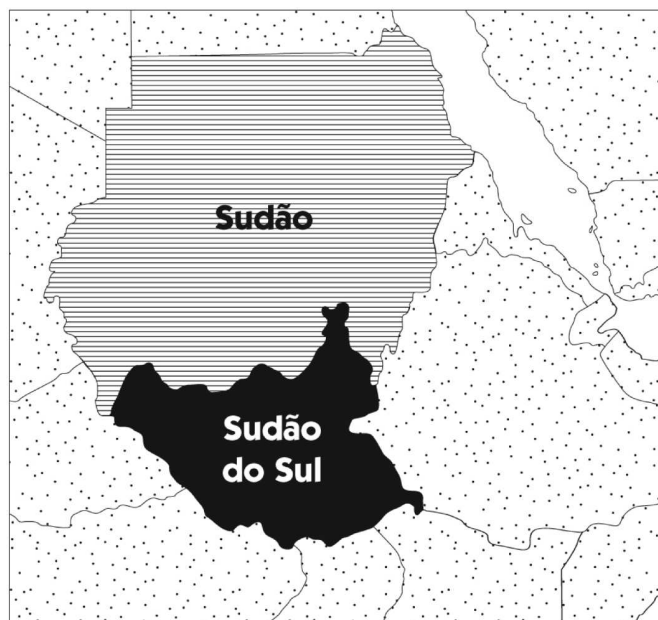
QUESTÃO 60

Observe o texto e o mapa abaixo:

Sudão do sul, independente e vulnerável

No sábado 9, o mundo ganhou um novo país: o Sudão do Sul. A nação, maior que a Bahia, nasce carregando o título do Estado mais pobre do mundo, onde três dos estimados nove milhões de habitantes precisam de ajuda humanitária para se alimentar e 90% vivem com até 50 centavos de dólar por dia (cerca de 0,80 centavos de reais).

(Carta Capital disponível em <http://www.cartacapital.com.br/internacional/sudao-do-sul-independente-e-vulneravel>. Acesso: 30/09/11)



Em relação à geografia do novo país, está correto afirmar:

- a** Localizado na África Austral, as ricas jazidas de ferro e cobre apresentam-se como oportunidades futuras em melhores dias para amenizar o alto índice de miséria existente.
- b** Localizado entre a África Oriental e Central, e de maioria cristã e animista em oposição ao norte islâmico, o Sudão do Sul vê no petróleo as melhores perspectivas futuras.
- c** Localizado na África Ocidental, o novo país tem nas áreas de *plantation* a base da economia exportadora de gêneros tropicais, como cacau e açúcar.
- d** O conflito étnico entre tutsie e hutus levou a um genocídio nesse novo país da África Oriental, cuja separação em duas partes pareceu ser a única solução possível.
- e** O novo país de maioria islâmica localiza-se na África Setentrional e o clima mediterrâneo favorece o cultivo de videiras e oliveiras, os principais produtos de exportação.

QUESTÃO 61

O primeiro ano do governo Dilma assistiu a uma série de denúncias que levaram à queda de alguns ministros ligados à base aliada. Caíram os ministros das pastas:

- a** Chefe da Casa Civil; Transportes; Defesa; Agricultura.
- b** Turismo; Agricultura; Fazenda; Planejamento.
- c** Ciência e Tecnologia; Chefe da Casa Civil; Transporte; Turismo.
- d** Minas e Energia; Defesa; Forças Armadas; Pesca.
- e** Transportes; Turismo; Fazenda; Agricultura.

QUESTÃO 62

Observe a matéria:

O preenchimento de cargo de ministro do Supremo Tribunal Federal (STF) é questão delicada. O cargo concede mandato vitalício (até a idade de 70 anos) para figurar entre 11 guardiões da Constituição. O ritual será reeditado em breve, para a substituição da ministra Ellen Gracie. A corte como é visível para todos tem tomado decisões de grande repercussão na esfera política brasileira, um movimento que já foi chamado de 'ativismo judicial'. União homoafetiva, terra indígena Raposa/Serra do Sol, fidelidade partidária, ficha limpa, caso Cesare Battisti.

(Folha de S. Paulo, 20/08/2011.)

Sobre o preenchimento de vaga de ministro do Supremo Tribunal Federal é correto afirmar:

- a** é prerrogativa do presidente da República;
- b** é prerrogativa do ministro da Justiça;
- c** decorre de eleição interna no STF, em que apenas os próprios ministros possuem direito de voto;
- d** decorre de eleição interna no STF, mas o vitorioso necessita ser aprovado pelo presidente da República, e este pode vetar o eleito;
- e** é nomeado pelo presidente da República, mas deve ser aprovado pelo Congresso Nacional.

QUESTÃO 63

Observe a matéria:

***PSD obtém 1º registro do partido em Santa Catarina
Sigla ainda precisa do aval de 8 TREs***

O PSD obteve o primeiro dos nove registros necessários para se tornar um partido político. Ontem, o TRE (Tribunal Regional Eleitoral) de Santa Catarina aprovou a sigla no Estado. Santa Catarina foi o Estado onde foram detectadas as primeiras assinaturas atribuídas a eleitores mortos nas listas de apoio ao partido.

(Folha de S. Paulo, 18/08/11)

Em relação ao novo partido, é correto afirmar:

- a** É fruto de uma cisão de partidos da base aliada que perderam espaço no Governo Dilma a partir daquilo que se convencionou designar como "faxina ética."
- b** Foi idealizado pelo prefeito de São Paulo Gilberto Kassab e é uma dissidência do DEM.
- c** Surge da divergência entre os grupos políticos de José Serra e Geraldo Alckmin, buscando mais espaço no PSDB.
- d** É uma cisão do PT entre aqueles que defendem um retorno ao idealismo inicial do partido e a corrente pragmática que defende um amplo arco de alianças.
- e** Fundado por ex-membros da oposição que pertenciam ao DEM e ao PMDB, o novo partido pretende juntar-se à base aliada do Governo Dilma.

QUESTÃO 64

O texto abaixo retrata a crise econômica norte-americana de 2011:

A direita estadunidense se opõe a qualquer redução da dívida pelo aumento dos impostos. Num país em que a avalanche de privilégios fiscais concedidos aos mais ricos faz com que o nível global de recolhimento seja o mais baixo dos últimos cinquenta anos, a postura desse setor parece insólita.

(Le Monde Diplomatique, agosto de 2011.)

A presente crise está mais diretamente associada:

- a** ao aumento da dívida pública norte-americana para um montante similar ao próprio PIB, em torno de US\$ 14 trilhões.
- b** à crise grega que extrapolou os limites da Europa e atingiu as bolsas norte-americanas.
- c** à retirada das tropas norte-americanas do Iraque e Afeganistão que fomentava uma economia paralela, porém, importante na manutenção do equilíbrio fiscal do país.
- d** à retração do mercado devido à queda do poder aquisitivo do consumidor médio norte-americano.
- e** à pressão que o partido republicano exerceu sobre o presidente Barack Obama, inviabilizando um acordo sobre elevação de gastos públicos, tradicional bandeira republicana.

QUESTÃO 65

Observe o texto:

Na nova Índia, frequentemente obcecada pela riqueza e o status, Anna Hazare é uma figura que parece vinda de uma era anterior. Sua boina branca pontuda e suas roupas simples de algodão branco evocam uma simplicidade digna de Mahatma Gandhi, o fundador da Índia, o mesmo pode ser dito de suas táticas de protesto não violentas: greves de fome e marchas pacíficas. Sua aparência rural desprezível é algo que poderia suscitar risinhos de escárnio da elite urbana indiana. Mas Hazare emergiu como o rosto improvável de um movimento popular acalorado na Índia.

(Folha de S. Paulo, 21/08/2011.)

O ativista indiano Anna Hazare foi preso quando se dirigia a um parque em Nova Delhi onde iniciaria greve de fome:

- a** em combate à instalação de novas usinas nucleares na Índia;
- b** em campanha contra a corrupção;
- c** em campanha pela reforma do sistema de ensino;
- d** em campanha pela reforma do sistema financeiro;
- e** em combate pelo fim dos privilégios de casta na sociedade indiana.

QUESTÃO 66

Observe o texto:

Após algumas tentativas mal sucedidas em eleger um representante brasileiro para entidades vinculadas à Organização das Nações Unidas (ONU), o Brasil conseguiu em julho eleger José Graziano, com o apoio dos países emergentes, para um órgão das Nações Unidas que conta com um orçamento bianual de 2.2 bilhões de dólares. Ex-ministro e assessor do presidente Lula, José Graziano teve o apoio dos países pobres e a oposição da Europa e dos Estados Unidos.

(Carta Capital, 06/07/2011.)

O órgão da ONU para o qual o ex-ministro em questão foi eleito diretor geral é:

- a** Organização Internacional do Trabalho (OIT);
- b** Programa das Nações Unidas para o Desenvolvimento (PNUD);
- c** Organização Mundial de Saúde (OMS);
- d** Organização das Nações Unidas para Alimentação e Agricultura (FAO);
- e** Organização Mundial de Comércio (OMC).

QUESTÃO 67

Observe a matéria:

Uma tragédia humana está se desenrolando no Chifre da África. Informes da Organização das Nações Unidas (ONU) alertam para a tragédia humanitária que atinge a região. Os dados são do primeiro relatório sobre o número de mortes, que a ONU calcula em dezenas de milhares de pessoas, na Somália.

(www.estadão.com.br/internacional
(acesso em: 05/08/2011).

A tragédia humanitária citada no texto decorre diretamente:

- a** do terrorismo praticado pela Al Qaeda;
- b** do violento terremoto que afetou a região;
- c** da chamada “Primavera Árabe”, movimento político para derrubar a ditadura que governa a Somália;
- d** da guerra entre a Somália, a Etiópia e a Eritreia;
- e** da fome que atinge milhares de pessoas.

QUESTÃO 68

Observe a matéria:

O filme é visualmente muito elaborado, com inspiração em pinturas pré-rafaelitas e alemãs, música de Beethoven (como a Nona Sinfonia) e traduzindo a habitual visão niilista do diretor sobre a vida e as relações humanas. Kirsten Dunst acabou vencendo o prêmio de melhor atriz neste ano em Cannes, por seu desempenho no filme. A discussão do filme em si, que concorria à Palma de Ouro, foi bastante prejudicada por declarações do diretor sobre Hitler.

(www.g1.globo.com. Acesso em 04/08/11).

O texto trata sobre:

- a** o filme *Meia Noite em Paris*, do cineasta norte-americano Woody Allen;
- b** o filme *Restrepo*, do jornalista norte-americano Sebastian Junger e do fotoperjornalista inglês Tim Hetherington;
- c** o filme *Melancolia*, do cineasta dinamarquês Lars Von Trier;
- d** o filme *Bastardos Inglórios*, do cineasta norte-americano Quentin Tarantino;
- e** o filme *As Razões do Coração*, do cineasta mexicano Arturo Ripstein.

QUESTÃO 69

Observe o quadro abaixo e assinale a afirmação correta:



- a) Trata-se da obra “Operários” de Tarsila Amaral e faz referência à diversidade cultural brasileira.
- b) Obra surrealista de Salvador Dalí intitulada “Poesia das Américas”, ilustra o processo multicultural na colonização americana.
- c) Trata-se da obra “Os imigrantes” de Anita Malfatti que retrata a importância dos imigrantes na formação do povo brasileiro.
- d) Trata-se da obra “Os retirantes” de Cândido Portinari e faz uma referência ao êxodo rural ocorrido na segunda metade do século XX, auge da industrialização brasileira.
- e) Trata-se da obra “Navio de imigrantes” de Lasar Segall, momento em que o artista homenageou a saga do imigrante brasileiro que veio trabalhar na indústria incipiente.

QUESTÃO 70

Observe o texto:

“Isso é antiamericano”, disse o pré-candidato republicano a presidente Herman Cain ao programa “Face the Nation”, da CBS.

“Embora tenhamos nossos desafios, acredito que os protestos são mais anticapitalismo e antilivre mercado do que qualquer outra coisa. Sabemos que os sindicatos e certas organizações estão por trás dos protestos que vêm ocorrendo”. “Isso é coordenado para criar distração e para que as pessoas não possam se focar nas fracassadas políticas deste governo”, afirmou.

(Exame, disponível em <http://exame.abril.com.br/economia/mundo/noticias>. Acesso: 13/10/11.

Sobre a matéria, é correto afirmar:

- a) É uma referência ao movimento *Tea Party* que defende a ascensão social através do modelo liberal.
- b) Trata-se do movimento denominado *Ocupem Wall Street* iniciado pelos republicanos descontentes com o governo de Barack Obama.
- c) Está relacionada ao movimento conservador *Tea Party*, liderado pela governadora do Alasca e candidata à presidência dos Estados Unidos, Sarah Palin, forte defensora dos valores tradicionais.
- d) Está relacionada ao movimento *Ocupem Wall Street* que questiona a desigualdade nos Estados Unidos e os excessos do sistema financeiro.
- e) Trata-se do movimento progressista *Tea Party* vinculado ao Partido Republicano e que defende uma sociedade mais justa e igualitária nos Estados Unidos.

INGLÊS

The New Gold Rush

Soaring gold prices are causing a new mining boom that's threatening the Amazon rainforest.



As stocks and bonds tumble from the Dow to the DAX, investors are scrambling for fireproof assets—and for many market watchers, the refuge of choice right now is gold. The ancient hedge for troubling economic times has soared since the economic collapse of 2008, spiking 23 percent just since January. By this week the price of an ounce of gold was close to \$1,800, a nearly sevenfold increase over 2001.

But in the stampede to safety, fortune hunters are leaving behind a heavy footprint. The story is the same across the developing world: Fueled by market buzz, miners wielding picks, pans, and dredging machines are heading to locations as far-flung as the Australian outback and the Nigerian jungle. On Indonesia's Paradise Island, hundreds of illegal claims have sprung up in the last three years, digging up the storied mountains behind the famed tourist resorts.

Yet nowhere has the impact been greater than in Latin America, which is blessed—and cursed—by some of the richest veins of mineral ore in the world. The post-crisis gold rush is on fire in some of the remotest stretches of the American tropics, and once again it comes with the snarling of chain saws, infectious disease, and a whiff of cordite. “Every time there's a significant rise in gold prices, marginal gold mines spring back to life in the remotest regions,” says Marcio Santilli, who works for a Brazilian indigenous-rights group, Instituto Socioambiental. “That often means trouble.”

Ten years ago, with the easy alluvial gold all but gone and ore prices sagging, most wildcat miners had quit the jungle camps for the cities, trying their luck with odd jobs in the urban slums of Boa Vista, Cuzco, Manaus, Porto Velho, and Quito. But with ore prices up nearly 50 percent in value over the last 12 months, gold fever has swept the rainforest again. “What brings gold mining back to life is cheaper fuel and high prices for gold, and that's exactly what we have right now,” says Luciano Borges, an economist who advises Brazilian mining companies.

In Colombia, Ecuador, Guyana, Brazil, and especially Peru, miners are on the move, scraping away forests, rifling the soil, and turning over streambeds for specks of gold.

Ground zero for the new treasure hunt is the Peruvian Amazon, where some 40,000 miners swarm claims along the Madre de Dios river, which rises in the southern Andes and flows east into Brazil. Though it's hard to imagine, this army in rags roots up nearly 20 percent of Peru's annual take of 175 metric tons of gold.

It also leaves a wake of destruction behind it. Riverbanks dissolve as prospectors power-hose the clay, sucking up the detritus into diesel-powered dredges. Globes of toxic mercury, which prospectors use to bind with alluvial gold, fall into streams, where the mercury is taken up by plants and fish—and eventually humans. Though few strike it rich, and those who do often blow their take in a single bender, expectation pulses through the miners' camps like aguardiente, the cheap cane rum that fuels imaginations and brawls. Prostitutes and thieves troll the Amazon boomtowns, where there's also a brisk business in guns and drugs.

(August 19, 2011 | www.newsweek.com)

QUESTÃO 71

According to the text:

- Ⓐ The 2008 economic downturn has made gold prices plummet.
- Ⓑ The 2008 economic downturn has made gold skyrocket.
- Ⓒ The price of the ounce of gold has increased at least seven times since 2001.
- Ⓓ The Amazon is teeming with gold as are the Australian outback and the Nigerian jungle, but suffering less impact by the gold rush.
- Ⓔ The new gold rush puts the Amazon rainforest preservation in jeopardy.

QUESTÃO 72

In the underlined sentence “But in the stampede to safety, fortune hunters are leaving behind a heavy footprint.”, the author means that:

- Ⓐ fortune hunters are making history.
- Ⓑ fortune hunters are traced by their footprints.
- Ⓒ fortune hunters are making their names for themselves.
- Ⓓ fortune hunters are leaving their mark.
- Ⓔ fortune hunters are marking the way not to get lost.

QUESTÃO 73

The underlined word “though” could be replaced, without changing its meaning, by:

- a) whereas
- b) albeit
- c) moreover
- d) rather than
- e) hence

QUESTÃO 74

According to the text:

- a) Whenever gold is ranked as a valuable commodity, outlaws spring out in gold mines.
- b) Back in the early 2000s, when mines ran out of alluvial gold, gold hunters left for the shantytowns getting by with weird jobs.
- c) With the boom of gold, miners wreak havoc everywhere they dig.
- d) In Peru, the army is taking almost 20 percent of the miners annual revenues.
- e) There is also trade of guns and drugs, such as aguardente, among gold miners.

New riot-control technology**The sound and the fury****Quelling unrest is a lucrative trade**

Praetorian guard 2.0

MOBS are bad for businesses—unless you are selling riot-control gear, that is. Even before this week’s riots in Britain governments were bracing themselves against protests stoked by the economic downturn. Firms such as Israel’s Hagar Industries are doing a roaring trade in anti-riot shields, batons and helmets. David Frenkel, the firm’s production manager, says demand is growing from police and military services in Europe, South America and Africa, bolstered by “war, unrest and natural disasters”.

Ochlocracy—mob rule—was a term coined in ancient times, when grain prices or a celebrity murder could spark a riot. The Roman emperors’ Praetorian Guard used cavalry and swords against stone-throwers. Their latter-day counterparts (human and equine) are better protected, with goggles, shields and other kit made of lightweight, flame-resistant, unshatterable and stab-proof materials.

They also have more ways of disrupting the rioters. Police in India spray unruly crowds with coloured water: stained and sodden agitators are easier to identify. America’s forces have developed (but not used) a “heat ray” designed to clear crowds by painfully zapping the skin. The unfamiliar tones of classical music can disperse loiterers, while big sound-blasters, known as “long-range acoustic devices” (LRADS), have been deployed against protesters in some American states. At a cost of up to \$30,000 they can emit sound at 150-plus decibels (like a roaring jet engine at close range). Israel has a fancier version known as the “Scream” that affects the inner ear and induces nausea. When ochlophonics fail, authorities there have been known to douse Palestinian protesters with “skunk bombs” of smelly liquid.

Eyes are as vulnerable as ears and noses. A firm called Intelligent Optical Systems, based in California, is developing, with government backing, a strobe torch that makes targets dizzy and disoriented (at least within a range of 15 metres). Laser Energetics, in New Jersey, sells “Dazer Lasers” that emit a green beam capable of dazzling people up to 2.4 km away.

(Aug 13th 2011 | www.economist.com)

QUESTÃO 75

According to the main idea expressed by the text, it is correct to state that:

- a) there is a great variety of methods to disperse the crowd in many different countries.
- b) the police and the military services are bolstering the demand for anti-riot technology.
- c) investing in the riot-control business can be profitable.
- d) man has developed cruel ways of tackling social unrest.
- e) public dissatisfaction caused by recession fuels anti-riot technology.

QUESTÃO 76

Another way of saying: “MOBS are bad for businesses—unless you are selling riot-control gear” would be:

- a) Unless you are selling riot-control gear, mobs are not bad for business.
- b) If you are selling riot-control gear, mobs are not bad for business.
- c) Unless you are not selling riot-control gear, mobs are bad for business.
- d) If you are not selling riot-control gear, mobs are not bad for business.
- e) Provided you are not selling riot-control gear, mobs are not bad for business.

QUESTÃO 77

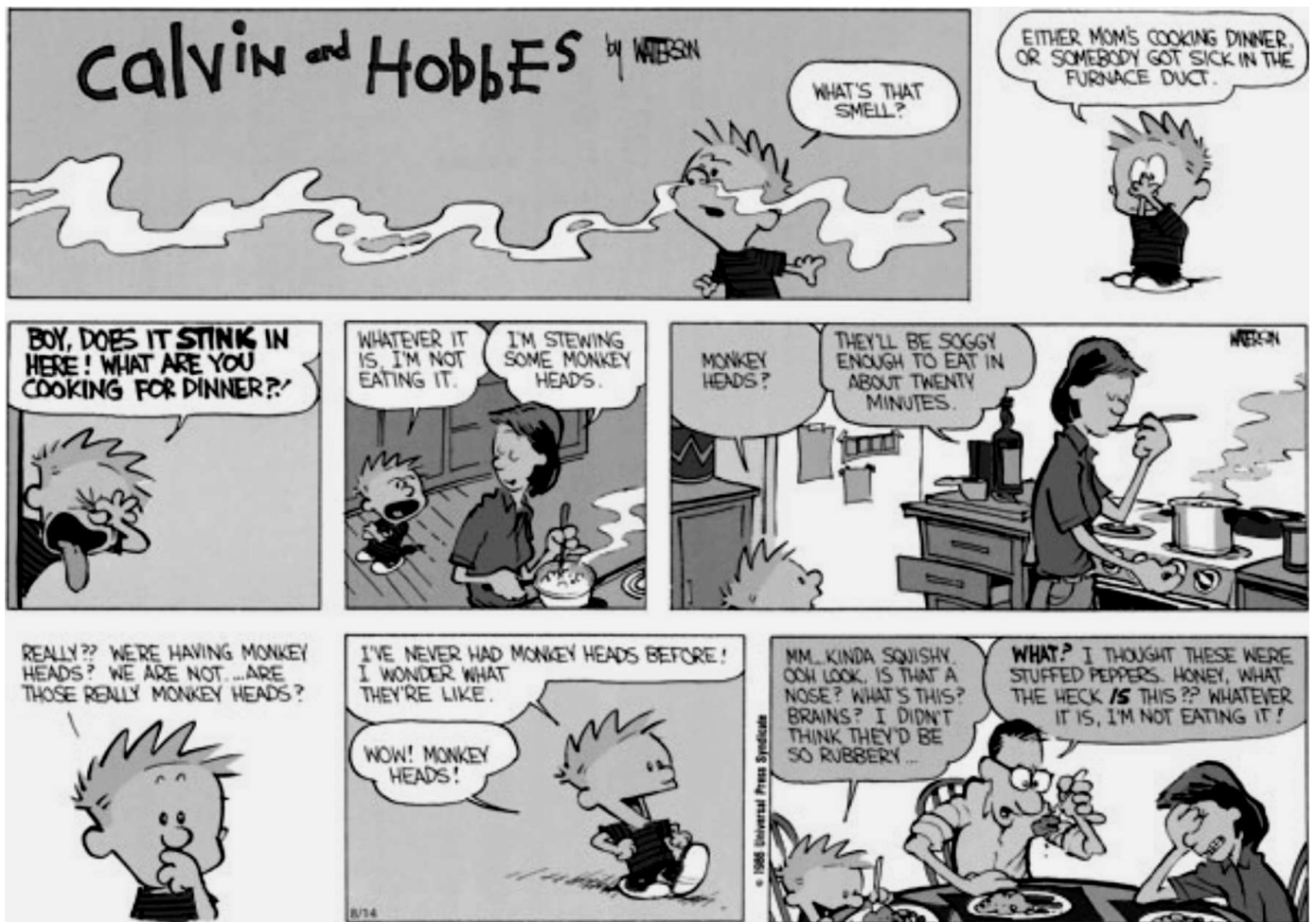
According to the text:

- a) Americans own a weapon that burns the skin.
- b) Americans disperse the crowd for listening to loud music
- c) the police soak anarchist mobs with colorful water.
- d) Palestinians are made wet with odorless bombs.
- e) in New Jersey, there is a laser beam on the market that makes people blind over 2.4 km away.

QUESTÃO 78

The underlined pronoun ‘they’ in ‘At a cost of up to \$ 30,000 they can emit sound at 150-plus decibels.’, refers to:

- a) tones of classical music
- b) loiteres
- c) big sound-blasters
- d) long-range acoustic devices
- e) protesters



QUESTÃO 79

In the second strip, the sentence “Either mom’s cooking dinner, or someone got sick in the furnace duct”, either...or... expresses the idea of:

- a) exclusion
- b) alteration
- c) exemplification
- d) variation
- e) opposition

QUESTÃO 80

According to the comic strip:

- a) Calvin thought someone in the family was ill due to his mom dinner.
- b) the weird dish Calvin’s mom is cooking smells terrific.
- c) food will be crispy and tasty in less than half an hour.
- d) Calvin is keen on eating monkey heads.
- e) Calvin's dad refuses to eat monkey heads.