

2017

1º Semestre



Geografia

VESTIBULAR FGV

GRADUAÇÃO EM DIREITO SP

Instruções para a Prova de GEOGRAFIA:

- Confira se seu nome e RG estão corretos.
- Não se esqueça de assinar a capa deste caderno, no local indicado, com caneta azul ou preta.
- Você terá **4 horas** para realizar as provas.
- Antes de iniciar a prova, verifique se o caderno contém 3 questões e se a impressão está legível.
- Verifique também se a última folha deste caderno contém as imagens ampliadas e em cores das questões 1, 2 e 3.
- A prova de **Geografia** é composta por 3 questões e vale, no total, 10 pontos, assim distribuídos:
 - **Questão 1** – 3 pontos (sendo 1 ponto para o subitem **A**, 1 ponto para o subitem **B** e 1 ponto para o subitem **C**).
 - **Questão 2** – 3,5 pontos (sendo 1 ponto para o subitem **A**, 1 ponto para o subitem **B** e 1,5 ponto para o subitem **C**).
 - **Questão 3** – 3,5 pontos (sendo 1,5 ponto para o subitem **A**, 1 ponto para o subitem **B** e 1 ponto para o subitem **C**).
- As respostas deverão ser redigidas nos espaços destinados a elas, com letra legível e, obrigatoriamente, com caneta de tinta azul ou preta.
- Não se identifique em nenhuma das folhas do corpo deste caderno, pois isso implicará risco de anulação.
- O candidato só poderá deixar definitivamente o local das provas a partir de 1 hora e meia após seu início.
- Não haverá substituição deste caderno.
- O candidato é responsável pela devolução deste caderno ao fiscal de sala.
- Adverte-se que o candidato que se recusar a entregar este caderno, dentro do período estabelecido para realização das provas, terá automaticamente sua prova anulada.
- Estará automaticamente eliminado do processo seletivo o candidato que obtiver **nota bruta inferior a 3,0** na prova de **Geografia**.

NOME:

IDENTIDADE:

INSCRIÇÃO:

LOCAL:

DATA: 15/11/2016

SALA:

ORDEM:

Assinatura do Candidato: _____

ID: <<ID>>


GEOGRAFIA

QUESTÃO 1

A capital paulista bateu um novo recorde de frio nessa segunda-feira (13), com temperatura mínima oficial de 3,5°C, registrada pelo Instituto Nacional de Meteorologia, na estação do Mirante de Santana, zona norte da cidade. A forte massa de ar polar que atua no Estado de São Paulo tem provocado muito frio durante as madrugadas. Por causa do resfriamento, diversos bairros estão amanhecendo com nevoeiro e há previsão de ocorrência do fenômeno da inversão térmica.

Adaptado de: Climatempo.com.br/noticia/2016/06/13.

A partir do texto,



A relacione o fenômeno *El Niño* com as temperaturas registradas nas regiões Sul e Sudeste no mês de junho deste ano;

RESPOSTA

NOTA

GEOGRAFIA

QUESTÃO 1 (continuação)

B apresente duas consequências dessas condições climáticas sobre as atividades econômicas;

RESPOSTA

NOTA

C indique como a inversão térmica prejudica a saúde e o bem-estar da população paulistana.

RESPOSTA

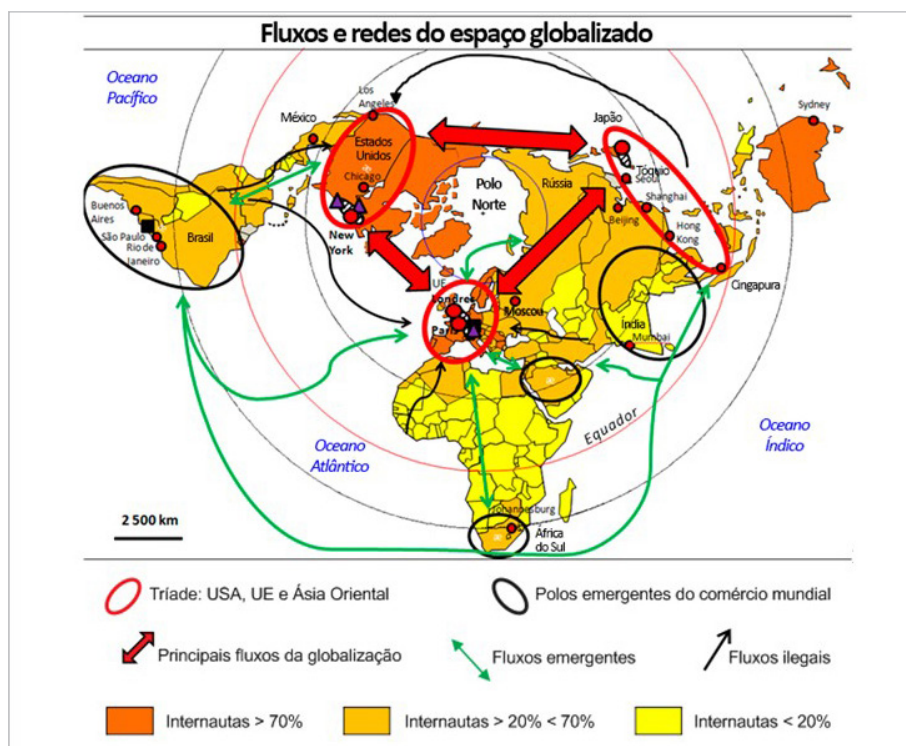
NOTA

GEOGRAFIA

QUESTÃO 2

A globalização, apoiada nos três grandes centros de impulsão da economia mundial, não impede que os Estados, as redes ou os indivíduos se organizem em diferentes escalas regionais ou locais.

Com base no texto acima e no mapa,



A indique duas medidas adotadas pelos países emergentes para se inserirem nos mercados globalizados;

RESPOSTA

NOTA

GEOGRAFIA

QUESTÃO 2 (continuação)

B analise a lógica de implantação das empresas transnacionais nos países em desenvolvimento;

RESPOSTA

NOTA

C avalie o papel da Organização Mundial do Comércio na regulação dos fluxos internacionais de comércio.

RESPOSTA

NOTA

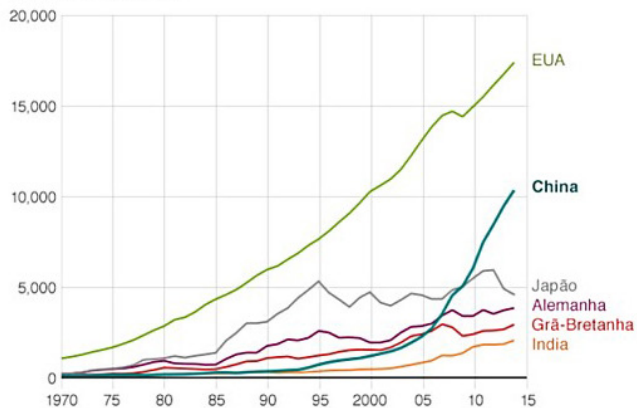
GEOGRAFIA

QUESTÃO 3

Durante três décadas a economia chinesa cresceu a uma taxa média de 10% ao ano. Embora este crescimento tenha desacelerado na última década, a China continua em expansão a uma taxa anual em torno de 7%, superior à das maiores economias mundiais. Diversos fatores foram responsáveis pelo sucesso da economia chinesa, embora nenhum deles, isoladamente, possa ser apontado como o principal.

PIB em valores atuais em dólar, 1970-2014

Em bilhões de dólares



Fonte: Banco Mundial



Interior de uma fábrica de iPhones, em Chengchow, no norte da China.

Com base no texto acima, no gráfico e na foto;

A cite e explique dois fatores responsáveis pelo crescimento da economia chinesa;

RESPOSTA

NOTA

VISTO CORRETOR

SALA:

ORDEM :

ID:

GEOGRAFIA

QUESTÃO 3 (continuação)

B avalie os custos sociais e ambientais do crescimento econômico para a sociedade chinesa;

RESPOSTA

NOTA

C indique duas consequências da diminuição do ritmo de crescimento da China para a economia mundial.

RESPOSTA

NOTA
