

# 2017

---

1º Semestre



Geografia

## VESTIBULAR FGV

---

GRADUAÇÃO EM DIREITO SP

GRADE DE CORREÇÃO

**NOME:**

**IDENTIDADE:**

**INSCRIÇÃO:**

**LOCAL:**

**DATA:** 15/11/2016

**SALA:**

**ORDEM:**

**Assinatura do Candidato:** \_\_\_\_\_


## GEOGRAFIA

## QUESTÃO 1

A capital paulista bateu um novo recorde de frio nessa segunda-feira (13), com temperatura mínima oficial de 3,5°C, registrada pelo Instituto Nacional de Meteorologia, na estação do Mirante de Santana, zona norte da cidade. A forte massa de ar polar que atua no Estado de São Paulo tem provocado muito frio durante as madrugadas. Por causa do resfriamento, diversos bairros estão amanhecendo com nevoeiro e há previsão de ocorrência do fenômeno da inversão térmica.

Adaptado de: [Climatempo.com.br/noticia/2016/06/13](http://Climatempo.com.br/noticia/2016/06/13).

A partir do texto,



A relacione o fenômeno *El Niño* com as temperaturas registradas nas regiões Sul e Sudeste no mês de junho deste ano;

## RESPOSTA

Anualmente, o anticiclone migratório polar, com sua linha de descontinuidade frontal (frente polar), afeta com regularidade a Região Sul e, às vezes, avança até a Região Sudeste, principalmente durante o outono e o inverno. O avanço das massas polares do Atlântico (frias e úmidas) até essas regiões é facilitado pelo relevo plano e baixo da Bacia Platina. Sua atuação provoca queda das temperaturas, e mesmo chuvas. Neste ano, desde o início junho, é bastante forte a atuação do ar polar sobre o centro-sul do Brasil.

Nos anos de ocorrência do fenômeno El Niño, que ocorre em determinados períodos, e se manifesta com o aquecimento (de 3oC a 7oC) das águas do Oceano Pacífico nas proximidades do Equador, a América do Sul sofre a ação de uma massa de ar quente e úmida que atua no sentido noroeste-sudeste. No Brasil, essa massa de ar desvia a Massa Polar Atlântica para o Oceano Atlântico antes de atingir a região Sudeste, o que ameniza a queda das temperaturas durante o inverno.

Desde o início do ano de 2016, o fenômeno El Niño vem enfraquecendo. Com o efeito El Niño neutralizado, ocorre a atuação mais intensa das massas polares. Estas avançam com mais facilidade pelo sul da América do Sul e pelo sul do Brasil, provocando temperaturas muito baixas na região Sul, Sudeste e, até mesmo, queda das temperaturas médias de outono nas demais regiões do país.

## GRADE DE CORREÇÃO:

**100% de acerto** - Relacionou corretamente o fenômeno El Niño com as temperaturas registradas nas regiões Sul e Sudeste no mês de junho deste ano.

**50% de acerto** - Explicou o fenômeno El Niño, mas não o relacionou com as temperaturas registradas nas regiões Sul e Sudeste no mês de junho deste ano.

**25% de acerto** - Explicou de forma incompleta o fenômeno El Niño e a relação entre este e as temperaturas registradas nas regiões Sul e Sudeste no mês de junho deste ano.

**0% de acerto** - Explicou incorretamente o fenômeno El Niño e incorretamente sua relação com as temperaturas registradas nas regiões Sul e Sudeste no mês de junho deste ano.

**GEOGRAFIA****QUESTÃO 1** (continuação)

**B** apresente duas consequências dessas condições climáticas sobre as atividades econômicas;

**RESPOSTA**

Aumento das vendas de artigos de inverno; incremento da indústria turística nas cidades serranas; interrupção dos fluxos aéreos e nas estradas/rodovias; comprometimento da produção agrícola.

**GRADE DE CORREÇÃO:**

**100% de acerto** - Apresentou duas consequências das condições climáticas sobre as atividades econômicas.

**50% de acerto** - Apresentou apenas uma consequência das condições climáticas sobre as atividades econômicas.

**25% de acerto** - Apresentou de forma imprecisa duas ou uma consequência das condições climáticas sobre as atividades econômicas.

**0% de acerto** - Não apresentou consequências das condições climáticas sobre as atividades econômicas.

**C** indique como a inversão térmica prejudica a saúde e o bem-estar da população paulistana.

**RESPOSTA**

No inverno pode ocorrer um rápido resfriamento do solo ou um rápido aquecimento das camadas atmosféricas superiores. Quando isso ocorre, o ar quente fica por cima da camada de ar frio, e não permite os movimentos verticais de convecção: o ar frio próximo ao solo não sobe porque é mais denso que o ar quente que está por cima. Acontecendo isso, os gases produzidos pelas chaminés e pelos veículos não se dispersam pelas correntes verticais, ficando nas proximidades do solo. A cidade fica envolta numa "neblina" e conseqüentemente a concentração de substâncias tóxicas aumenta muito. Este fenômeno afeta diretamente a saúde das pessoas, principalmente das crianças, provocando doenças respiratórias e cansaço entre outros problemas de saúde. Pessoas que possuem doenças como, por exemplo, bronquite e asma são as mais afetadas com esta situação.

**GRADE DE CORREÇÃO:**

**100% de acerto** - Explicou a inversão térmica e indicou como esta prejudica a saúde e o bem-estar da população paulistana.

**50% de acerto** - Explicou apenas a inversão térmica, mas não indicou como esta prejudica a saúde e o bem-estar da população paulistana.

**25% de acerto** - Indicou problemas de saúde e de bem-estar da população paulistana sem relacioná-los com a inversão térmica.

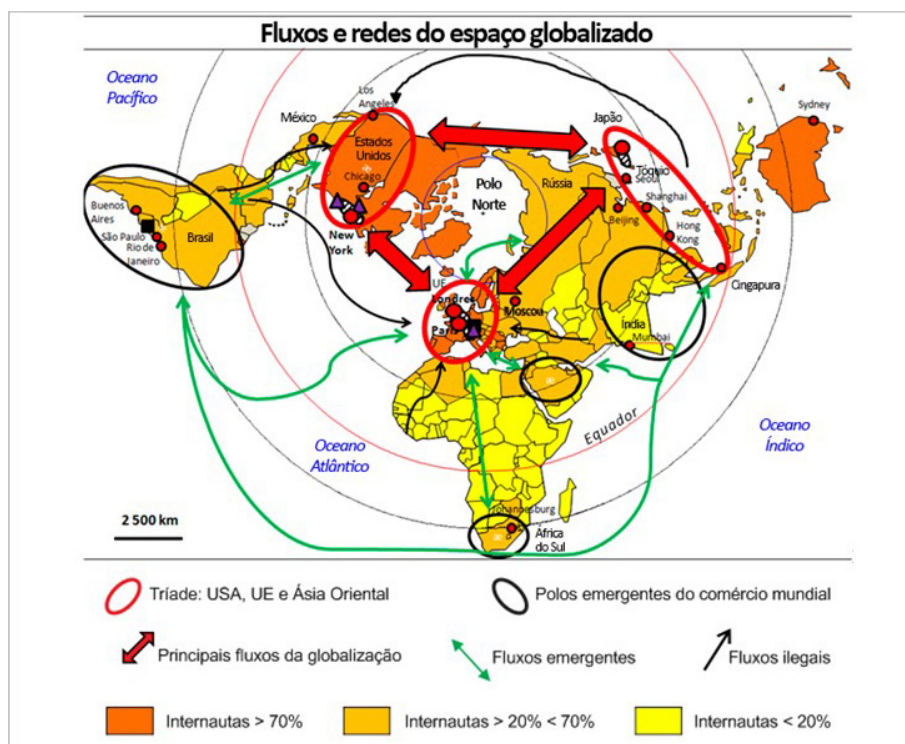
**0% de acerto** - Não explicou a inversão térmica; não apresentou problemas de saúde e de bem-estar da população paulistana.

## GEOGRAFIA

## QUESTÃO 2

A globalização, apoiada nos três grandes centros de impulsão da economia mundial, não impede que os Estados, as redes ou os indivíduos se organizem em diferentes escalas regionais ou locais.

Com base no texto acima e no mapa,



A indique duas medidas adotadas pelos países emergentes para se inserirem nos mercados globalizados;

## RESPOSTA

O candidato deve, entre outras medidas, indicar as seguintes:

- estímulos tributários, como forma de atrair os investidores.
- regulação do trabalho, mediante legislação específica.
- vantagens locacionais, como localização estratégica, infraestrutura eficiente ou ocorrência de determinado recurso natural,
- condições políticas e estabilidade jurídica.

## GRADE DE CORREÇÃO:

**100% de acerto** - Indicou corretamente duas medidas adotadas pelos países emergentes para se inserirem nos mercados globalizados.

**50% de acerto** - Indicou uma medida adotada pelos países emergentes para se inserirem nos mercados globalizados.

**25% de acerto** - Indicou de forma confusa uma medida adotada pelos países emergentes para se inserirem nos mercados globalizados.

**0% de acerto** - Indicou incorretamente medidas adotadas pelos países emergentes para se inserirem nos mercados globalizados.

## GEOGRAFIA

**QUESTÃO 2** (continuação)

**B** analise a lógica de implantação das empresas transnacionais nos países em desenvolvimento;

**RESPOSTA**

O candidato deve, entre outras medidas, indicar as seguintes:

- As empresas transnacionais estimulam a crescente concorrência entre territórios, para dividir a implantação física de suas unidades de produção.
- As empresas transnacionais organizam sua própria divisão de trabalho em escala mundial: concentram suas unidades de pesquisa e desenvolvimento em determinadas zonas geográficas (Vale do Silício, Califórnia, USA, por exemplo) mas deslocam suas unidades de produção em função de vantagens temporárias que um determinado país oferece (a Irlanda foi o foco dos investimentos diretos, na década de 1990); o leste da Ásia é, nas duas últimas décadas, a região que mais atrai as empresas transnacionais.

**GRADE DE CORREÇÃO:**

**100% de acerto** - Analisou corretamente a lógica de implantação das empresas transnacionais nos países em desenvolvimento.

**50% de acerto** - Analisou parcialmente a lógica de implantação das empresas transnacionais nos países em desenvolvimento.

**25% de acerto** - Apresentou, mas não analisou, a lógica de implantação das empresas transnacionais nos países em desenvolvimento.

**0% de acerto** - Apresentou incorretamente a lógica de implantação das empresas transnacionais nos países em desenvolvimento.

**C** avalie o papel da Organização Mundial do Comércio na regulação dos fluxos internacionais de comércio.

**RESPOSTA**

O candidato deve indicar:

- A OMC negocia a diminuição das barreiras comerciais. Ela procura, graças à diminuição negociada dos direitos alfandegários, favorecer tanto a circulação de mercadorias quanto de serviços.
- A OMC supervisiona a aplicação dos acordos já concluídos (como a rodada Uruguai). As discussões são muito demoradas porque as decisões devem ser tomadas pela unanimidade de seus membros.
- A OMC atua como árbitro dos conflitos comerciais. Sob sua supervisão, os Estados-membros negociam e assinam acordos que passam a constituir as regras jurídicas do comércio internacional.
- A OMC espera resolver as diferenças comerciais existentes entre os países membros, como, por exemplo, o protecionismo da União Europeia em relação à sua produção agrícola.
- A OMC estimula a conclusão de acordos que estabeleçam a liberalização dos serviços de telecomunicações e de produtos culturais e a ampliação dos fluxos de capitais.

**GRADE DE CORREÇÃO:**

**100% de acerto** - Avaliou com base, em pelo menos dois critérios, o papel da Organização Mundial do Comércio na regulação dos fluxos internacionais de comércio.

**50% de acerto** - Avaliou com base, em apenas um critério, o papel da Organização Mundial do Comércio na regulação dos fluxos internacionais de comércio.

**25% de acerto** - Indicou, sem avaliar, o papel da Organização Mundial do Comércio na regulação dos fluxos internacionais de comércio.

**0% de acerto** - Avaliou incorretamente o papel da Organização Mundial do Comércio na regulação dos fluxos internacionais de comércio.

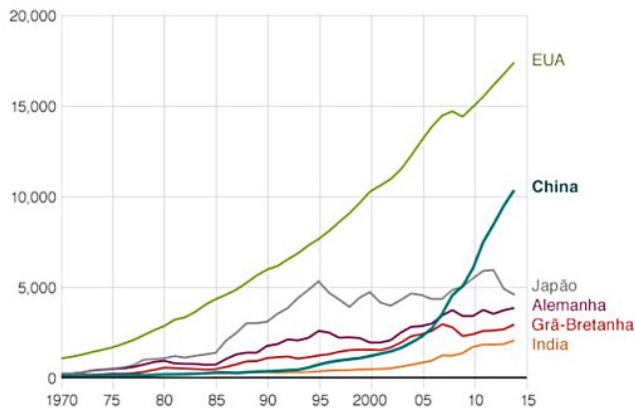
## GEOGRAFIA

## QUESTÃO 3

Durante três décadas a economia chinesa cresceu a uma taxa média de 10% ao ano. Embora este crescimento tenha desacelerado na última década, a China continua em expansão a uma taxa anual em torno de 7%, superior à das maiores economias mundiais. Diversos fatores foram responsáveis pelo sucesso da economia chinesa, embora nenhum deles, isoladamente, possa ser apontado como o principal.

## PIB em valores atuais em dólar, 1970-2014

Em bilhões de dólares



Fonte: Banco Mundial




Interior de uma fábrica de iPhones, em Chengchow, no norte da China.

Com base no texto acima, no gráfico e na foto;

A cite e explique dois fatores responsáveis pelo crescimento da economia chinesa;

## RESPOSTA

Entre os fatores que possibilitaram o ciclo de crescimento chinês acelerado e continuado durante as três últimas décadas, destacamos: • A liberalização do comércio exterior, medida tomada após 1978 e acelerada a partir do final da década de 1990 com vistas ao ingresso da China na Organização Mundial do Comércio, efetivado em dezembro de 2008; • A criação de Zonas Econômicas Especiais (ZEEs), onde eram concedidos diversos incentivos; inicialmente localizadas no litoral sul (sudeste?), permitiu o deslocamento da produção industrial de Hong Kong para o território vizinho chinês, sobretudo em setores mais intensivos em mão de obra; os bons resultados levaram o governo chinês a outras ZEEs ao longo do litoral; as áreas disponíveis para investimentos estrangeiros expandiram-se rapidamente, atingindo todo o litoral, no final da década de 1980, e alcançando o interior do país na década seguinte; • A existência de um grande contingente de mão de obra, mantendo baixos os salários, mesmo com crescimento elevado da demanda por trabalho; o custo unitário do trabalho, entre 1978 e 2006, não acompanhou o aumento da produtividade; • O gigantesco tamanho da população chinesa favoreceu a existência de economias de escala na maior parte das indústrias, com fortes impactos sobre o custo de produção; como exemplos, a China é a maior produtora mundial de televisores, de aço e de cimento; • O crescimento dos Investimentos Diretos Externos (IDEs); inicialmente as empresas multinacionais dirigiram-se quase que exclusivamente às ZEEs, onde receberam diversos incentivos fiscais, terrenos e edificações, além de poderem contar com o benefício de infraestrutura de energia e transporte e da localização ao lado de fornecedores e de outras industriais semelhantes, bem como de centros de pesquisa, incubadoras de empresas e laboratórios de ponta; essa localização privilegiada facilitou o surgimento de transbordamentos tecnológicos e teve papel relevante no desenvolvimento tecnológico chinês e na alteração da pauta de exportações, ao longo dos últimos 20 anos; • A política de incentivo à inovação e à transferência e geração de ciência e tecnologia estiveram intimamente ligadas aos incentivos a investidores estrangeiros; a permissão ou o incentivo a empresas estrangeiras estava condicionado à transferência de tecnologia ou de abertura de centros de P&D no país; após o ingresso na OMC, esses compromissos deixaram de ser ilegais. O agrupamento das indústrias, especialmente das intensivas em conhecimento, teve papel relevante no desenvolvimento tecnológico chinês e na alteração da pauta de exportações; Uma das principais características do desenvolvimento econômico da China nos últimos 30 anos foi o expressivo aumento do comércio exterior. Entre 1975 e 2008, as suas exportações saltaram de US\$ 7,7 bilhões para US\$ 1.428 bilhões, ao mesmo tempo em que as importações pularam de US\$ 7,9 bilhões para US\$ 1.133 bilhões. Esse extraordinário crescimento foi viabilizado pela política cambial, especialmente a forte desvalorização da moeda (o renminbi) entre 1990 e 1994, e os ganhos de competitividade da indústria chinesa possibilitada, por sua vez, pela liberalização das importações. No entanto, o comércio exterior somente começa a se tornar peça-chave para o crescimento da economia chinesa no final da década de 1980, quando tanto as exportações quanto as importações ultrapassam 15% do PIB.

## GRADE DE CORREÇÃO:

**100% de acerto** - Citou e explicou corretamente dois fatores responsáveis pelo crescimento da economia chinesa.

**50% de acerto** - Citou e explicou apenas um fator responsável pelo crescimento da economia chinesa.

**25% de acerto** - Apenas citou fatores responsáveis pelo crescimento da economia chinesa.

**0% de acerto** - Citou e/ou explicou incorretamente fatores responsáveis pelo crescimento da economia chinesa.

## GEOGRAFIA

**QUESTÃO 3** (continuação)

**B** avalie os custos sociais e ambientais do crescimento econômico para a sociedade chinesa;

**RESPOSTA**

Os salários, controlados pelo governo, colocam os operários chineses entre os que recebem a menor remuneração do mundo; em muitas empresas chinesas e estrangeiras, mesmo com a existência de legislação trabalhista, as condições de trabalho são muito duras, com longas jornadas de trabalho, sem descanso semanal e gerenciamento rígido; a desigualdade do padrão de vida entre áreas urbanas e áreas rurais é muito grande e a concentração da renda acentua essa desigualdade.

A utilização em larga escala de combustíveis fósseis (carvão mineral e petróleo) tem gerado uma grande poluição do ar; nos últimos anos os índices de particulados no ar se tornaram alarmantes; os habitantes respiram gases nocivos que provocam doenças respiratórias, entre outras. Os rios também têm sido vítimas desse crescimento econômico, apresentando altos índices de poluição devido ao lançamento de resíduos industriais, o que provoca efeitos negativos para a fauna e a saúde das pessoas.

**GRADE DE CORREÇÃO:**

**100% de acerto** - Avaliou, com base em dois critérios, os custos sociais e/ou ambientais do crescimento econômico para a sociedade chinesa.

**50% de acerto** - Avaliou com base em um critério um custo social ou um custo ambiental do crescimento econômico para a sociedade chinesa.

**25% de acerto** - Apenas indicou, sem avaliar, custos sociais e/ou ambientais do crescimento econômico para a sociedade chinesa.

**0% de acerto** - Avaliou, incorretamente, custos sociais e/ou ambientais do crescimento econômico para a sociedade chinesa.

**C** indique duas consequências da diminuição do ritmo de crescimento da China para a economia mundial.

**RESPOSTA**

Para os países exportadores de matérias primas energéticas e industriais, tais como petróleo, carvão, minérios em geral, e também produtos agrícolas, significa uma redução das exportações para a China, e, em muitos casos uma queda no superávit do balanço comercial entre China e o país exportador. Poderia ocorrer também uma redução dos investimentos diretos externos que a China faz hoje em numerosos países.

Hoje, os dirigentes da economia chinesa têm a intenção de atender o mercado consumidor interno. Esse movimento para dentro, se acompanhado de um aumento da renda per capita na China, pode significar, a médio ou longo prazo, encarecimento dos produtos chineses de exportação para um mundo que já se acostumou com os preços baixos dos produtos chineses.

**GRADE DE CORREÇÃO:**

**100% de acerto** - Indicou corretamente duas consequências da diminuição do ritmo de crescimento da China para a economia mundial.

**50% de acerto** - Indicou apenas uma consequência da diminuição do ritmo de crescimento da China para a economia mundial.

**25% de acerto** - Indicou de forma confusa uma consequência da diminuição do ritmo de crescimento da China para a economia mundial.

**0% de acerto** - Indicou incorretamente consequências da diminuição do ritmo de crescimento da China para a economia mundial.