



FAVC1902



03002001



FACULDADE DE CIÊNCIAS MÉDICAS DA
SANTA CASA
DE SÃO PAULO

002. PROVA DE CONHECIMENTOS ESPECÍFICOS E REDAÇÃO

Medicina

VESTIBULAR
1º Semestre
de 2020

- Confira seus dados impressos neste caderno.
- Nesta prova, utilize caneta de tinta preta.
- Assine apenas no local indicado. Será atribuída nota zero à questão que apresentar nome, rubrica, assinatura, sinal, iniciais ou marcas que permitam a identificação do candidato.
- Esta prova contém 20 questões discursivas e uma proposta de redação.
- A resolução e a resposta de cada questão devem ser apresentadas no espaço correspondente. Não serão consideradas respostas sem as suas resoluções, nem as apresentadas fora do local indicado.
- Encontra-se neste caderno a Tabela Periódica, que poderá ser útil para a resolução de questões.
- Esta prova terá duração total de 4h e o candidato somente poderá sair do prédio depois de transcorridas 3h, contadas a partir do início da prova.
- Os últimos três candidatos deverão se retirar juntos da sala.
- Ao final da prova, antes de sair da sala, entregue ao fiscal a Folha de Redação e o Caderno de Questões.

Nome do candidato

RG

Inscrição

Prédio

Sala

Carteira

USO EXCLUSIVO DO FISCAL

AUSENTE

Assinatura do candidato



FAVC1902



03002002



FAVC1902



03002003

QUESTÃO 01

Duas mulheres suecas estão carregando o útero de suas mães. Segundo os médicos responsáveis, esses são os primeiros transplantes de útero de mãe para filha. As cirurgias não tiveram complicações, mas os médicos só vão considerar o procedimento bem-sucedido se as mulheres conseguirem engravidar. Hormônios foram usados para estimular os ovários, que elas já tinham, para “amadurecer” os óvulos. Os cientistas vão fertilizar os óvulos com espermatozoides no laboratório e congelar os embriões que, depois de um tempo, serão transferidos para os úteros das pacientes se elas estiverem em boas condições de saúde.

(“Suecas recebem útero de suas próprias mães”. *Folha de S.Paulo*, 19.09.2012. Adaptado.)

- a) Uma mulher menstrua desde que não tenha problemas hormonais ou no útero. Qual tecido uterino é eliminado durante a menstruação? O que acontece com a musculatura uterina quando ocorrem as cólicas?
- b) Cite o hormônio que estimula os ovários a “amadurecer” os óvulos. Por que o transplante de órgãos, neste caso, o útero, entre mãe e filha, muitas vezes apresenta maior viabilidade que o transplante entre mulheres não aparentadas?

RASCUNHO

RESOLUÇÃO E RESPOSTA



FAVC1902



03002004

QUESTÃO 02

A molécula de DNA, existente no núcleo celular, é formada por duas fitas complementares. Uma dessas fitas pode servir de molde para a síntese de RNA mensageiro, que será traduzido em proteína pelos ribossomos. Em algumas células, esse “trabalho” metabólico pode ser realizado pelos polirribossomos.

- a) Qual tipo de ligação química ocorre entre as bases nitrogenadas, permitindo a complementariedade entre elas? Caso um segmento de DNA seja 3'ATACTC5', qual será sua fita complementar?
- b) Os polirribossomos sintetizam proteínas com o mesmo número, tipo e sequência de aminoácidos. Por que a sequência de aminoácidos é sempre igual após a tradução de uma mesma molécula de RNA mensageiro? O que existe na molécula de RNA mensageiro que indica o término da síntese proteica?

RASCUNHO

RESOLUÇÃO E RESPOSTA



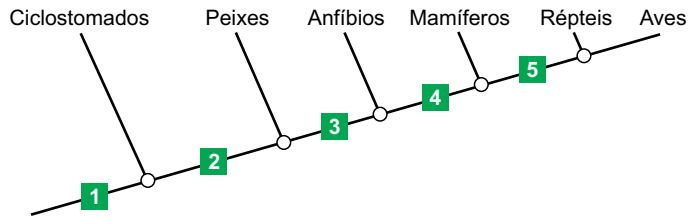
FAVC1902



03002005

QUESTÃO 03

Analise a árvore filogenética hipotética, que ilustra os possíveis graus de parentesco entre alguns grupos de animais cordados.



- a) Dê um exemplo de animal pertencente ao grupo dos ciclostomados. O que representam os nós indicados pelos círculos no esquema?
- b) Qual número indica o surgimento da mandíbula? Qual foi a principal vantagem adaptativa do surgimento da mandíbula para os animais?

RASCUNHO

RESOLUÇÃO E RESPOSTA



FAVC1902



03002006

QUESTÃO 04

A maioria dos líquens são associações entre dois organismos: fungos ascomicetos e algas verdes. Eles vivem em associação mutualística, em que cada um acumula carboidratos típicos e apresenta metabolismo próprio, mas os dois seres vivos são beneficiados.

- a) Cite os polissacarídeos de reserva encontrados em fungos e em algas verdes.
- b) Explique por que um Líquen pode ser drasticamente afetado se for mantido por um longo período no escuro.

RASCUNHO

RESOLUÇÃO E RESPOSTA



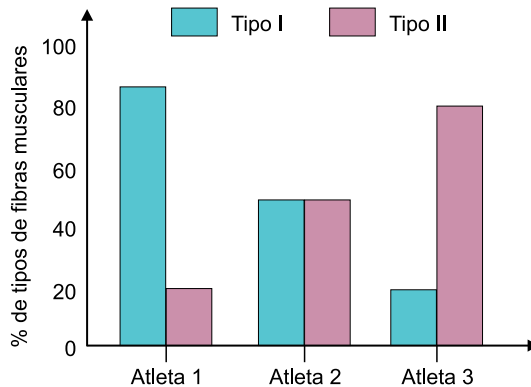
FAVC1902



03002007

QUESTÃO 05

O corpo humano possui dois tipos de fibras musculares esqueléticas: I e II. As fibras do tipo I possuem várias mitocôndrias, maior irrigação sanguínea e maior quantidade de mioglobina. Já as fibras do tipo II possuem poucas mitocôndrias e pouca mioglobina. O gráfico ilustra a variação na quantidade dessas fibras em atletas que realizam diferentes atividades físicas.



- a) A classificação do tipo de fibra está relacionada a qual proteína muscular? Qual é a importância da mioglobina para a fisiologia da fibra muscular?
- b) Qual desses indivíduos deve ser um velocista (corredor de 100 metros)? Como as fibras musculares desse atleta conseguem formar rapidamente moléculas de ATP?

RASCUNHO

RESOLUÇÃO E RESPOSTA

Empty box for the resolution and answer.



FAVC1902



03002008

QUESTÃO 06

O elemento nitrogênio é encontrado na natureza na forma inorgânica. Todos os seres vivos necessitam desse elemento para sintetizar algumas moléculas orgânicas, que são imprescindíveis para a hereditariedade.

- a) Qual a fórmula química da substância inorgânica nitrogenada encontrada no ar atmosférico? Qual grupo de substâncias orgânicas que atua na hereditariedade contém nitrogênio?
- b) Suponha uma cadeia alimentar em que o ser humano consuma soja. Qual o número mínimo de seres vivos pelos quais o nitrogênio passou até chegar ao ser humano? Justifique sua resposta.

RASCUNHO

RESOLUÇÃO E RESPOSTA



FAVC1902



03002009

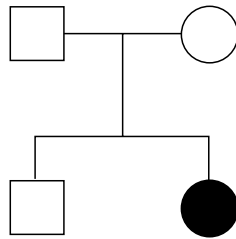
QUESTÃO 07

A galactosemia é uma doença autossômica monogênica causada pela deficiência nas enzimas que metabolizam a galactose, o que causa acúmulo dessa substância no sangue. Caso uma criança com essa doença consuma alimento com galactose, ela pode apresentar vômitos, icterícia e atraso no desenvolvimento.

A fenilcetonúria também é uma doença autossômica monogênica, causada pelo acúmulo do aminoácido fenilalanina no sangue. Caso um recém-nascido com essa doença consuma o aminoácido, ele pode ter deficiência intelectual.

Sabe-se que os genes que determinam as referidas doenças segregam-se independentemente durante a meiose.

- a) A galactosemia e a fenilcetonúria podem ser detectadas no “teste do pezinho”, que é realizado logo após o nascimento de um bebê. Qual material biológico é coletado para se realizar o “teste do pezinho”? Em qual alimento de origem animal é encontrada a galactose?
- b) No heredograma, a mulher destacada apresenta as duas doenças. Qual o genótipo dessa mulher, referente às duas doenças? Qual a probabilidade de o irmão dessa mulher ser portador dos alelos responsáveis pelas duas doenças?

**RASCUNHO****RESOLUÇÃO E RESPOSTA**



FAVC1902

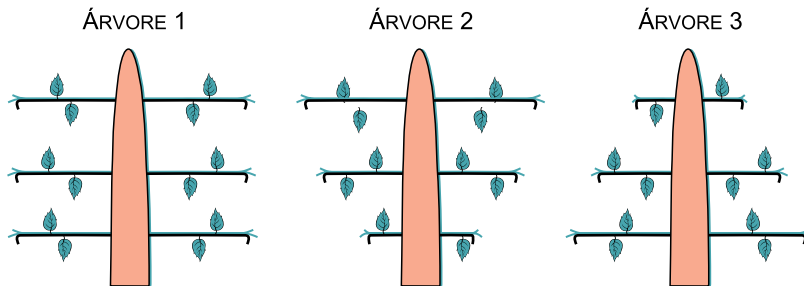


03002010

QUESTÃO 08

A dominância apical é um fenômeno fisiológico que ocorre em muitos vegetais. Nele, as gemas apicais produzem hormônios que têm ação sobre as gemas laterais.

Analise as figuras que representam possíveis formas das copas das árvores.



- a) Qual das figuras melhor representa a forma da copa determinada pelo fenômeno da dominância apical? Cite o principal hormônio envolvido nesse fenômeno.
- b) Qual o efeito da poda da gema apical no crescimento longitudinal do caule? Qual mecanismo explica o desenvolvimento das gemas laterais após a realização da poda da gema apical?

RASCUNHO

RESOLUÇÃO E RESPOSTA



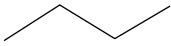
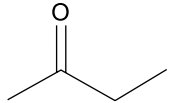
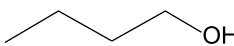
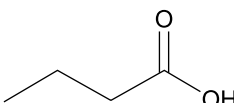
FAVC1902



03002011

QUESTÃO 09

Entre as propriedades mais estudadas dos compostos orgânicos estão a capacidade de sofrer combustão, a solubilidade em água e a volatilidade. Considere as informações apresentadas a seguir.

Substância	Fórmula estrutural	Massa molar (g/mol)	Solubilidade em água (g/L)	Ponto de ebulição (°C)
Butano		58	$6,1 \times 10^{-2}$	-0,5
Butanona		72	290	80
Butan-1-ol		74	90	118
Ácido butanoico		88	miscível	163

- a) Qual das substâncias apresentadas na tabela é a mais polar? Determine a massa de butan-1-ol dissolvida em 250 mL de uma solução saturada dessa substância.
- b) Equacione a reação de combustão completa do butan-1-ol. Explique por que o butan-1-ol apresenta maior ponto de ebulição que a butanona, apesar de suas massas molares serem muito próximas.

RASCUNHO**RESOLUÇÃO E RESPOSTA**



FAVC1902



03002012

QUESTÃO 10

A hidroponia consiste no cultivo de vegetais sem solo, ou seja, as raízes das plantas ficam mergulhadas em uma solução nutritiva que contém os sais minerais necessários para seu desenvolvimento. Como o controle individual da concentração de cada um dos sais minerais é muito trabalhoso e, muitas vezes, financeiramente inviável, realiza-se um controle dessa concentração por meio da medida da condutividade elétrica da solução nutritiva. A tabela a seguir apresenta a concentração de alguns sais minerais existentes em uma solução nutritiva para hidroponia.

Substância	Concentração (mg/L)
$\text{Ca}(\text{NO}_3)_2$	738
KNO_3	505

- a) Qual a relação entre a condutividade elétrica e a concentração de sais na solução? Se a condutividade elétrica estiver alta, qual componente da solução deve ser adicionado?
- b) Qual cátion apresenta maior concentração, em mol/L, na solução nutritiva?

RASCUNHO

RESOLUÇÃO E RESPOSTA



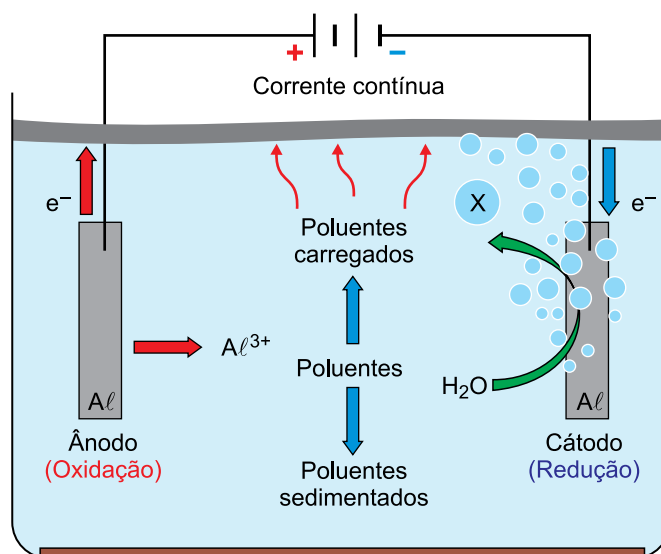
FAVC1902



03002013

QUESTÃO 11

A água residual da indústria do biodiesel pode ser tratada por eletrofloculação. Nessa técnica, dois eletrodos metálicos ligados a uma fonte de corrente contínua são imersos na água. A oxidação do ânodo produz um floculante, que é o hidróxido do metal utilizado na formação do eletrodo. No cátodo ocorre a redução da água, formando íons hidróxido e microbolhas do gás X, que grudam nos flocos de sujeira, carregando o material floculado para a superfície.



(rd.uffs.edu.br. Adaptado.)

- a) Escreva a fórmula química do floculante produzido pela oxidação do ânodo. Cite a técnica de separação de misturas envolvida no carregamento dos poluentes para a superfície da solução.
- b) Equacione a reação de produção do gás X formado no cátodo a partir da redução da água. Considerando o volume molar nas CNTP igual a 22,4 L/mol, calcule o volume de gás produzido, nas CNTP, quando a fonte de corrente contínua fornece uma carga elétrica de 0,4 Faraday.

RESOLUÇÃO E RESPOSTA



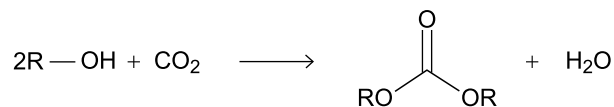
FAVC1902



03002014

QUESTÃO 12

A fixação de CO_2 é um recurso utilizado para ajudar a reduzir a concentração desse gás na atmosfera, o que, por sua vez, ajuda a retardar a intensificação do aquecimento global. Uma das técnicas mais promissoras para a fixação de CO_2 é a produção de carbonatos orgânicos, utilizados como solventes de impacto ambiental reduzido. A equação genérica de formação de um carbonato orgânico é:



- a) Identifique a geometria do carbono na molécula de CO_2 . Identifique a geometria do carbono ligado à carbonila na molécula de carbonato orgânico.
- b) Considerando que R seja o radical etil, cite o nome da substância que reage com o CO_2 para a formação do carbonato orgânico. Escreva a fórmula estrutural do carbonato orgânico formado pela substituição de R pelo radical etil.

RASCUNHO

RESOLUÇÃO E RESPOSTA



FAVC1902



03002015


QUESTÃO 13

Ao decolar de uma pista plana e horizontal, um avião de massa total igual a $7,0 \times 10^4$ kg parte do repouso e atinge a velocidade de 60 m/s após 30 segundos.

- a) Considerando que nesse intervalo de tempo um dos pneus desse avião efetuou 360 voltas completas, calcule a velocidade angular média desse pneu, em rad/s. Apresente o resultado em função de π .
- b) No instante em que a velocidade era 60 m/s, a aceleração do avião era $2,0 \text{ m/s}^2$ e seus motores desenvolviam uma potência total de $1,2 \times 10^7$ W. Calcule a intensidade da resultante das forças de resistência, em newtons, que atuavam, na direção horizontal, sobre o avião nesse instante.

RASCUNHO

RESOLUÇÃO E RESPOSTA



FAVC1902



03002016

QUESTÃO 14

Em um local em que a aceleração gravitacional é igual a 10 m/s^2 e a pressão atmosférica é $1,0 \times 10^5 \text{ Pa}$, há um recipiente, com fundo plano e horizontal, que contém água, cuja massa específica é $1,0 \times 10^3 \text{ kg/m}^3$, até a altura de 80 cm.

- a) Calcule a pressão exercida apenas pela massa de água e a pressão total sobre o fundo do recipiente, em pascals.
- b) Adiciona-se na água certa quantidade de álcool e agita-se a mistura até que fique homogênea. Em seguida, uma esfera de massa 3,0 kg e volume $2,0 \times 10^{-3} \text{ m}^3$ é inserida no recipiente que contém a mistura dos dois líquidos e fica totalmente submersa, sob a ação de uma força de empuxo igual a 19 N. Calcule as densidades, em kg/m^3 , da esfera e da mistura.

RASCUNHO**RESOLUÇÃO E RESPOSTA**



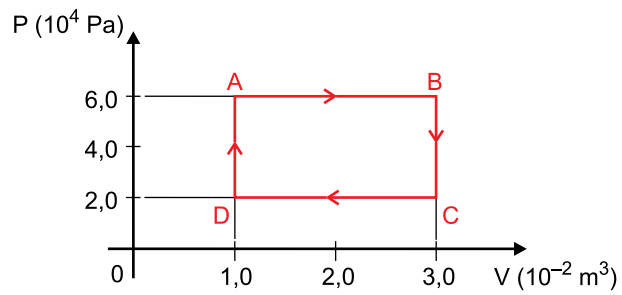
FAVC1902



03002017

QUESTÃO 15

Uma máquina térmica funciona sob o ciclo ABCDA mostrado na figura.



- a) Sabendo que o gás contido nessa máquina é ideal e que sua temperatura no ponto B é 2700 K, calcule a temperatura do gás, em °C, no ponto D.
- b) Sabendo que a máquina desenvolve uma potência útil de $1,2 \times 10^4$ W, calcule o número de ciclos que ela realiza a cada segundo.

RASCUNHO

RESOLUÇÃO E RESPOSTA



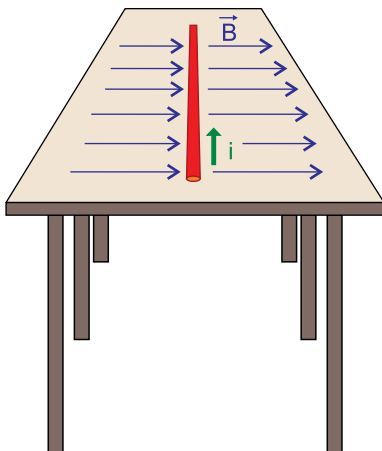
FAVC1902



03002018

QUESTÃO 16

Um fio condutor, retilíneo e homogêneo, de peso $0,70\text{ N}$, comprimento $2,0\text{ m}$ e área da secção transversal igual a $2,0 \times 10^{-6}\text{ m}^2$, é percorrido por uma corrente elétrica de intensidade $3,0\text{ A}$ e está em repouso sobre uma mesa plana e horizontal. Nessa região, há um campo magnético uniforme \vec{B} , de direção horizontal e perpendicular à direção do comprimento do fio, como mostra a figura.



- a) Sabendo que a diferença de potencial entre as extremidades do fio é igual a $1,5\text{ V}$, calcule a resistividade do material, em $\Omega \cdot \text{m}$, que constitui o fio.
- b) Considerando que a intensidade do campo magnético \vec{B} é $0,10\text{ T}$ e desprezando a ação do campo magnético da Terra, calcule a intensidade da força que a mesa exerce sobre o fio, em newtons.

RASCUNHO**RESOLUÇÃO E RESPOSTA**



FAVC1902



03002019

QUESTÃO 17

Leia o poema de Manuel Bandeira.

Minha terra

Saí menino de minha terra.
Passei trinta anos longe dela.
De vez em quando me diziam:
Sua terra está completamente mudada,
Tem avenidas, arranha-céus...
É hoje uma bonita cidade!

Meu coração ficava pequenino.

Revi afinal o meu Recife.
Está de fato completamente mudado.
Tem avenidas, arranha-céus.
É hoje uma bonita cidade.

Diabo leve quem pôs bonita a minha terra!

(Estrela da vida inteira, 2009.)

- a) Que sentimento expressa o eu lírico após rever Recife? Transcreva o trecho do poema que confirma sua resposta.
- b) “De vez em quando me diziam: Sua terra está completamente mudada. Tem avenidas, arranha-céus. É hoje uma bonita cidade.”
Esse trecho reproduz em prosa quatro versos do poema. Reescreva-o em discurso indireto, mantendo o sentido original e fazendo os ajustes necessários.

RASCUNHO

RESOLUÇÃO E RESPOSTA



FAVC1902



03002020

QUESTÃO 18

Considere o trecho inicial de uma crônica de Carlos Drummond de Andrade.

Você me pede notícias do Rio e dos acontecimentos, mas eu só posso contar-lhe de minha praia. Não pense que comprei uma: a que eu habito é de todos, e cada um a possui a seu modo. Questões de limites, não as temos; vinte centímetros de separação entre as barracas dá para que os vizinhos se ignorem oficialmente, como se fossem antípodas. Com o evolover do sol, os círculos de sombra se vão convertendo em elipses, o proprietário vê fugir-lhe a propriedade, vai afinando, afinando, mas ele não faz um gesto para detê-la. Nosso bem maior é o ar, e sua disponibilidade; e em conexão com o ar, a massa líquida em que abrimos apenas um sulco de homem, logo fechado. Ar, água e areia: eis nosso reino, que dá para milhões.

(*A bolsa e a vida*, 2008.)

- a) Em “o proprietário vê fugir-lhe a propriedade”, a que elementos do contexto o autor se refere, respectivamente, com “proprietário” e “propriedade”? Como eles se articulam nessa pequena cena?
- b) “Não pense que comprei uma: a que eu habito é de todos, e cada um a possui a seu modo.” No segmento sublinhado há duas orações. Qual é o sujeito de cada uma delas?

RASCUNHO

RESOLUÇÃO E RESPOSTA



FAVC1902



03002021

QUESTÃO 19

Leia o texto de Adilson Citelli.

A revista americana *Newsweek* se fazia anunciar, em cartazes publicitários afixados em alguns pontos de vendas, como aquela que não persuadia, mas informava. Afora querer convencer-nos acerca do conhecido mito da neutralidade jornalística, a revista parecia desejava de exorcizar(-se?) um demônio que vincula à persuasão alguns qualificativos como fraude, engodo, mentira. Deixar claro, nesse caso, uma atitude antipersuasiva objetiva fixar uma imagem de respeitabilidade/credibilidade junto aos leitores. Supondo-se que a revista espelhasse a mais completa lisura, o mais profundo aferramento aos princípios de uma informação incontaminada pela presença de interesses vários, ainda assim estaria ela isenta do ato persuasivo? A resposta é não. Afinal, o próprio *slogan* da revista, *aquela que não persuade*, já nos remete à ideia de que estamos diante de um veículo marcado pela correção e honestidade, *diferente de outros*, e no qual o leitor pode confiar plenamente. De certo modo, o ponto de vista do receptor é dirigido por um emissor que, mais ou menos oculto, e falando quase impessoalmente, constrói sob a sutil forma da negação uma afirmação cujo propósito é o de persuadir alguém acerca da verdade de outrem. Isso nos revela a existência de graus de persuasão: alguns mais ou menos visíveis, outros mais ou menos mascarados.

(*Linguagem e persuasão*, 1995.)

- a) A respeito do anúncio da *Newsweek*, o autor do texto percebe uma contradição. Qual?
- b) Considerado o contexto, que significado tem “-se?” em “exorcizar(-se?)”? Explique.

RASCUNHO

RESOLUÇÃO E RESPOSTA



FAVC1902



03002022

QUESTÃO 20

Considere o trecho do romance *Memórias póstumas de Brás Cubas*, de Machado de Assis.

Virgília? Mas então era a mesma senhora que alguns anos depois...? A mesma; era justamente a senhora, que em 1869 devia assistir aos meus últimos dias, e que antes, muito antes, teve larga parte nas minhas mais íntimas sensações. Naquele tempo contava apenas uns quinze ou dezesseis anos; e era talvez a mais atrevida criatura da nossa raça, e, com certeza, a mais voluntariosa. Não digo que já lhe coubesse a primazia da beleza, entre as mocinhas do tempo, porque isto não é romance, em que o autor sobredoura a realidade e fecha os olhos às sardas e espinhas; mas também não digo que lhe maculasse o rosto nenhuma sarda ou espinha, não. Era bonita, fresca, saía das mãos da natureza, cheia daquele feitiço, precário e eterno, que o indivíduo passa a outro indivíduo, para os fins secretos da criação. Era isto Virgília, e era clara, muito clara, faceira, ignorante, pueril, cheia de uns ímpetos misteriosos; muita preguiça e alguma devoção, — devoção, ou talvez medo; creio que medo.

(*Memórias póstumas de Brás Cubas*, 2008.)

- a) No trecho “cheia daquele feitiço, precário e eterno, que o indivíduo passa a outro indivíduo”, os termos sublinhados constituem uma figura de linguagem. De que figura se trata? Justifique.
- b) Em uma passagem do texto, está implícita uma crítica a determinado movimento literário. Identifique a passagem, o movimento literário e a respectiva característica criticada.

RASCUNHO

RESOLUÇÃO E RESPOSTA



FAVC1902



03002023

REDAÇÃO

TEXTO 1

Em *Casa-grande & senzala*, obra publicada em 1933, Gilberto Freyre oferece um novo modelo para a sociedade multirracial brasileira, invertendo o antigo pessimismo. O “cadinho¹ das raças” aparecia como uma versão otimista do mito das três raças: “Todo brasileiro, mesmo o alvo, de cabelo louro, traz na alma quando não na alma e no corpo, a sombra, ou pelo menos a pinta, do indígena e/ou do negro”, o que tornava a mestiçagem uma questão de ordem geral.

Era assim que o cruzamento de raças passava a singularizar a nação nesse processo que leva a miscigenação entre diferentes grupos sociais a se transformar num modelo de sociabilidade. A novidade do seu argumento estava em destacar a intimidade do lar, suavizar a vida dura do eito² e fazer de tudo material de exaltação: enfim uma “boa escravidão”, como se essa não fosse uma contradição em seus termos.


Em resumo, a proposta do livro era repisar, sob novo ângulo, a ideia de uma sociedade misturada e pioneira em função da ausência de segregação e de uma miscigenação extremada e feliz. Gilberto Freyre executou a façanha analítica de dar caráter positivo ao mestiço — atribuindo a ele não o atraso do país, e sim sua grande vantagem de futuro.

(Líliá Moritz Schwarcz e Heloisa Murgel Starling. *Brasil: uma biografia*, 2015. Adaptado.)

¹ cadinho: recipiente em material refratário, geralmente de barro, ferro ou platina, utilizado para as reações químicas em altas temperaturas.

² eito: roça em que trabalhavam escravos.

TEXTO 2




“Machado de Assis era um homem negro. O racismo o retratou como branco”. Essas são as primeiras frases da campanha feita pela Faculdade Zumbi do Palmares, de São Paulo, em parceria com a agência de publicidade Grey. A ação, lançada em abril — no mês do Dia Mundial do Livro —, tem como propósito ressaltar a identidade negra de um dos maiores escritores brasileiros e fundador da Academia Brasileira de Letras.

Com o título “Machado de Assis Real”, o projeto incentiva que as pessoas participem de um abaixo-assinado para que as editoras parem de publicar livros com fotos nas quais ele aparece embranquecido e substitua a fotografia distorcida por uma em que o autor apareça com cor e traços físicos negros.

No manifesto da iniciativa, a universidade ainda afirma que “o racismo escondeu quem ele era por séculos. Sua foto oficial, reproduzida até hoje, muda a cor da sua pele, distorce seus traços e rejeita sua verdadeira origem” e diz que “já passou da hora de esse erro ser corrigido”.

Luiz Maurício Azevedo, editor-executivo da editora Figura de Linguagem e pós-doutor em Literatura Brasileira pela Universidade Federal do Rio Grande do Sul (UFRGS), ressalta que “popularmente, pessoas negras estão ligadas à força física e à animalização, não a seu potencial intelectual. Quando estes indivíduos ganham projeção por seu talento na literatura, por exemplo, criam-se mecanismos para manter os negros no lugar de subcategoria. Por isso, transformam uma pessoa negra em branca, porque socialmente negras e negros ‘não podem ter’ o status de autor. E a história valeu-se da frágil documentação da época para reforçar a imagem de um Machado de Assis não negro. O Brasil promove a hierarquia das raças por ter suprimido aquilo que era entendido como diferente”. E acrescenta: “Este país vive em conflito, não vivemos em harmonia como prega a democracia racial. Houve e ainda há derramamento de sangue”.

(Iarema Soares. “Campanha de universidade recria foto de Machado de Assis para retratá-lo negro”. <https://gauchazh.clicrbs.com.br>, 01.05.2019. Adaptado.)



FAVC1902



03002024

TEXTO 3

“Quanto mais acentuados os traços faciais que evidenciam a origem negra-africana, maior é o impacto do racismo sobre as pessoas. Assim, socialmente, quanto mais clara a pessoa negra, maiores chances de êxito na vida ela terá, o que não significa que ela também não seja vítima de racismo”. A explicação dada por Renata Aparecida Felinto dos Santos, professora adjunta de Teoria da Arte e de Cultura Africana e Afro-Brasileira na Universidade Regional do Cariri (CE), é o início da compreensão sobre o que é colorismo. Esse conceito é relativamente recente. Foi cunhado em 1982 pela escritora Alice Walker, no ensaio “If the present looks like the past, what does the future look like?” (em português, “Se o presente parece o passado, com o que parece o futuro?”).

Presidente do Conselho Municipal de Política e Cultura de Londrina (PR) e especialista em comunicação popular e comunitária, Luiza Braga esclarece que o colorismo se trata de algo muito ligado à estética: “A aceitação de uma pessoa negra pela sociedade é julgada pelos traços mais finos, os cabelos mais lisos. Isso não tira a negritude de quem é mais claro. Esse indivíduo tem a consciência de que é discriminado por ser negro, mas que não sofre tanto quanto o negro de pele escura.” Já a advogada Elisama Santos, que hoje atua como escritora e educadora parental, afirma que “A sociedade quer embranquecer o negro. Se perceber que a pele mais clara permite uma adequação ao padrão eurocêntrico, haverá uma força para que os cabelos sejam alisados, para que se use uma maquiagem que ‘disfarce’ os traços negros. É uma pressão que as pessoas muitas vezes nem percebem, pois está incrustada na convivência”. É importante destacar que, quanto mais clara for a pessoa negra, a mais privilégios ela terá acesso, mas sempre será uma pessoa negra.

(Raquel Drehmer. “Entenda o que é e como funciona o colorismo”. <https://mdemulher.abril.com.br>, 08.05.2019. Adaptado.)

Com base nos textos apresentados e em seus próprios conhecimentos, escreva um texto dissertativo-argumentativo, empregando a norma-padrão da língua portuguesa, sobre o tema:

LEGADO DA ESCRAVIDÃO NO BRASIL: ENTRE O RACISMO E A DEMOCRACIA RACIAL



FAVC1902



03002025

Os rascunhos não serão considerados na correção.

Lined writing area consisting of 25 horizontal lines.

RASCUNHO

NÃO ASSINE ESTA FOLHA



FAVC1902



03002027

Os rascunhos não serão considerados na correção.

RASCUNHO

NÃO ASSINE ESTA FOLHA



FAVC1902



03002028